

北京博飞华侨港澳台联考试题

地理部分 41-51

-----中国地形

一、选择题

1. 新疆地形特点是“三山夹两盆”，以下地形区不在其列的是（ ）
A. 天山 B. 准噶尔盆地
C. 祁连山 D. 昆仑山
2. 下列地形区分别位于我国第一、二、三级阶梯的是（ ）
A. 青藏高原、山东丘陵、四川盆地
B. 青藏高原、黄土高原、华北平原
C. 云贵高原、内蒙古高原、长江中下游平原
D. 青藏高原、东南丘陵、东北平原
3. 读右图从世界大洲和大洋看，我国位于（ ）



- A. 亚洲西部，大西洋东岸
 - B. 欧洲西部，大西洋东岸
 - C. 亚洲南部，印度洋北岸
 - D. 亚洲东部，太平洋西岸
- 读图，回答问题。



4. 图中四省区中，临海的是（ ）
A. ① B. ② C. ③ D. ④
5. 图中四省区中，纬度最高、位置最偏东的是（ ）
A. ① B. ② C. ③ D. ④
6. 图中四省区中，少数民族最多的是（ ）
A. ① B. ② C. ③ D. ④

7. 如下图，甲地形区是：（ ）



- A. 青藏高原 B. 柴达木盆地
C. 四川盆地 D. 塔里木盆地


8. 下列关于我国地形对环境影响的叙述正确的是（ ）

①西高东低的地势，便于海洋水汽西进，季风区广 ②地势阶梯分界线附近的河段落差大，水能丰富 ③地形类型多样，平原面积广大 ④山区面积广，有利于多种农作物的生长

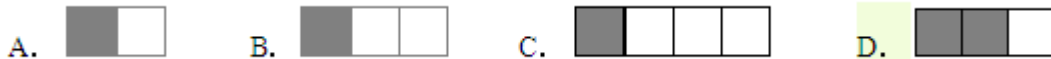
- A. ①② B. ②③ C. ③④ D. ②④

我国地势西高东低，呈阶梯状分布；地形多种多样，山区面积广大，据此回答下列问题。

9. 如图中能正确表示我国地形分布的是（ ）



10. 下列地形结构示意图中（阴影部分表示山区的比例）其中符合我国实际的是（ ）



11. 位于地势第二级阶梯，内有丘陵分布，并且没有绿洲的盆地是（ ）

- A. 塔里木盆地 B. 柴达木盆地
C. 四川盆地 D. 准噶尔盆地

12. 读我国各类地形面积比例示意图，下列关于我国地形特征的说法正确的是（ ）



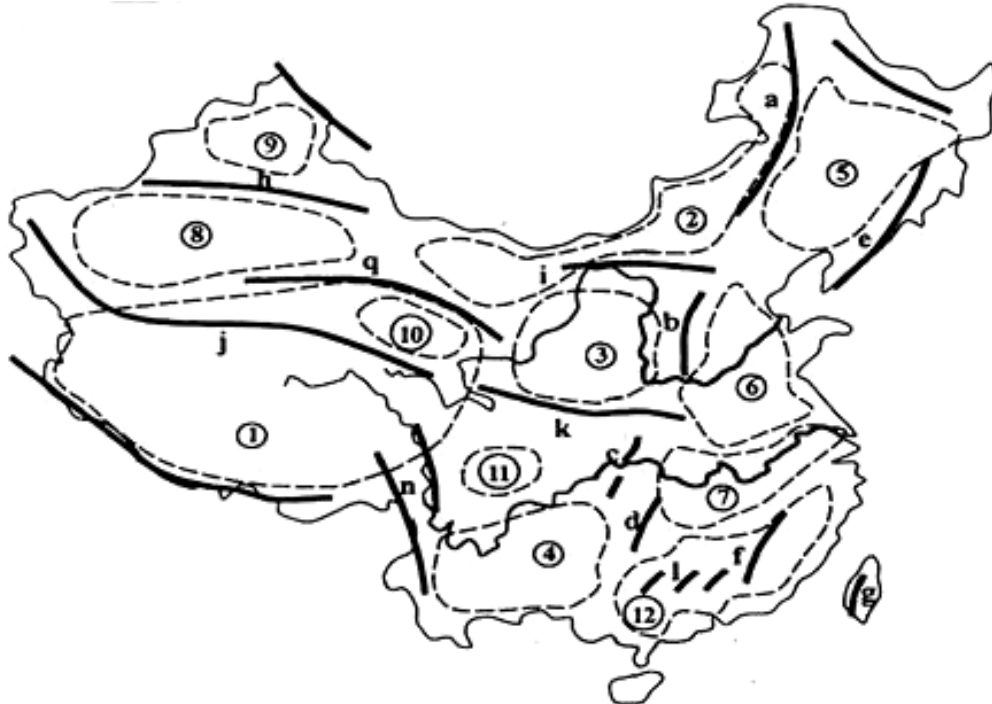
- A. 地形多种多样，山地面积广大
B. 地形多种多样，高原面积广大
C. 地形多种多样，平原面积广大
D. 地形多种多样，山区面积广大

13. 下列山脉中，与其他三座山脉走向不同的是（ ）

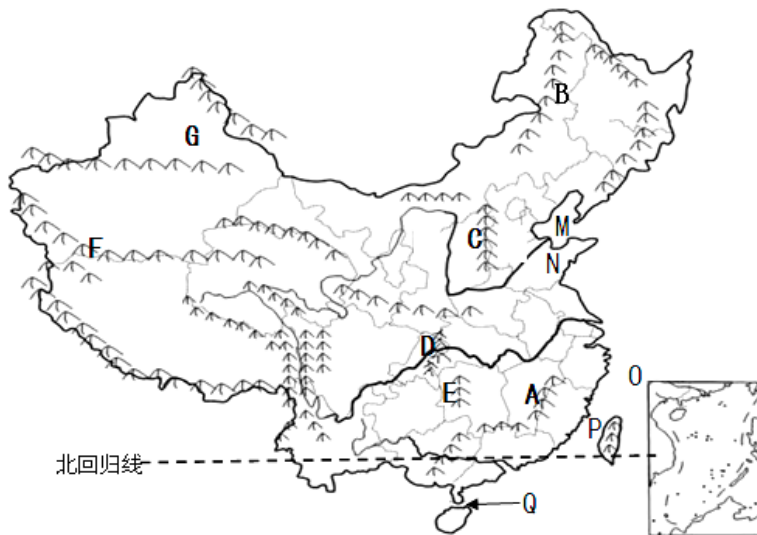
A. 大兴安岭 B. 南岭 C. 长白山 D. 台湾山脉

二、综合题

14. 读中国主要地形区分布图，完成下列各小题。



- (1) 地形区⑤是_____，位于中国地势的第_____阶梯。
 - (2) 山脉b是_____，山脉以东是_____（填地形区），山脉以西是_____（填地形区）。
 - (3) 写出k山脉的关于地理分界线的地理意义（任写2点）。
15. 读图中国地形图，回答下列问题。



- (1) 北回归线自西向东穿过我国省级行政单位依次是_____、_____、_____、_____。
- (2) 写出图中字母代表的地理事物名称、并判断属于我国内海的海域。
M为_____海；N为_____半岛；P为_____海峡；
内海是：_____、_____（填字母）
- (3) A山脉名称_____，走向是_____，其西侧省区的行政中心是_____。

- (4) 写出下列山脉两侧的地形区名称
D 东侧_____；西侧
F 北侧_____；南侧
C 东侧_____；西侧
(5) G 是 _____ 盆地，其北侧的山脉是 _____
(6) 沿 B—C—D—E 山脉一线形成的我国地理分界线名称是_____。

参考答案

1. C
2. B
3. D
4. B
5. D
6. A
7. B
8. A
9. B
10. D
11. C
12. D
13. B
14.
 - (1) 东北平原 三
 - (2) 太行山 华北平原 黄土高原
 - (3) 南北方分界线；亚热带与暖温带分界线；水田与旱地分界线；常绿阔叶林与落叶阔叶林分界线。
15.
 - (1) 云（滇）、桂、粤、台
 - (2) 渤、山东、台湾、M、Q
 - (3) 武夷山、东北—西南、南昌
 - (4) 长江中下游平原、四川盆地
塔里木盆地、青藏高原
华北平原、黄土高原
 - (5) 准噶尔、阿尔泰山
 - (6) 二、三级阶梯分界线