

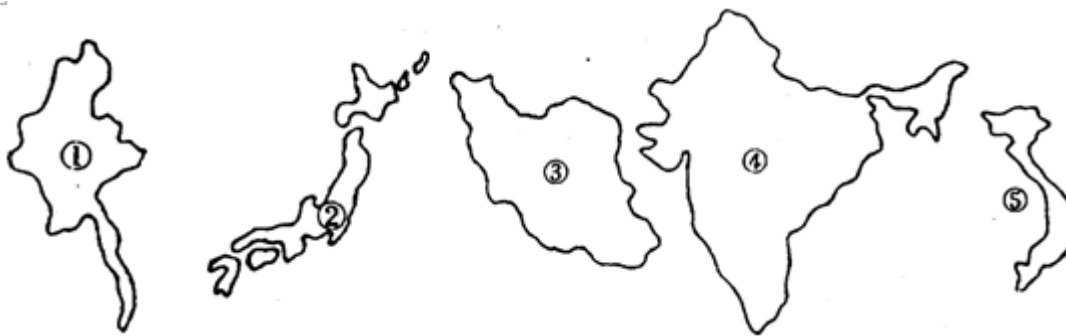
北京博飞华侨港澳台联考试题

地理部分 32-51

-----东南亚

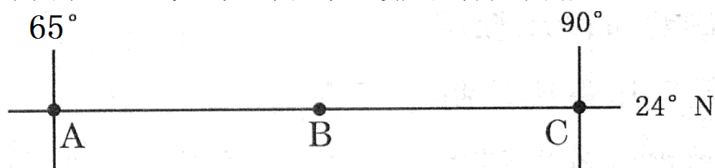
一、选择题

1. 当前世界上天然橡胶和油棕的最大产地在 ()
A. 撒哈拉以南的非洲地区 B. 拉丁美洲
C. 南亚 D. 东南亚
 2. 下列关于东南亚主要农产品和矿产与其出口最多国家的连线, 正确的是 ()
A. 椰子——马来西亚 B. 蕉麻——泰国
C. 石油——印度尼西亚 D. 天然橡胶——菲律宾
- 比较下列五个亚洲国家, 完成以下问题。



3. 位于东南亚的一组国家是: ()
A. ①② B. ③④ C. ①⑤ D. ④⑤
4. 与我国相邻的一组国家是: ()
A. ①②③ B. ②④⑤
C. ③④⑤ D. ①④⑤

下图中, AC 线地跨三个国家, 读后回答以下问题。



5. A 地气候特征是: ()
A. 最冷月均温小于 0℃ B. 终年炎热干燥
C. 具有干湿二季 D. 终年高温多雨
6. B 国地形自北向南依次是: ()
A. 山地、高原、盆地 B. 山地、平原、高原
C. 高原、山地、平原 D. 山地、平原、盆地
7. 下列说法, 正确的是: ()
A. C 国地处亚欧板块
B. A 国和 C 国的居民多信奉伊斯兰教
C. 布拉马普特拉河源于我国, 流经 B 国, 在 A 国人海

D. B 国是亚洲耕地面积、人口密度最大的国家

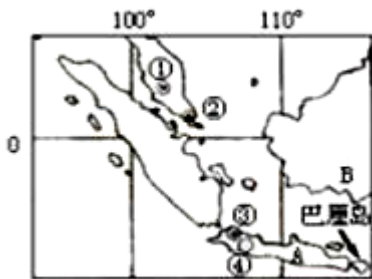
8. 东南亚地区世界著名的物产有 ()

- A. 可可、稻米、铜、石油
B. 橡胶、玉米、铜、石油
C. 橡胶、稻米、锡、石油
D. 橡胶、稻米、铜、咖啡

9. 与我国陆上直接相邻的东南亚国家有 ()

- A. 越南、老挝、缅甸
B. 越南、柬埔寨、老挝
C. 越南、泰国、老挝
D. 越南、菲律宾、缅甸

读南亚地区略图， 回答下列各题。



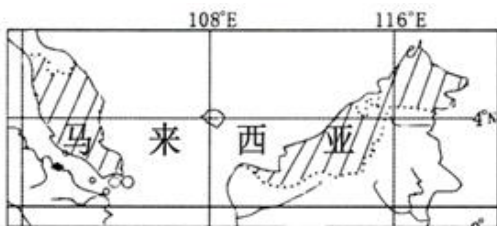
10. 巴厘岛与城市③的距离约为 ()

- A. 555 千米 B. 1000 千米 C. 1600 千米 D. 1800 千米

11. 印度尼西亚鼓励 A 岛向 B 岛移民，其主要原因不正确的是 ()

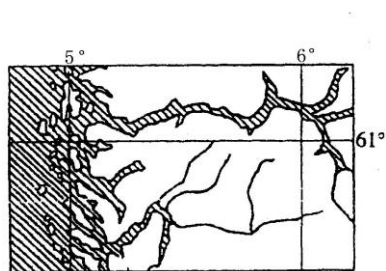
- A. 促进 B 岛经济开发与发展
B. 缓解 A 岛的人口压力
C. 实现本国区域经济平衡发展
D. 提高 B 岛人口增长率

12. 读下图，分析可知马来西亚 ()

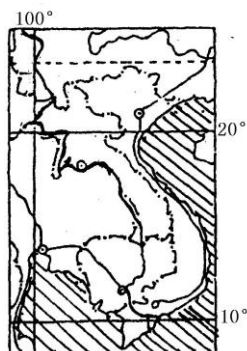


- A. 以热带雨林气候为主，多旱涝灾害
B. 地处热带，易形成热带气旋
C. 降水多，易诱发滑坡泥石流
D. 纬度低，常受到锋面系统的影响

读下图回答下列小题。



甲



乙

13. 两图所示地区河流的共同特征是 ()

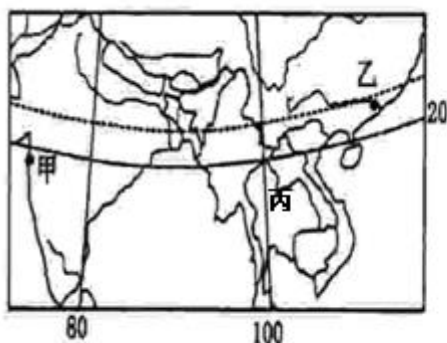
- A. 有多种补给水源 B. 有较长的结冰期
C. 有凌汛 D. 含沙量大

14. 图乙所示地区 ()

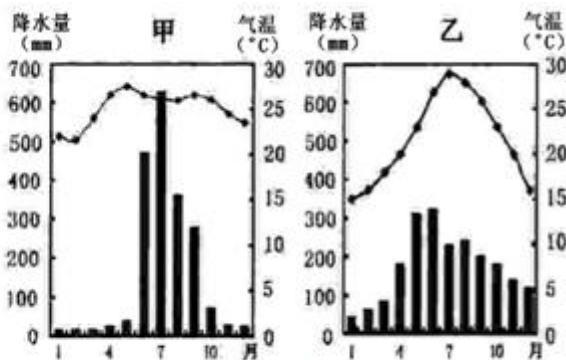
- A. 沿岸有季风洋流 B. 降水的季节变化不明显
C. 有小面积的沙漠分布 D. 山脉南北纵向排列

二、综合题

15. 图 a 为“甲、乙、丙三地地理位置示意图”，图 b 为“甲、乙两地年内气温与降水量变化图”。读图回答下列问题。



图a



图b

(1) 甲地位于亚洲的_____半岛，丙地位于_____半岛。

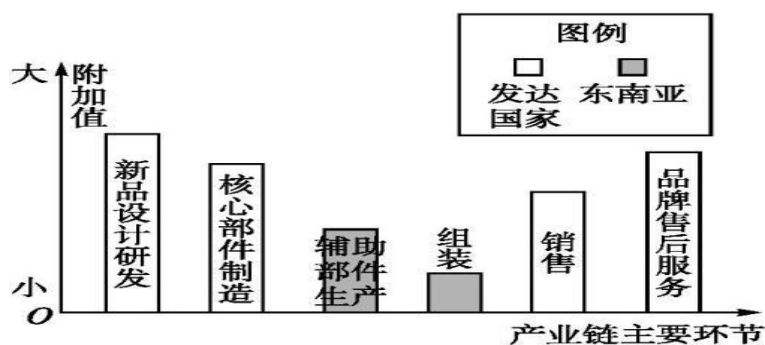
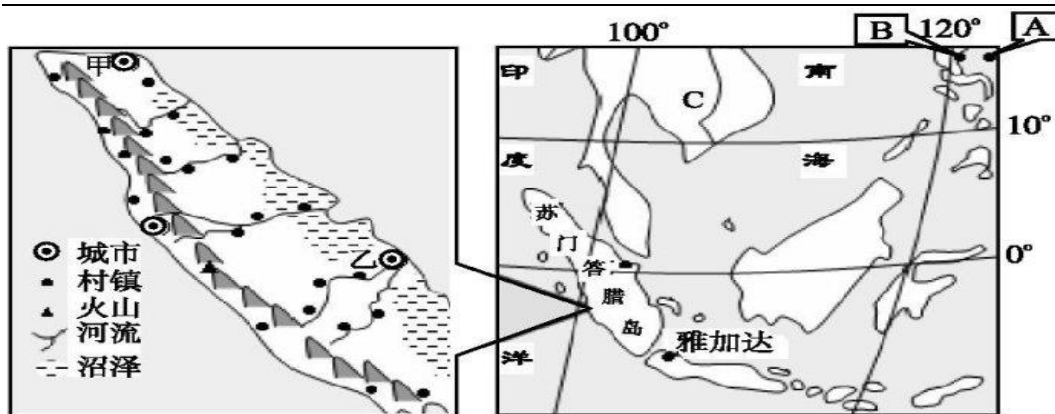
(2) 填表比较甲乙两地气候特征的异同点：

气候特征	相同点	
	不同点	

16. 读下列材料并结合所学知识完成下列问题。

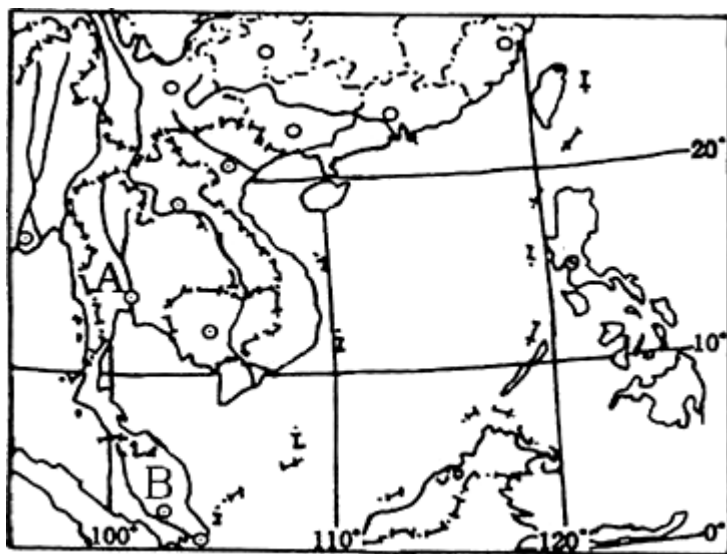
材料一：世界部分区域图。

材料二：最近几年发达国家在东南亚地区一些国家进行产业转移，工业产业链环节上的分工情况如下图所示。



产业链分工示意图

- (1) 苏门答腊岛的气候类型是_____，成因是_____，自然带是_____。
 - (2) 苏门答腊岛的地形地势特征是_____，聚落的分布特点是_____。
 - (3) 材料一中 A 所在海域是台风主要源地之一，当台风中心位于 A 地时，B 城市风向为_____风。城市雅加达所在国有火山国之称，其多火山和地震的原因是_____。
 - (4) C 是一条国际性河流，该河流量季节变化与年际变化均_____，原因是_____。
 - (5) 东南亚和多数发展中国家一样，在世界产业分工中处于不利地位，要改变此状况的主要措施有哪些？
17. 读图，回答下面问题。



- (1) A 所在的半岛的地势特征是_____。
- (2) 图示地区自然灾害频发，列出影响该地区的主要自然灾害。

(3) A 所在的半岛人口与城市主要分布在

参考答案

1. D

2. C

3. C

4. D

5. B

6. B

7. B

8. C

9. A

10. B

11. D

12. C

13. A

14. D

15.

(1) 印度 中南

(2) 气候特征 相同点 夏季高温多雨；降水季节变化大

不同点 甲地全年气温高（乙地气温年较差大），甲地雨季短

16.

(1) 热带雨林气候 终年受赤道低压带控制，盛行上升气流 热带雨林带

(2) 西(南)部为山地(多火山)，东(北)部为平原(多沼泽)；地势西南高东北低 沿海、沿河流分布

(3) 西北 位于板块交界处，地壳不稳定

(4) 大 季风气候区，降水季节和年际变化大

(5) 加强自主创新，掌握核心技术；产业结构调整与升级，大力发展高端加工业与第三产业(如服务业)；树立品牌意识；加强市场营销，占领国际市场。

17.

(1) 地势北高南低，地形山河相间，呈南北纵列分布。

(2) 台风、暴雨洪涝、旱灾、地震、火山、滑坡、泥石流。

(3) 地势低平的河谷、河口三角洲和沿海地区