

北京博飞华侨港澳台联考试题

地理部分 26-51

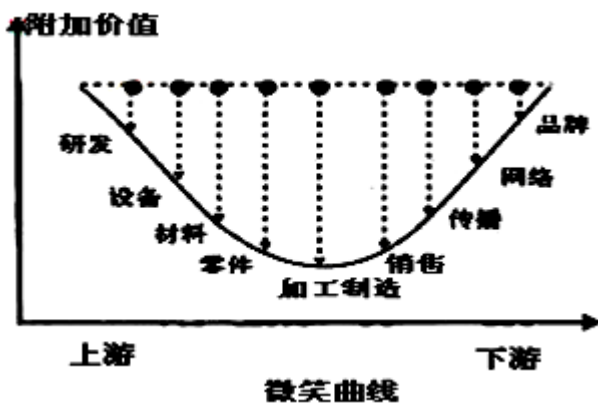
-----工业集聚、工业分散、工业转移

一、选择题

1. 下列工业分散现象中，受廉价劳动力因素驱动的是（ ）

- A. 香港的制造业向珠三角转移
- B. 上海的纺织企业在新疆建纺织厂
- C. 鲁尔区的钢铁企业在荷兰沿海建炼铁厂
- D. 美国的汽车企业在瑞士建齿轮厂

“微笑曲线”（如图）是台湾某电脑生产公司董事长最早提出的，它起初被用于说明电脑行业不同环节与所实现的附加价值之间的关系，后来被广泛应用于其他领域。回答下列小题。



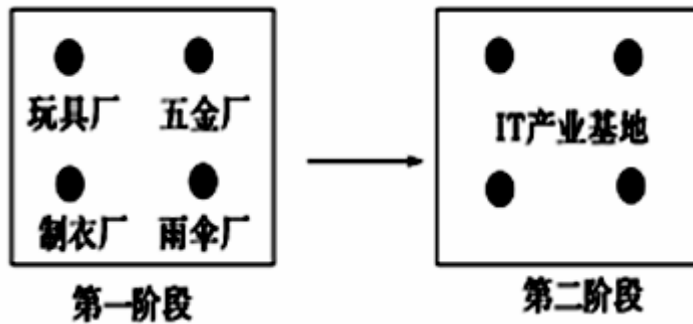
2. 在工业生产上下游的各环节中，跨国公司最先考虑掌握的两环节是（ ）

- ①加工制造 ②设备和材料
 - ③产品研发 ④产品品牌
- A. ①② B. ②③
C. ③④ D. ②④

3. 近年来，跨国公司在母国以外纷纷投资设立研发中心，其主要目的是（ ）

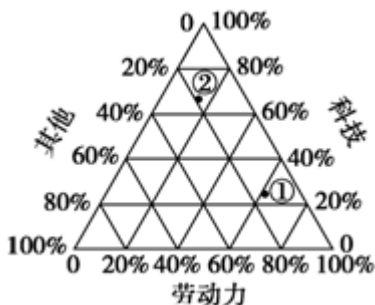
- ①扩大公司产品的销售网络 ②利用各国研发资源，提升公司产品的附加价值
 - ③提高公司产品的品牌效应 ④调整产品、工艺和原材料以适应国外市场
- A. ①② B. ②④
C. ③④ D. ①③

深圳产业园区的建设和发展经历了两个阶段。第一阶段，兴建产业园吸引企业入住；第二阶段：原有产业逐步替换为高端产业。最近，深圳市提出从“速度深圳”向“和谐深圳、效益深圳”转化读图回答下列小题。



4. 各企业集聚在第一代产业园区的主要原因是 ()
- A. 共用基础设施 B. 加强相互竞争
- C. 靠近原料产地 D. 获取邻厂信息
5. 从第一代产业园区发展到第二代产业园区, 当地逐渐失去的优势是 ()
- A. 管理经验 B. 资金
- C. 科技 D. 廉价劳动力
6. 建设“效益深圳”应 ()
- ①引进外资, 大力发展加工业 ②发展科技, 提高企业创新能力 ③引进廉价劳动力, 发展重工业 ④改进工艺, 提高资源利用率
- A. ①② B. ①③
- C. ③④ D. ②④

图为“影响工业区位的劳动力因素、科技因素和其他因素的三角坐标图”。据此回答下列各题。



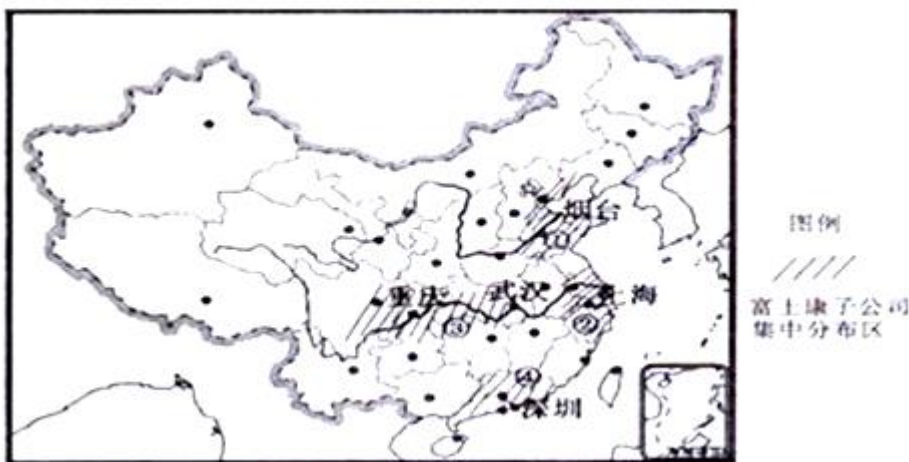
7. 序号①代表的工业企业可能是 ()
- A. 家具生产 B. 电子装配
- C. 钢铁冶炼 D. 蔗糖生产
8. 以②类工业部门为主形成的工业地域可能是 ()
- A. 攀枝花钢铁基地 B. 德国鲁尔工业区
- C. 辽中南工业区 D. 日本筑波科学城

下面表格表示四地建工厂的优势比较 (数值越大, 表示优势越明显), 回答下题。

地点	优势比较		
	原料	市场	环境
甲	3	2	4
乙	2	3	3
丙	1	4	1
丁	4	1	2

9. 适宜发展水产品加工厂的是（ ）
- A. 甲地 B. 乙地 C. 丙地 D. 丁地
10. 国际知名家具公司要在中国建立自己的子公司，最合理的地区是（ ）
- A. 甲地 B. 乙地 C. 丙地 D. 丁地

富士康科技集团主营计算机、通讯、消费电子等产品的研发制造，1988 年进入中国大陆。从过去偏安深圳，到现在散布全国，2012 年，富士康在中国大陆的基地已超过 31 个，其中，2012 年开工建设的富士康新总部在上海落成，并承担贸易、科技总部职能。目前，这家拥有 120 万工人的全球最大代工企业将会快速“变形”，用 3 年时间投入 100 万机器人代替部分手工制造。结合下图回答下题。



11. 富士康从过去偏安深圳，到现在散布全国，是因为转入区具有（ ）
- A. 工业基础雄厚 B. 矿产资源丰富
- C. 市场广阔，交通便利 D. 劳动力和土地价格廉价
12. 在不久的将来，富士康在全国集中四大分布区中，最可能专注于研发和电子商务的地区为（ ）
- A. ① B. ② C. ③ D. ④
13. 富士康投入机器人代替部分手工制造，其主要有利影响是（ ）
- A. 提高产品质量 B. 降低劳动强度
- C. 缓解用工短缺状况 D. 减轻环境污染

根据典型产品在生命周期中的不同阶段，可以把产业分为开发期、增长期、成熟期和衰退期四个发展阶段。读图回答下面各小题。

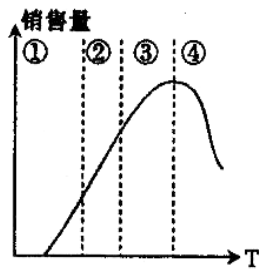


图 a 产业典型产品示意

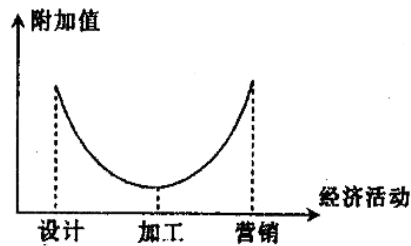
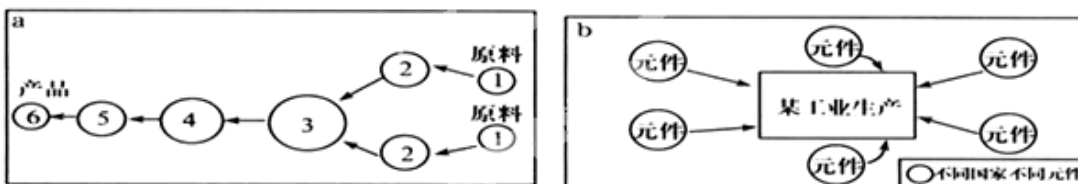


图 b 产品生产环境的价值链

14. 随着我国西部大开发进程，向西部地带转移的工业部门在图 a 中处于哪个阶段（ ）
A. ① B. ② C. ③ D. ④
15. 图 b 中，目前发达国家向发展中国家转移的环节是（ ）
A. 生产设计 B. 产品加工 C. 产品销售 D. 产品更新

下图是我国东部沿海地区三家境外投资工厂的原料地、加工地和产品市场示意图。读图完成下列各题。



16. 图 a 中①—⑥不同工厂之间的关系属于（ ）
A. 工序上的联系 B. 地域联系 C. 信息联系 D. 技术联系
17. 图 b 表示（ ）
A. 工业集聚 B. 工业分散 C. 工业的信息联系 D. 工业的空间利用联系
18. 图 b 所示工厂的元器件生产的全球化，目的是（ ）
A. 寻找最优区位 B. 降低成本，提高效益 C. 减轻污染 D. 促进全球经济发展

参考答案

1. A
2. C
3. B



- 4. A
- 5. D
- 6. D

- 7. B
- 8. D

- 9. D
- 10. C

- 11. D
- 12. B
- 13. C

- 14. D
- 15. B

- 16. A
- 17. B
- 18. B