

# 北京博飞华侨港澳台联考试题

## 地理部分 24-51

-----农业地域类型

### 一、选择题

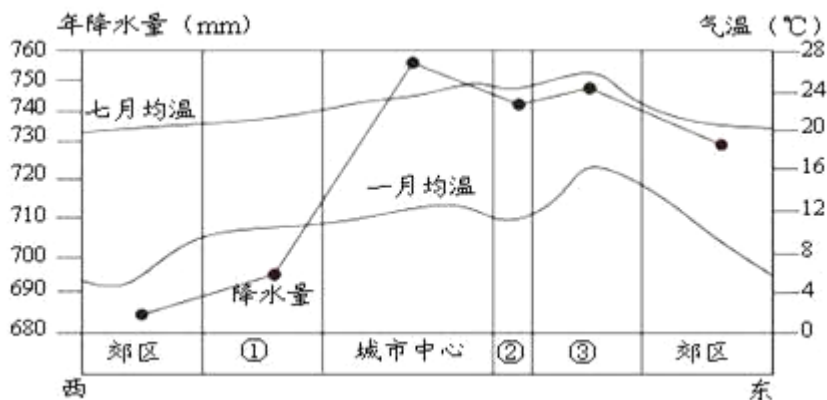
下表是“四个不同地区农业生产比较表”。据此回答以下问题。

表 2

	甲	乙	丙	丁
年降水量 (mm)	622	1658	280	720
人口密度 (人/km <sup>2</sup> )	26	620	10	170
机械化水平 (相对值)	97	42	83	87
农产品商品率 (%)	95	35	86	82
家庭 (或农场) 经营土地 (公顷)	240	0.7	600	20
单位面积收益 (元/公顷)	3500	6000	1500	8000

- 甲-丁对应的农业地域类型可能性最大的是 ( )  
 A. 混合农业、季风水田农业、大牧场放牧业、商品谷物农业  
 B. 乳畜业、大牧场放牧业、商品谷物农业、混合农业  
 C. 季风水田农业、乳畜业、混合农业、大牧场放牧业  
 D. 商品谷物农业、季风水田农业、大牧场放牧业、乳畜业
- 农业区位选择的实质是 ( )  
 A. 保护生态环境      B. 合理利用土地  
 C. 获取最大利润      D. 合理安排劳动力
- 甲农业在我国的主要分布地区 ( )  
 ①华北平原    ②东北的三江平原    ③新疆    ④成都平原  
 A. ①②      B. ②③  
 C. ③④      D. ①④

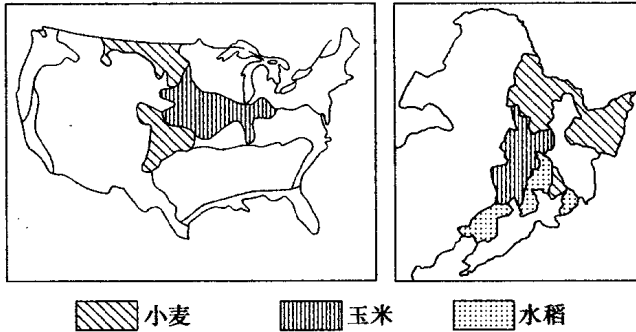
某城市地处平原，下图是“该城市及其郊区气温和降水统计资料图”。读图，回答下列各题。



- 该城市所处平原的农业地域类型可能是 ( )  
 A. 商品谷物农业      B. 大牧场放牧业  
 C. 乳畜业      D. 水稻种植业

5. 图中③代表的城市功能区最有可能是 ( )
- A. 中心商务区                  B. 居民住宅区
- C. 科教文化区                  D. 工业区

下图为“美国和中国东北部农业区分布示意图”，据图完成以下问题。



6. 从农业地域类型看，图中展示的农业区属于 ( )
- A. 水稻种植业                  B. 商品谷物农业
- C. 大牧场放牧业                  D. 混合农业
7. 影响上述农业区小麦种植共同有利的自然条件是 ( )
- A. 热量充足，降水丰沛                  B. 交通便利，城市众多
- C. 地形平坦，土壤肥沃                  D. 工业发达，市场需求量大

下表为“某年五国农作物自给率统计表”(单位:%), 据此回答下列小题。

	麦	米	薯类	砂糖	肉类
丹麦	107	124	103	110	351
法国	147	40	103	140	62
德国	87	99	82	92	87
俄罗斯	112	57	100	90	99
日本	9	104	97	12	89

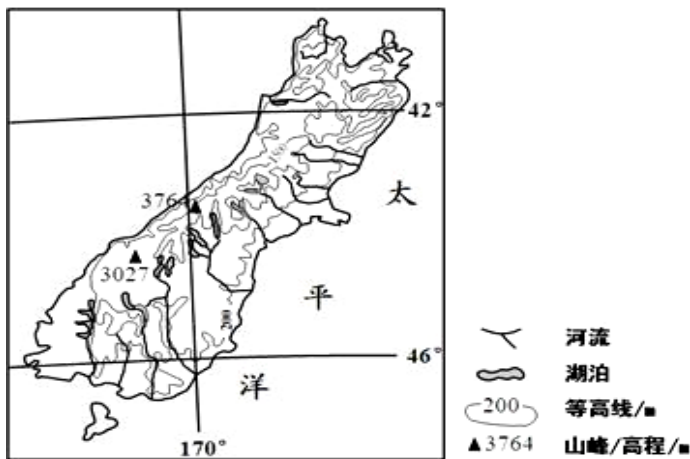
8. 丹麦的主要农业地域类型是 ( )
- A. 商品谷物农业    B. 大牧场放牧业
- C. 乳畜业                  D. 混合农业
9. 根据表格内容, 下列叙述正确的是 ( )
- A. 日本农业以商品农业为主
- B. 法国和德国的砂糖以蔗糖为主
- C. 俄罗斯的农业主要集中在亚洲部分
- D. 法国的农业集中在巴黎盆地

下图为“我国某地区农业土地利用变迁过程图”。读图，回答下列小题。



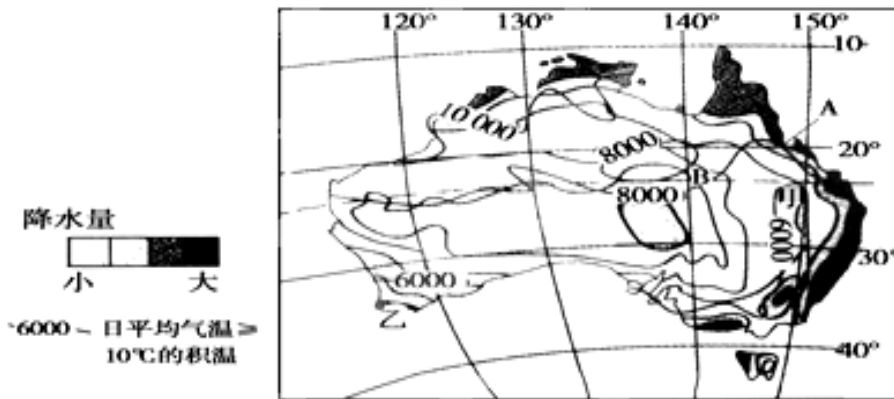
10. 该地区位于( )  
 A. 珠江三角洲 B. 江淮平原  
 C. 黄河三角洲 D. 三江平原
11. 该地区土地利用变迁的最主要原因是( )  
 A. 市场需求的变化 B. 劳动力素质的提升  
 C. 灌溉技术的提高 D. 农作物品种的改良
12. 发展到第Ⅲ阶段时, 该地区最有可能( )  
 A. 自然灾害多发 B. 农业人口比重上升  
 C. 农业投入不足 D. 商品率大幅度提高

下图示意某岛的地理位置, 读图, 完成下列各题。



13. 图示岛屿西南部降水丰沛, 主要是因为( )  
 ①盛行西风 ②地形抬升 ③暖流增湿 ④反气旋控制  
 A. ①② B. ②③ C. ③④ D. ①④
14. 下列农业生产类型中, 最适宜在图示岛屿发展的是( )  
 A. 水田农业 B. 迁移农业  
 C. 种植园农业 D. 乳畜业

读“澳大利亚 $\geq 10^{\circ}\text{C}$ 积温(单位:  $^{\circ}\text{C}$ )及年降水量(单位: mm)分布图”, 回答下列小题。

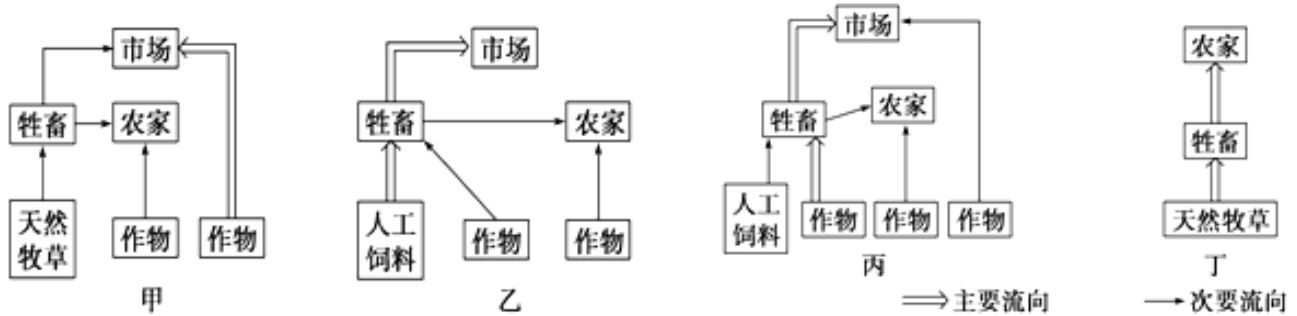


15. 甲地区的积温比周边地区低的主要原因是 ( )
- A. 甲地区地处迎风坡，年降水量比周边地区大，蒸发消耗热量
- B. 甲地区地处雨影区，晴天多，昼夜温差小，积温少
- C. 甲地区地处背阳坡，太阳辐射弱
- D. 甲地区海拔高，气温低
16. A、B 两地农业地域类型差异很大，下列有关 A、B 两地农业地域类型的判断正确的是 ( )
- A. A 地可能是热带种植园农业
- B. B 地可能是商品谷物农业
- C. A 地可能是园艺业
- D. B 地可能是乳畜业

读我国内蒙古呼伦贝尔牧区(甲)和阿根廷潘帕斯牧区(乙)分布示意图，回答问题。

17. 下列区位条件中，不属于甲、乙两牧区发展畜牧业共同具备的是
- A. 夏季气候温暖
- B. 土地辽阔，地形平坦
- C. 临近海港，便于出口
- D. 草类茂盛
18. 关于甲、乙两牧区畜产品生产和销售特点叙述正确的是
- A. 甲牧区产品主要面向国际市场；乙牧区产品主要面向国内市场
- B. 甲牧区主为城市提供肉、奶、禽、蛋等；乙牧区主要出口羊肉到北美
- C. 甲牧区产品主要靠铁路运输；乙牧区产品主要靠航空运输
- D. 甲牧区生产依赖天然草场，“超载放牧”严重

一首唐诗这样描述某地区的景象：“君不见，走马川，雪海边，平沙莽莽黄入天。轮台九月风夜吼，一川碎石大如斗，随风满地石乱走。”结合下图回答以下问题。



19. 该诗描述的地区，最可能见到图中四种农业活动中的哪种经营模式( )

- A. 甲                  B. 乙                  C. 丙                  D. 丁

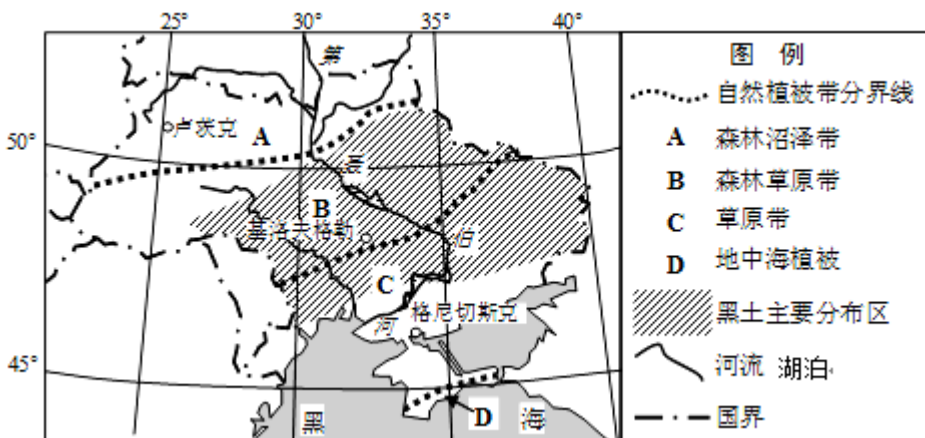
20. 该诗描述的地区，从事该农业活动最容易导致的环境问题是( )

- A. 土壤盐碱化                  B. 水土流失  
C. 土地荒漠化                  D. 气候变暖

21. 下列关于英国农业的叙述，正确的是( )

- A. 高产值的园艺业在农业中占主体  
B. 畜牧业以畜禽饲养为主  
C. 畜牧业发达，在农业中占主体  
D. 渔业资源丰富，捕鱼量居世界首位

读乌克兰植被和土壤分布图，回答问题。



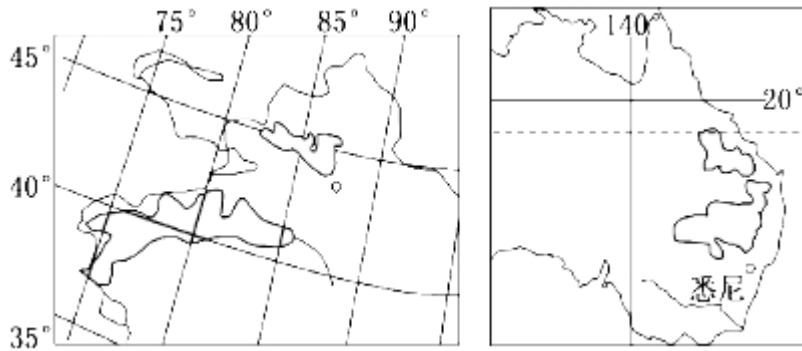
22. 乌克兰、美国五大湖地区和中国东北地区是世界三大黑土分布区，则乌克兰黑土地区的农业地域类型是( )

- A. 季风水田农业      B. 商品谷物农业  
C. 大牧场放牧业      D. 乳畜业

23. 关于乌克兰的植被分布和成因叙述不正确的是( )

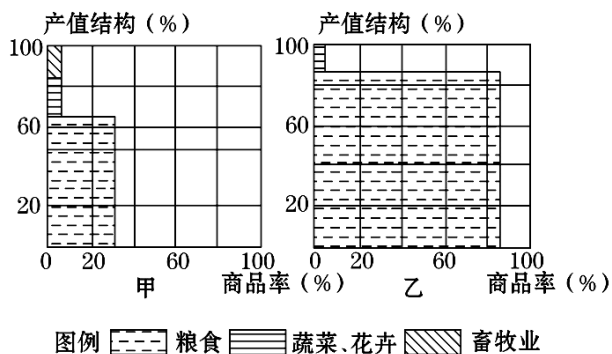
- A. 植被大致沿东北—西南方向呈带状延伸  
B. 植被大致东南—西北方向更替  
C. 受纬度和地势影响，气温自南向北降低  
D. 受海陆位置影响，降水自东向西减少

读我国新疆和澳大利亚棉花分布示意图，完成下列小题。



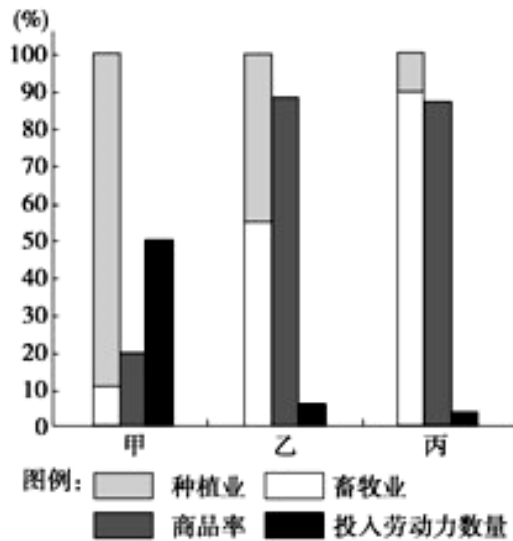
24. 新疆与澳大利亚棉花生长共同的有利自然条件是 ( )
- A. 降水丰富                      B. 劳动力充足
- C. 光照充足                      D. 水热组合好
25. 与新疆相比, 澳大利亚发展棉花生产的最有利的社会经济条件是 ( )
- A. 科技水平高                      B. 水源充足
- C. 劳动力价格廉价                      D. 商品率低

读“两农业地域类型的农业产值结构和商品率示意图”, 完成下列问题。



26. 甲、乙农业地域类型分别可能为 ( )
- A. 水稻种植业、大牧场放牧业
- B. 商品谷物农业、乳畜业
- C. 水稻种植业、商品谷物农业
- D. 大牧场放牧业、乳畜业
27. 甲、乙两农业地域类型商品率相差较大的主要原因为 ( )
- A. 市场条件不同                      B. 人口密度不同
- C. 作物单产不同                      D. 机械化水平不同
28. 泰国的平原地区、阿根廷的潘帕斯平原、美国的中部平原、澳大利亚的墨累—达令盆地等农业地域类型分别是 ( )
- A. 季风水田农业、混合农业、大牧场放牧业、商品谷物农业
- B. 季风水田农业、大牧场放牧业、商品谷物农业、混合农业
- C. 商品谷物农业、混合农业、大牧场放牧业、季风水田农业
- D. 商品谷物农业、大牧场放牧业、季风水田农业、混合农业

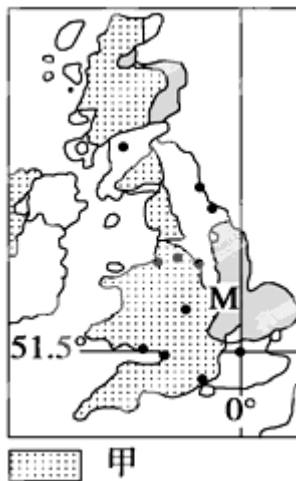
29. 下图是“甲、乙、丙三个地区农业基本情况比较图”，完成下题。



10. 与图示资料相符合的农业地域类型是 ( )

- A. 甲——美国商品谷物农业
- B. 乙——澳大利亚混合农业
- C. 丙——亚洲水稻种植业
- D. 甲——城郊乳畜业

下图是“英国农业地域图”(图中数字为经纬度)。读图回答下列两题。



30. 欧洲西部适宜甲农业类型分布的气候特点是 ( )

- A. 高温多雨，利于水稻生长
- B. 温凉潮湿，利于多汁牧草生长
- C. 地广人稀，土地租金低
- D. 热带半干旱气候，草场广阔

31. 甲农业地域形成的社会经济因素是 ( )



A. 市场      B. 劳动力      C. 气候      D. 科技

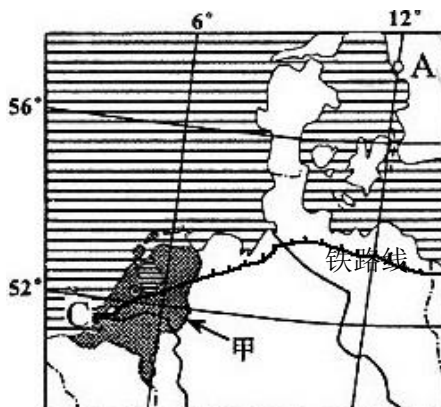
读“两个地区农业基本情况比较表”，回答下列各题。

地区	种植业比重	畜牧业比重	商品率	投入劳动力数量
①	45%	55%	90%	少
②	8%	92%	89%	少

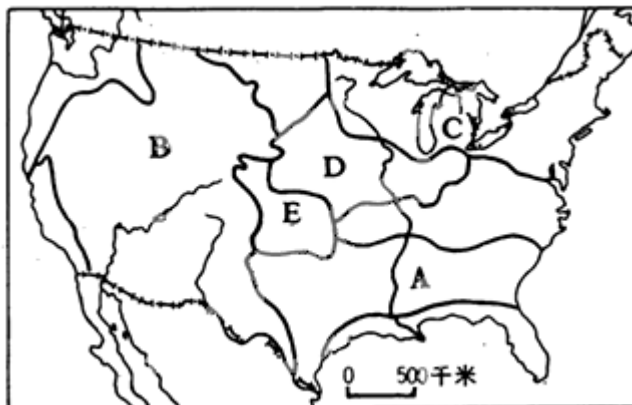
32. ①地区的农业地域类型是（      ）
- A. 大牧场放牧业    B. 商品谷物农业
- C. 季风水田业      D. 混合农业
33. 提高②地区土地载畜量的合理措施是（      ）
- A. 提高机械化水平                      B. 充分利用水资源
- C. 建设高质量的人工草场              D. 合理开垦当地土地
34. ①、②地区农业地域类型的共同特点是（      ）
- A. 面向市场                              B. 人均生产率低
- C. 人工草场面积大                      D. 种植业为畜牧业服务

## 二、综合题

35. 读下图，回答下列问题。



- (1) 试分析 C 港成为世界著名大港的重要交通位置条件。
- (2) 指出图 9 中甲阴影区主要农业地域类型，并分析其形成的主要自然原因。
36. 读美国略图，完成下列问题。





- (1) 写出图中字母所代表的农业带名称 A\_\_\_\_\_、C\_\_\_\_\_、D\_\_\_\_\_、E\_\_\_\_\_。
- (2) 美国本土西部沿海地区主要的气候类型有\_\_\_\_\_气候和\_\_\_\_\_气候，试分析这里气候呈狭长形分布的原因。
- (3) 图中 C 区域是美国重要的工业区，该地区工业发展的条件有哪些？

### 参考答案

1. D
2. B
3. B
4. C
5. D
6. B
7. C
8. C
9. D
10. A
11. A
12. D
13. A
14. D
15. D
16. A
17. C
18. D
19. D
20. C
21. C
22. B
23. D
24. C
25. A

26. C

27. B

28. B

29. B

30. B

31. A

32. D

33. C

34. A

35.

(1) 靠近英吉利海峡（多佛尔海峡），扼北海航线要冲；位于莱茵河入海口；地处亚欧大陆桥西端。

(2) 乳畜业、园艺业为主，甲区为温带海洋性气候，全年温和湿润，适宜多汁牧草生长；利于发展乳畜业

36.

(1) A 棉花带 C 乳畜带 D 玉米带 E 小麦带

(2) 温带海洋 地中海 高大的科迪勒拉山系阻挡了西风从太平洋上带来的水气。

(3) 铁矿资源丰富；靠近煤炭资源；水源充足；交通便利；发展较早，工业基础好。