

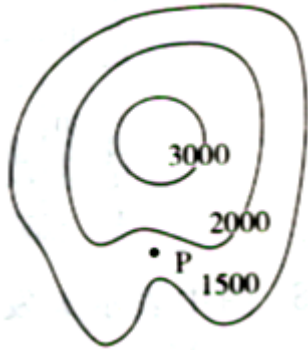
北京博飞华侨港澳台联考试题

地理部分 19-51

-----城市空间结构

一、选择题

读“小区平均房价等值线分布示意图”，图中数字为平均房价（单位：元/平方米），回答下列小题。

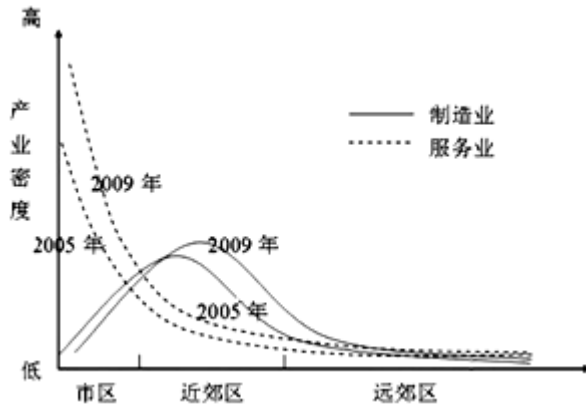


1. 下列关于城市住宅区的叙述正确的是（ ）
A. 住宅区是城市中最广泛的土地利用方式
B. 高级住宅区一般分布在地价较高的市中心附近
C. 文化程度是住宅区分化的最常见原因
D. 住宅区趋向于沿主要交通干线分布
2. 图中P处房价明显偏低，其原因可能是（ ）
A. 邻近风景区，环境优美
B. 附近公路干线会处，交通便捷
C. 接近高等院校，文化氛围浓郁
D. 地势平坦，工厂林立
3. 珠江三角洲某中心城市周边的农民竞相在自家的宅基地建起了“握手楼”，“握手楼”的修建反映该中心城市（ ）



- A. 居住人口减少
- B. 人居环境恶化
- C. 城区不再扩大
- D. 城市房价昂贵

下图为“某城市制造业与服务业密度分布图”，读图完成下列各题。



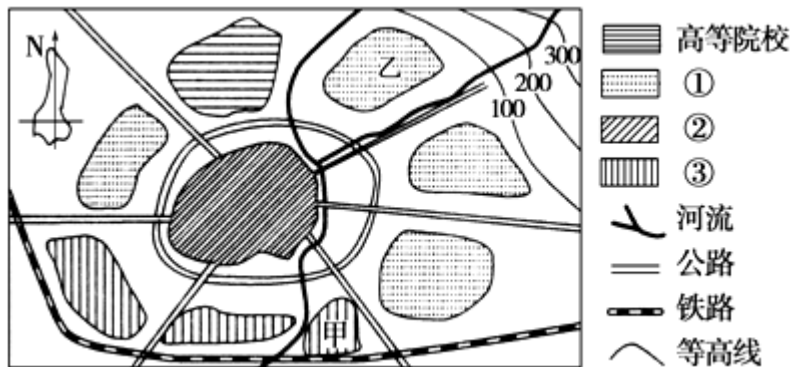
4. 影响图中各曲线形态变化的主导因素是：（ ）

- A. 劳动力价格
- B. 地价水平
- C. 技术水平
- D. 环境优劣

5. 与 2005 年相比，2009 年该城市：（ ）

- A. 城市功能分区明显弱化
- B. 制造业向城区中心集聚
- C. 市区服务业密度增加
- D. 近郊区制造业密度减少

读某城镇略图，回答下列各题。



6. 图中①②③所代表的城市功能区分别是：（ ）

- A. 住宅区、工业区、商业区
- B. 工业区、住宅区、商业区
- C. 商业区、住宅区、工业区
- D. 住宅区、商业区、工业区

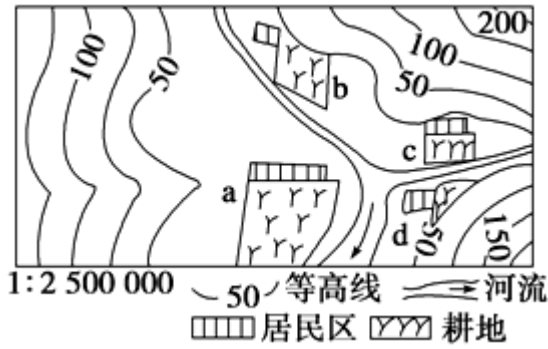
7. 从环境效益的角度考虑，在甲处布局印染厂主要是因为其：（ ）

- A. 距离城市较远
- B. 位于河流下游
- C. 地处盛行风下风向
- D. 靠近铁路

8. 若乙处为新开楼盘，下列房地产开发商的广告词中，能反映其优美自然环境的是：（ ）

- A. 毗邻大学，学术氛围浓厚
- B. 交通便利，四通八达
- C. 视野开阔，俯瞰全城
- D. 水岸名邸，上风上水

聚落的形成和发展，不但受自然地理因素的影响，还受社会经济因素的影响。在上述两大因素影响下，有的聚落在成长，有的聚落在衰落。读图完成下列各题。

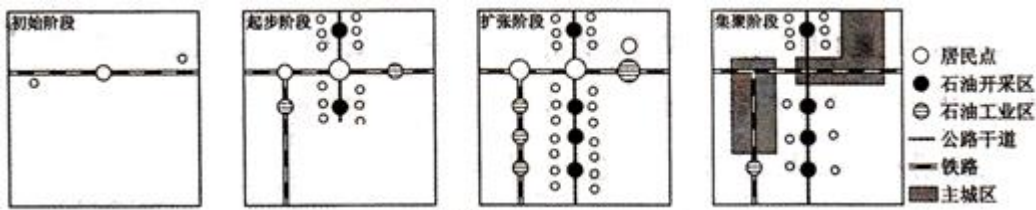


9. 图中四个聚落中,最有可能发展成为城市的是 ()
A. a B. b C. c D. d
10. 影响该城市形成的主要区位因素是 ()
①宗教中心 ②自然资源丰富 ③地形开阔平坦 ④河流交汇处
A. ①② B. ①④ C. ③④ D. ②③
11. 从城市功能区合理布局的角度考虑,若在下图中分别布局中心商务区、住宅区、城郊农业区、港口码头四个功能区,则①②③④对应的功能分区分别是 ()



- A. 港口码头、城郊农业区、住宅区、中心商务区
B. 住宅区、港口码头、城郊农业区、中心商务区
C. 港口码头、城郊农业区、中心商务区、住宅区
D. 中心商务区、住宅区、港口码头、城郊农业区

下图为“我国某城市空间结构形态演变过程示意图”,读图回答下列问题。



12. 该城市是 ()
A. 桂林 B. 北京 C. 合肥 D. 大庆
13. 影响该城市结构形态发展的基础因素是 ()
A. 农业基础和人口规模 B. 交通运输和生态环境

C. 资源分布和交通运输

D. 地形地貌和农业基础

14. 一些城市选择近郊到远郊建造经济适用房，影响该决策的主导因素是()

A. 交通条件

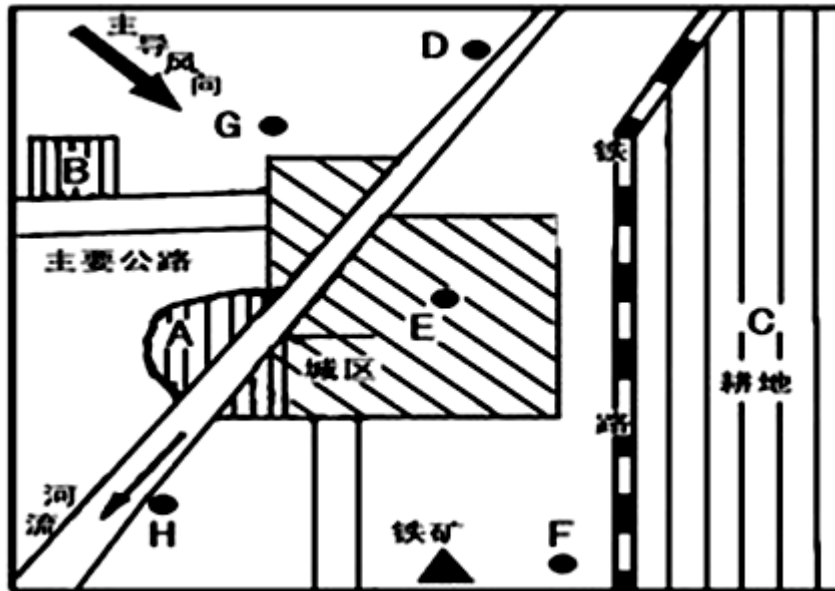
B. 地租支付能力

C. 土地价格

D. 土地利用效益

二、综合题

15. 读图，完成下列问题：



(1) 图中 A、B、C 为农业区，分别布局小麦区、花圃、奶牛场，布局均合理。奶牛场应布局在_____ (填字母)，花圃应布局在_____，小麦区应布局在_____。

(2) 图中 D、E、F 为工业企业，将各字母填在相应的横线上：钢铁厂 _____，自来水厂 _____，服装厂_____。

(3) 该城市拟建一座化工厂，从环境保护角度考虑，在 H、G 两地中较合的是(填字母) _____，理由是_____。

(4) 图中的服装厂属于_____指向型工业。

(5) 在竞争环境下，城市的每一块土地用于哪种经济活动，取决于各种活动的()

A. 规模的大小

B. 重要的程度

C. 付出租金的高低

D. 由政府的决策

(6) 土地租金高低取决于下列因素：①距离市中心的远近②土地利用方式③交通通达度④企业的支付能力，其中主要的是()

A. ①②

B. ①③

C. ②④

D. ③④



参考答案

1. A
2. D
3. D
4. B
5. C
6. D
7. B
8. D
9. A
10. C
11. C
12. D
13. C
14. A
15.
 - (1) B A C
 - (2) F D E
 - (3) H 河流下游，不污染水源；与盛行风垂直的郊外，不污染大气。
 - (4) 劳动力
 - (5) C
 - (6) B