

备考港澳台联考 地理绝密资料

港澳台联招必考试题-----区域地理 9-10

编写：北京博飞华侨港澳台学校

区域地理 9-试题

一、单选题

1.黄金玉米带，即最适合玉米种植生长的黄金地带。吉林玉米带位于 42°N — 46°N 122°E — 128°E 之间，与同纬度的美国玉米带、乌克兰玉米带并称为世界三大黄金玉米带。读图完成下列各题。

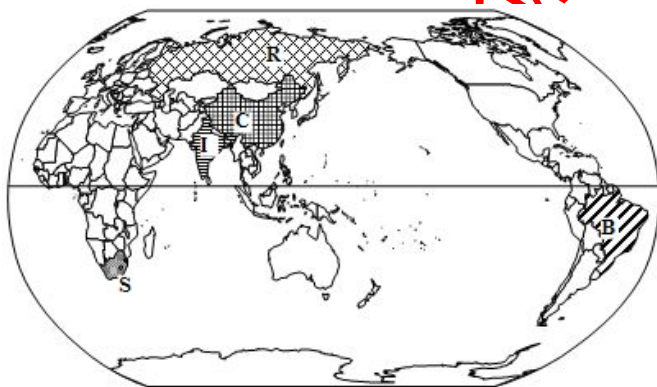
(1). 世界“三大黄金玉米带”共同的区位优势是

- A. 机械化水平高
- B. 雨热同期的季风气候
- C. 肥沃的黑土地
- D. 丰富且廉价的劳动力

(2). 图 4 所示地区，适宜发展春小麦种植的是

- A. ①
- B. ②
- C. ③
- D. ④

2. 下图为“金砖五国”分布图。回答



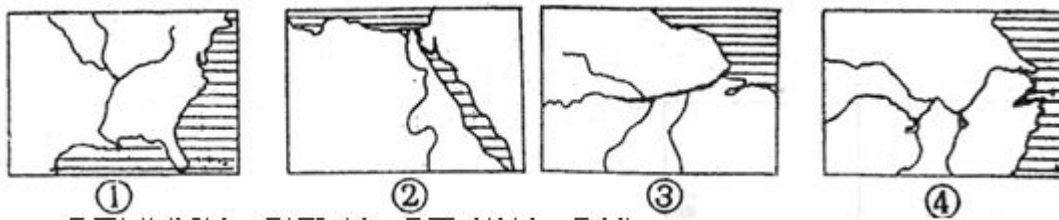
关于“金砖国家”的叙述，正确的是()

- A. S 国是发达国家
- B. B 国人口主要分布在亚马孙平原
- C. R 国面积辽阔，农产品大量出口
- D. I 国人口增长较快

3. 与下图中河流名称排序相符的是()



图 4

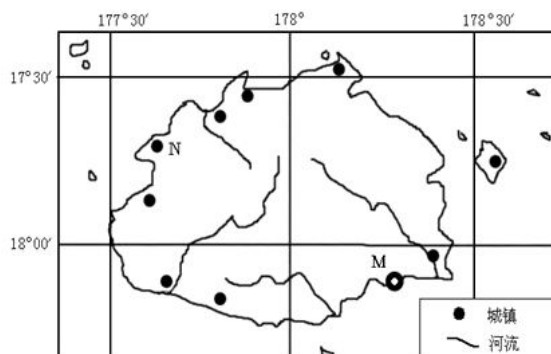


- A. ①密西西比河、②尼罗河、③长江、④亚马孙河
B. ①密西西比河、②尼罗河、③亚马孙河、④长江
C. ①亚马孙河、②尼罗河、③密西西比河、④长江
D. ①亚马孙河、②尼罗河、③长江、④密西西比河

北京博飛 www.pkuzyw.com

4.读某岛屿图,读图完成下列各题。

- (1). 该岛屿位于()
A. 太平洋 B. 印度洋
C. 大西洋 D. 北冰洋
- (2). 该岛屿地势特点是()
A. 中间高, 四周低 B. 中间低, 四周高
C. 东部高, 西部低 D. 北部高, 南部低



5.图6是一组世界区域地图,读图完成下列各题。

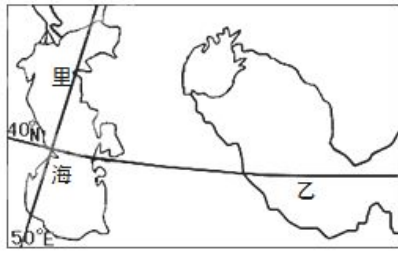
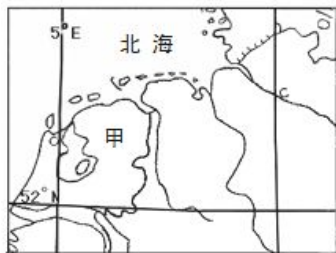


图6

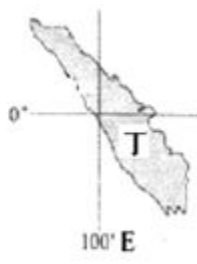
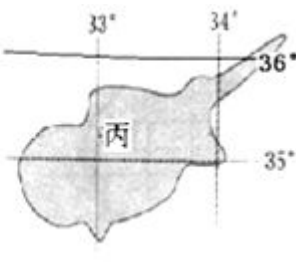
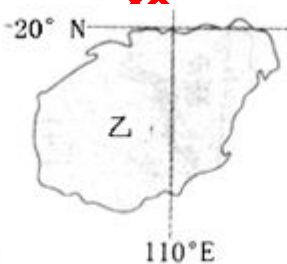
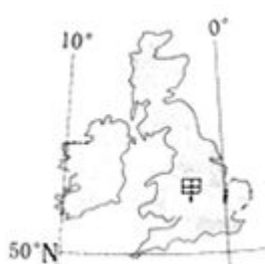
(1).图中甲、乙两地发展种植业生产的主要制约因素分别是:

- A. 土壤、水源 B. 光热、水源 C. 风向、地势 D. 地形、河流

(2).乙地由于不合理灌溉而引发的主要环境问题是:

- A. 水土流失 B. 沙尘暴 C. 土地盐碱化 D. 洪涝灾害

6.读下列四岛(图4),读图完成下列各题。



(1).甲乙丙丁四岛的气候类型分别是:

- A. 温带海洋性气候、热带季风气候、地中海气候、热带雨林气候
B. 温带季风气候、热带雨林气候、地中海气候、热带季风气候
C. 温带海洋性气候、热带草原气候、温带季风气候、热带雨林气候
D. 地中海气候、亚热带季风气候、温带海洋性气候、热带雨林气候

(2).四岛中,农业地域类型为季风水田农业的是:

- A. 甲、乙 B. 乙、丙 C. 乙、丁 D. 丙、丁

(3).关于四岛的描述,正确的是:



- A. 甲岛最早进入工业化社会，是该洲经济最发达的国家
- B. 乙岛是其国家纬度最低（最南）的岛屿
- C. 丙岛是世界人口最稠密的岛屿之一
- D. 丁岛位于板块交界处，地壳活跃

7.近年来，青海省某县积极调整产业结构，大力发展马铃薯产业。通过扩大种植面积，提高技术，使马铃薯种植成为农业增收的主要来源。读图完成下列各题。

(1). 该地的马铃薯种植业属于 ()

- A. 河谷农业 B. 灌溉农业 C. 绿洲农业 D. 立体农业

(2). 青海的马铃薯淀粉含量达 30%以上，且碱含量低，不麻不辣，色味纯正，香甜爽口。其品质优良的自然原因是 ()

- ①光照充足 ②昼夜温差大 ③湖泊多、灌溉水源充足 ④病虫害较少 ⑤热量条件好
- A. ①②③ B. ①②④ C. ②③④ D. ①②⑤

8.下列湖泊，组合正确的是()

- A. 死海——世界海拔最低的海 B. 贝加尔湖——世界最深的咸水湖
- C. 里海——世界最大的咸水湖 D. 红海——世界盐度最高的咸水湖

9.下列大陆中，被称为“高原大陆”的是 ()

- A. 亚洲大陆 B. 美洲大陆 C. 非洲大陆 D. 南极大陆

10.在海底地形中，海沟多分布在 ()

- A. 大陆架 B. 大洋底部海盆与海岭交界处
- C. 大陆坡上 D. 大陆坡与大洋底部的交界处

11.下列海峡，既是两大洋又是两大洲分界线的是 ()

- A. 台湾海峡 B. 白令海峡 C. 马六甲海峡 D. 直布罗陀海峡

12.火山喷发时岩浆是沿着地壳的线状裂隙流出，形成玄武岩高原的是 ()

- A. 哥伦比亚的火山 B. 印尼的火山 C. 台湾的火山 D. 日本的火山

13.地球上现存面积最大，保存比较完整的原始森林位于 ()

- A. 东南亚地区 B. 非洲刚果河流域 C. 南美洲亚马孙河流域 D. 加拿大的北部

14. 内蒙古哲里木盟草原土地沙化的最主要原因是 ()
A. 过度樵采 B. 过度放牧 C. 过度开垦 D. 水资源利用不当

15. 下列粮食作物具有单位面积产量高的是 ()
A. 水稻 B. 小麦 C. 玉米 D. 大豆

16. 东北成为我国重要的商品粮基地的主要原因是
A. 人少地多, 人均耕地全国最多 B. 土壤肥沃
C. 耕地面积广大, 适宜大规模机械化耕作 D. 宜农荒地多

17. 影响南方低山丘陵区农业发展的主要气象灾害是
A. 春旱和伏旱 B. 寒潮和台风
C. 春季低温和盛夏干旱 D. 梅雨和水土流失

18. 治沙和防洪并举的治理长江的主要手段是
A. 修建水库 B. 加固大堤 C. 植树种草 D. 修建梯田

19. 下列地区中, 依靠冰雪融水和地下水发展成为我国著名灌溉农业区的是
A. 河套平原 B. 宁夏平原 C. 河西走廊 D. 成都平原

20. 读图完成下列各题

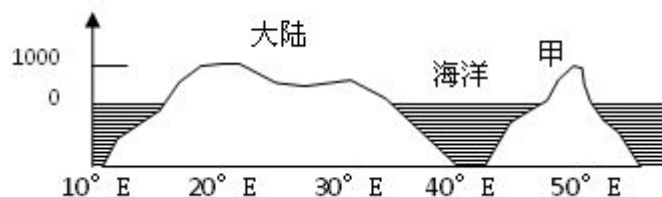
(1). 该图属于

- A. 北美洲沿 35°N 所作
- B. 澳大利亚沿 23.5°S 所作
- C. 非洲沿 23.5°S 所作
- D. 亚洲沿 30°N 所作

(2). 甲地的位置属于

- A. 亚欧板块
- B. 非洲板块
- C. 印度洋板块
- D. 美洲板块

高度(米)



C. 印度

21. 读我国某区域图。读图完成下列各题。

(1). B 地近年来有大批国内外 IT 企业如微软、英特尔、联想等进驻, 其有利条件是 ()

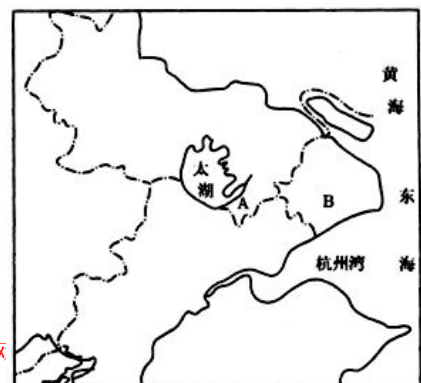
- ①交通便利
 - ②科技力量雄厚
 - ③自然资源丰富
 - ④劳动力丰富
- A. ①③ B. ②④ C. ③④ D. ①②

19. 跨区域调配资源, 有利于实现经济的可持续发展, 计划从该地调出的资源有 ()

- A. 天然气
- B. 水
- C. 煤
- D. 电

22. 下列省份既有大油田、又有大煤矿的是 ()

北京博飞教育中心





A. 辽宁省 B. 安徽省 C. 贵州省 D. 江西

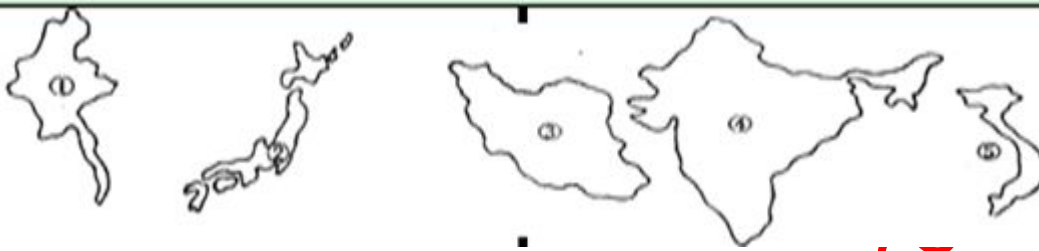
23.一大洲自述：“我排行老二，与二弟仅一运河之隔，东临世界最大的大洋……”该大洲是（ ）

A、亚洲 B、欧洲 C、非洲 D、北美洲

24.在印巴分治过程中，交织着哪两大教派矛盾（ ）

A. 佛教和印度教 B. 伊斯兰教和印度教 C. 印度教和基督教 D. 基督教和佛教

25.比较下列五个亚洲国家，读图完成下列各题。



(1).位于东南亚的一组国家是（ ）

A. ①② B. ③④ C. ①⑤ D. ④⑤

(2).②国多火山、地震，主要原因是该国处于（ ）

A. 亚欧板块内部
B. 太平洋板块内部
C. 太平洋板块和亚欧板块交界处
D. 太平洋板块和印度洋板块交界处

26.在世界地形图上，两次穿过赤道的世界大河是（ ）

A. 刚果河 B. 尼罗河 C. 亚马孙河 D. 密西西比河

27.阿姆河和锡尔河同时流入

里海 B. 黑海 C. 巴尔喀什湖 D. 咸海

28.下列属于世界人口稠密区的是（ ）

A. 青藏高原 B. 亚马孙平原 C. 南极洲 D. 我国东部平原

29.下图中濒临太平洋、北冰洋、印度洋的大洲是（ ）



30.读“南亚图”，读图完成下列各题。

(1)、下列关于南亚位置的叙述，正确的是（ ）

- A、北回归线穿过南部地区，热带面积仅占 10%左右
- B、大陆主体位于北纬 30°~40°之间的中纬度地区
- C、东临阿拉伯海，西临孟加拉湾，北与亚洲大陆相连
- D、大体在喜马拉雅山脉与印度洋之间



(2)、德干高原上 1 月份的风向（ ）

- A、西南风
- B、东北风
- C、西北风
- D、东南风

31.伊斯兰堡是哪个国家的首都（ ）

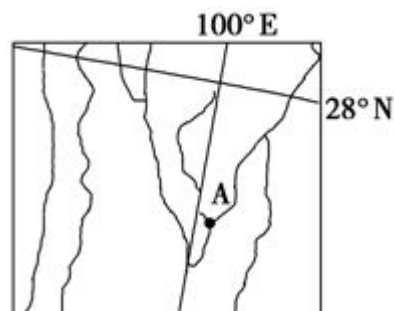
- A. 巴基斯坦
- B. 印度
- C. 斯里兰卡
- D. 孟加拉国

32.田纳西河流域内的河水的补给方式及水汽主要来源地是

- A.冰川融水，阿巴拉契亚山
- B.大气降水，墨西哥湾和加勒比海
- C.大气降水，太平洋
- D.湖泊水，五大湖

33.右图为我国某区域图，如果在 A 河段建设大型水电工程，可能会造成的环境影响是()

- A. 河流的年径流量明显减小
- B. 河流的泥沙下泄量显著增大
- C. 库区地下水位降低
- D. 地质灾害发生的频率减小

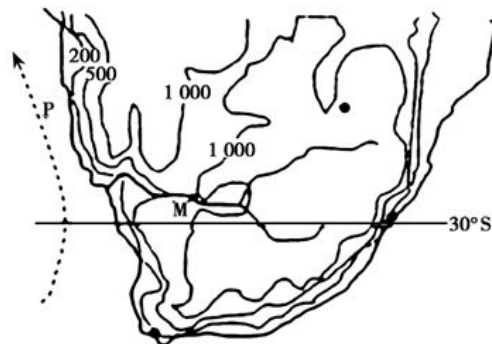


34.读南部非洲示意图，读图完成下列各题。

(1). 图中 M 水文站测到的河水流量季节变化比往年有所减小，其原因最可能是()

小，其原因最可能是()

- A. 该河上游流域面积较小
- B. 该河上游兴建水库
- C. 该河流降水季节分配均匀
- D. 该河上游雨林植被恢复较好



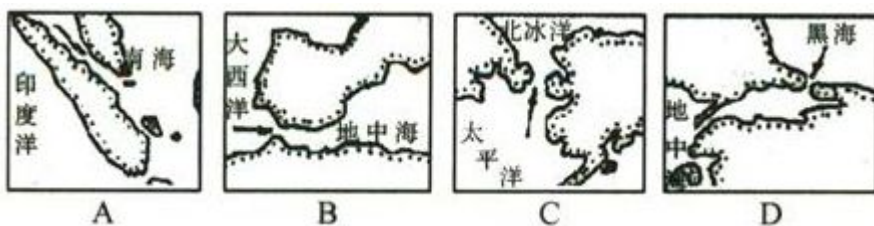
(2). 图中 P 处海域渔业资源丰富，其主要原因是()

- A. 位于沿海大陆坡, 阳光充足
B. 位于热带海域, 海水交换能力强
C. 海水上涌, 带来大量的营养物质
D. 寒暖流交汇, 带来大量的营养物质

35. 下列大陆完全属于一个大洲的是()

- A. 澳大利亚大陆 B. 非洲大陆 C. 美洲大陆 D. 亚欧大陆

36. 下列四幅图中箭头所示的海峡不是两大洲分界线的是 ()



37. 非洲大陆的主要地形是:

- A. 高原 B. 平原 C. 山地 D. 盆地

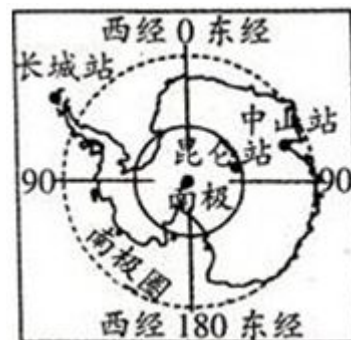
38. 有“黑人故乡”之称的是()

- A. 欧洲 B. 拉丁美洲 C. 撒哈拉以南的非洲 D. 大洋洲

39. 2009年1月17日, 我国成功建立南极内陆科考站—昆仑站。读图,

回答问题。下列四地不会出现极昼、极夜现象的是 ()

- A. 长城站 B. 中山站
C. 昆仑站 D. 南极点



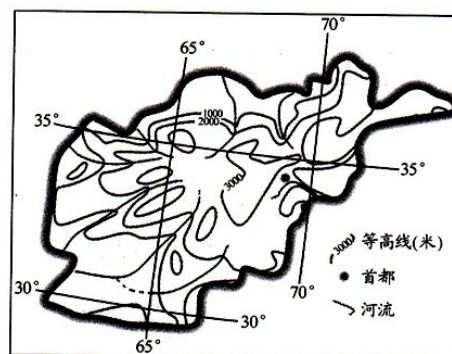
40. 读某内陆国家等高线地形图, 读图完成下列各题。

(1). 约占该国面积 4 / 5 的地形为 ()

- A. 平原和盆地 B. 高原和山地
C. 平原和丘陵 D. 丘陵和盆地

(2). 该国的农田应主要分布在 ()

- A. 中部和西北部 B. 中部和南部
C. 中部和东北部 D. 北部和西部



(3). 该国灌溉农田的水源量相对较大的时期在 ()

- A. 夏季和秋季 B. 冬季和春季 C. 春季和夏季 D. 秋季和冬季



41.当地时间 2010 年 2 月 27 日 3 时 34 分(当地夏令时间:西四区区时+1 小时),智利发生特大地震,震级为里氏 8.8 级,震中位于南纬 35°48'、西经 72°42'海域。完成下列各题。

(1). 此次地震发生时,北京时间为 ()

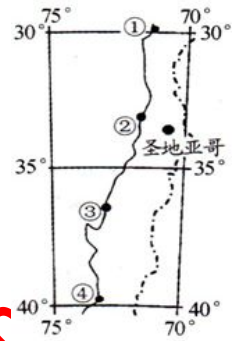
- A. 2010 年 2 月 26 日 15 时 26 分
- B. 2010 年 2 月 27 日 14 时 34 分
- C. 2010 年 2 月 27 日 16 时 34 分
- D. 2010 年 2 月 28 日 2 时 34 分

(2). 图中示意的四个城市中距震中最近的是 ()

- A. ① B. ② C. ③ D. ④

(3). 对智利首都圣地亚哥的介绍,不可信的是()

- A. 市区铜像雕刻千姿百态,栩栩如生
- B. 一年四季棕榈婆娑,绿茵茵
- C. 向东眺望远处可见白雪皑皑的山峰
- D. 当地的冬季干燥温和,夏季凉爽多雨雾



如
季

42.初级产业产品的外销为澳大利亚重要外汇来源之一,近五年来由于降水极少,该国已面临“百年大旱”。权威人士提出“若再没有足够的雨水,将停止大部分农地的灌溉”。据此完成下题。

(1). “停止农地灌溉”的措施一旦执行,受影响最大的地区是()

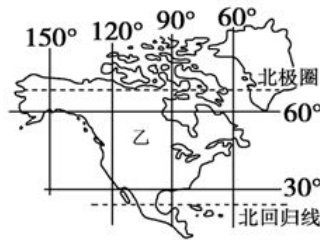
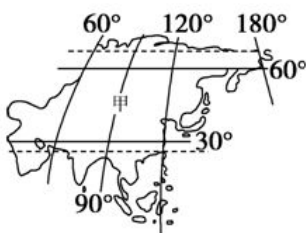
- A. 甲 B. 乙 C. 丙 D. 丁

(2). 停止农地灌溉最可能带来的国际性问题是 ()

- A. 铁矿石和煤炭价格上涨 B. 牛羊肉和稻米价格上涨
- C. 乳品和原油价格上涨 D. 羊毛和小麦价格上涨



43.读甲、乙两大洲轮廓定位图,读图完成下列各题。



(1). 有关甲、乙两大洲位置范围的叙述,不正确的是

- A. 甲大洲在亚欧大陆上,乙大洲在美洲大陆上
- B. 甲乙两大洲的分界线是白令海峡
- C. 甲乙两大洲都跨东西半球和南北半球
- D. 甲大洲东临太平洋,乙大洲西临太平洋

(2). 有关甲、乙两大洲的地形状况的叙述,正确的是

- A. 甲大洲有喜马拉雅山脉,乙大洲有阿尔卑斯山脉
- B. 甲大洲中部多为高原山地,乙大洲中部主要是平原

- C. 世界最高高原在甲大洲，最大平原在乙大洲
D. 甲大洲地形复杂多样，地势起伏大，乙大洲地形单一，地势起伏很小

(3). 有关甲、乙两大洲气候的叙述，正确的是

- A. 甲乙两大洲的南部都有热带雨林气候分布
B. 甲乙两大洲的西部都有温带海洋性气候分布
C. 甲乙两大洲的北部都有冰原气候分布
D. 甲乙两大洲的东部都有温带季风气候分布

44. 区域发展的趋势是

- A. 平衡——不平衡——平衡
B. 不平衡——平衡
C. 不平衡——平衡——不平衡
D. 平衡——不平衡

45. 读北美部分图。读图完成下列各题。

(1). 以下叙述符合图中五大湖特征的是

- A. 五大湖都是咸水湖
B. 地处温带沙漠气候区，为当地居民提供了丰富的水源
C. 成因与冰川作用有关，是冰蚀湖
D. 分布于西部沿海地区

(2). 20 世界上半叶，芝加哥发展以钢铁为主导的重工业，并成为 20 世纪美国最大的钢铁工业基地。芝加哥发展钢铁工业最有利的条件是

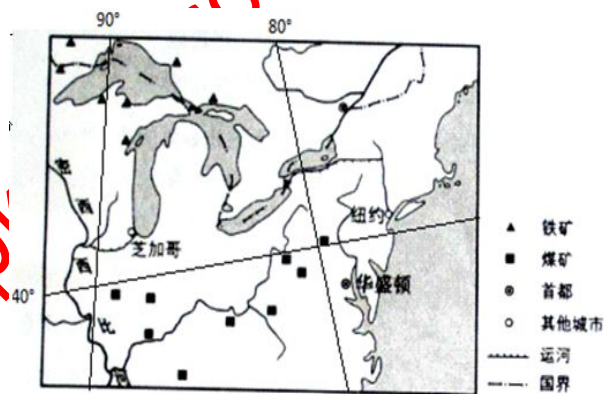
- A. 良好的工业基础
B. 便捷的交通运输
C. 充足的劳动力
D. 丰富的原料和燃料

(3). 该区有美国著名的东北部工业区，下列说法正确的是

- A. 有五大湖及沿海便利的水运条件
B. 工业中心有洛杉矶、休斯敦等
C. 工业区内的“硅谷”是美国新兴的电子工业中心
D. 为新兴工业区

(4). 美国农业专业化程度极高，是世界上的农业大国，图示区域主要为_____农业带。

- A. 小麦带
B. 棉花带
C. 乳畜带
D. 亚热带作物带

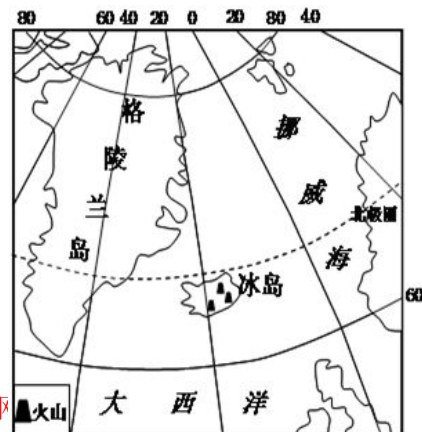


46. 下图所示冰岛有 100 多座火山，其中有 40 至 50 座活火山,读图完成下列各题。

(1). 冰岛属于

- A. 欧洲国家
B. 亚洲国家
C. 北美洲国家
D. 非洲国家

(2). 火山喷发是地球内部岩浆受强大挤压作用下，沿着薄弱的地带喷出地带的现象。成因上，火山喷发所形成的岩石属于



- A. 沉积岩 B. 岩浆岩 C. 变质岩 D. 石灰岩

(3). 冰岛多火山是因为它处于

- A. 亚欧板块和美洲板块挤压地带 B. 亚欧板块和美洲板块分离地带
C. 美洲板块和非洲板块挤压地带 D. 美洲板块和非洲板块分离地带

(4). 夏季冰岛火山喷发的烟尘会缓缓向英国、挪威、德国、波兰等国漂移，进而会影响到欧洲航空运输，主要原因是该地区此时受____风的影响。

- A. 极地东风 B. 东北信风 C. 西北季风 D. 盛行西风

47. 位于亚、欧两个大洲之间的海峡是

- A. 土耳其海峡 B. 直布罗陀海峡 C. 英吉利海峡 D. 马六甲海峡

48. 台湾工业中居重要地位的是（ ）

- A. 钢铁、机械、汽车、石油化工 B. 建筑材料、有色冶金、纺织、服装
C. 塑料制品、电子电器、家具制造 D. 纺织、电子电器、食品加工、石油化工

49. 下列有关 20 世纪 60 年代后，台湾经济发展方向的叙述中，正确的是（ ）

- A. 形成“进口——加工——出口”型经济 B. 形成初级产品出口型经济
C. 形成单一经济型经济 D. 形成自给自足型经济

50. 下列说法正确的是（ ）

- A. 香港和澳门都属于热带气候 B. 香港和澳门都属于亚热带季风气候
C. 香港、澳门都位于珠江口的西侧 D. 香港和澳门都位于珠江口的东侧

51. 我国正在大力建设开发、储量丰富的大油田位于新疆的（ ）

- A. 塔里木盆地 B. 吐鲁番盆地 C. 准噶尔盆地 D. 天山山区

52. 南方地区在全国占重要地位的矿产资源是（ ）

- A. 煤和石油 B. 非金属矿 C. 有色金属矿 D. 黑色金属矿

53.长江中下游平原和四川盆地相同的主要农作物为（ ）

- A. 稻谷、棉花、淡水鱼 B. 柑橘、棉花、稻谷
C. 桑蚕、甘蔗、柑橘 D. 稻谷、油菜籽、桑蚕

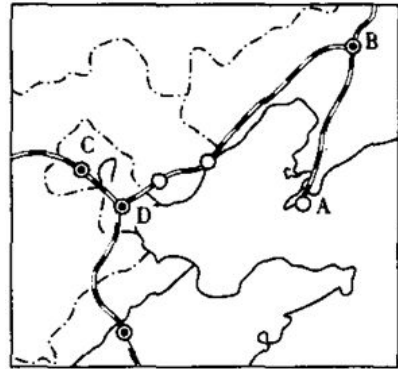
54.读图，回答下题：

(1).图中 A,B,C,D 四个工业中心,以造船业著称的是 ()

- A. A B. B C. C D. D

(2).京津唐地区资源丰富，主要有（ ）

- A. 有色金属 B. 铁矿、石油、海盐
C. 石油、钾盐 D. 海盐、锰结核



(3).从大庆运输石油到北京燕山石油化工厂进行炼制，应选用的最佳运输方式是（ ）

- A.铁路运输 B.航空运输 C.公路运输 D.管道运输

55. 下列河流中，水位季节变化最大、汛期最短的是（C）

- A. 长江 B.黄河 C.闽江 D. 珠江

56.我国四大盆地中，纬度最高的是（ ）

- A.塔里木盆地 B.四川盆地 C.准噶尔盆地 D.柴达木盆地

57.兼跨我国地势第一、第二级阶梯，又有五种地形分布的省级行政区简称是（ ）

- A.青 B.蜀 C.滇 C.新

58.属于我国内海的是 ()

- A.渤海和黄海 B.东海和南海 C.渤海和琼州海峡 D.东海和黄海

59. 下列我国部分少数民族的主要分布区正确的 ()

- A.傣族主要分布在贵州省
B.布依族主要分布在云南省
C.羌族主要分布在青海省
D.维吾尔族主要分布在新疆

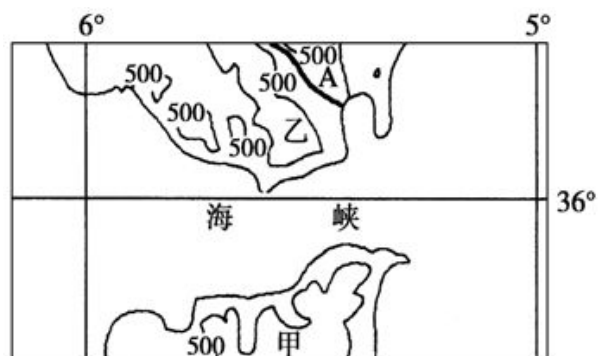
60.我国大陆海岸线北起中朝边界的（ ）

- A.北仑河口 B.图们江口 C.鸭绿江口 D.乌苏里江口

61.读“世界某地区图”，读图完成下列各题。

(1). 下列关于图中的叙述, 正确的是

- A. 图示海峡沟通了红海与印度洋
B. 图示海峡沟通了地中海与大西洋
C. A 河含沙量大, 水能丰富



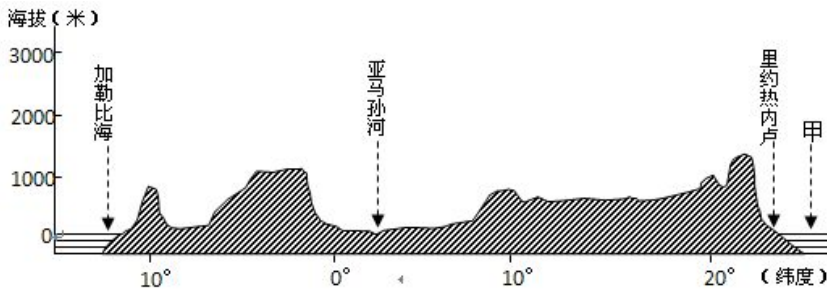


D. A 河夏季水量大，水位高

(2).甲、乙两国共有的农产品是（ ）

- A.棉花 B.天然橡胶 C. 油橄榄 D. 椰枣

62.下图为某大洲地形剖面示意图。读图完成下列各题。



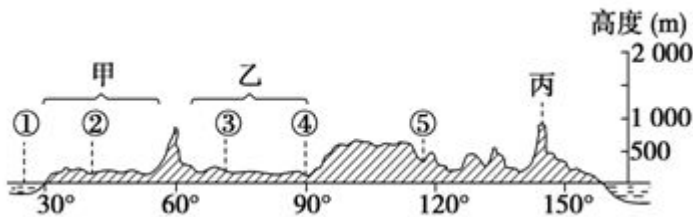
(1). 甲处所在大洋为（ ）

- A. 印度洋 B. 太平洋 C. 北冰洋 D. 大西洋

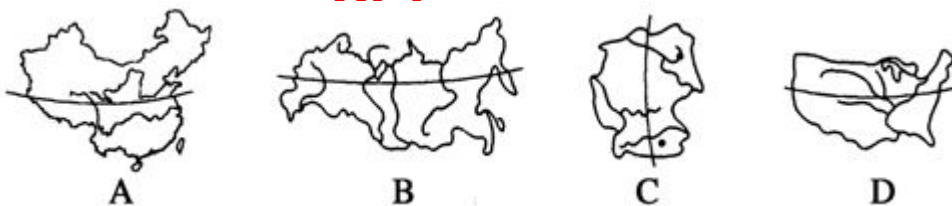
(2). 该剖面走向为（ ）

- A. 东北—西南走向 B. 南北走向 C. 东西走向 D. 西北—东南走向

63.下图是“某国地形剖面图”，读图完成下列各题。



(1).下图中四条剖面线，与上图剖面吻合的是（ ）



(2).对上图所示地区地理状况的叙述正确的是（ ）

- A.甲地形区是该国人口、粮食生产最少的地区 B.乙地形区是该国重要的石油产区
C.②~⑤各河流皆属北冰洋水系 D.丙山脉是阿巴拉契亚山脉

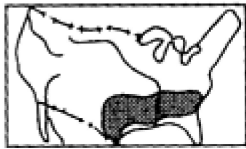
64.世界最大的淡水湖是“五大湖”中的：（ ）

- A. 苏必利尔湖 B. 休伦湖 C. 密歇根湖 D. 安大略湖

65.美国是一个移民国家，移民大多来自：（ ）

- A. 非洲 B. 欧洲 C. 亚洲 D. 南美洲

66.关于美国农业带的叙述与图幅序号相符的是（ ）



①



②



③



④

A. ①亚热带农作物②小麦带③玉米带④棉花带

B. ①玉米带②小麦带③棉花带④乳畜带

C. ①棉花带②乳畜带③小麦带④玉米带

D. ①棉花带②乳畜带③玉米带④小麦带

67. 鲁尔区开始实施综合整治的时间是 ()

A. 20 世纪 60 年代

B. 19 世纪中叶

C. 二战以后

D. 20 世纪 90 年代

68. 我国东北老工业基地与德国鲁尔区发展具有的共同优势条件是 ()

A. 有丰富的煤铁资源

B. 丰富的煤炭资源

C. 有优美的环境

D. 有充足的淡水资源

69. 20 世纪 50 年代以来, 鲁尔区衰落最明显的工业部门是 ()

A. 纺织、钢铁

B. 钢铁、煤炭

C. 机械、煤炭

D. 钢铁、电力

70. 下列城市, 属于鲁尔区内重要工业中心的是 ()

A. 汉堡、法兰克福

B. 波恩、慕尼黑

C. 杜伊斯堡、埃森

D. 斯图加特、鹿特丹

71. 下列工业部门中, 不属于鲁尔区的是 ()

A. 钢铁工业

B. 电力工业

C. 机械制造业

D. 石油工业

72. 欧洲西部的北、西、南三面分别濒临 ()

A. 北冰洋、地中海、大西洋

B. 北冰洋、大西洋、地中海

C. 地中海、印度洋、北冰洋

D. 地中海、大西洋、北冰洋

73. 下列关于德国鲁尔区的叙述, 正确的是 ()

A. 鲁尔区处于欧洲的十字路口, 地理位置优越

B. 鲁尔区内水源充足, 铁矿丰富

C. 有丰富的煤炭资源, 但是埋藏较深, 品种单一

D. 内河航运虽然发达, 但不能直通海洋

74. 欧洲西部的地形以 ()

A. 平原、高原为主

B. 平原、山地为主

C. 高原、山地为主

D. 高原、盆地为主

75. 亚洲人口稠密区集中在 ()

A. 亚洲东部和南部

B. 亚洲北部

C. 亚洲中部

D. 亚洲西部

76. 下列关于亚洲及欧洲人口的叙述, 正确的是 ()

A. 在各大洲中, 亚洲人口最多, 欧洲人口密度最小

B. 目前欧洲是世界上人口分布最均匀的大洲

C. 除南极洲外, 欧洲是世界上人口最少的大洲

D. 世界上人口超过 1 亿的国家, 大多数在亚洲和欧洲

77. 如果沿北回归线从东向西穿越亚洲, 所经过地区的气候类型依次为 () 全品教学网, 用后离不了!

- A. 热带季风气候、热带雨林气候、热带沙漠气候
B. 亚热带季风气候、热带季风气候、热带沙漠气候
C. 地中海气候、热带草原气候、热带沙漠气候
D. 地中海气候、亚热带季风气候、热带沙漠气候

78.世界上人口最多和人口密度最高的大洲是（ ）全品教学网， 用后离不了！

- A. 亚洲、欧洲 B. 亚洲、非洲 C. 欧洲、大洋洲 D. 南极洲、非洲

79.关于亚洲的叙述正确的是（ ）全品教学网， 用后离不了！

- A. 是世界上跨经度最多的大洲 B. 南部三大半岛都濒临印度洋
C. 里海是陆地最低点，死海是世界最大的湖泊 D. 朝鲜、韩国两国陆界均与我国相邻

80.亚洲的河流大多发源于亚洲中部，呈放射状流入四周的海洋，主要原因是（ ）

- A. 亚洲四周濒临 B. 亚洲地形呈放射状
C. 亚洲地势中部高，四周低 D. 亚洲气候湿润，降水丰沛


81.受地势影响，亚洲河流

- A. 呈放射状流向周边的海洋 B. 呈环状围绕着青藏高原
C. 呈放射状从四周流向中心 D. 由东向西流

82.亚洲气候类型范围最广的是

- A. 温带季风气候 B. 温带大陆性气候 C. 热带季风气候 D. 热带、亚热带沙漠气候

83.下图是我国沿某线的地形剖面图，读图完成下列各题。



(1).该线的走向是

- A. 东—西走向 B. 南—北走向 C. 东北—西南走向 D. 西北—东南走向

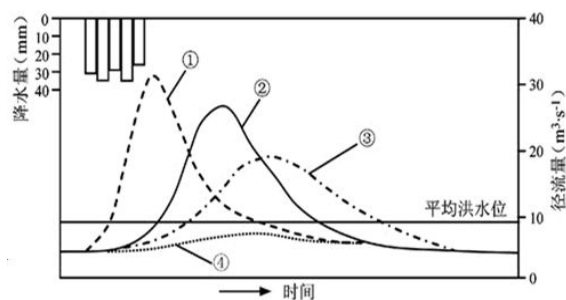
(2).图中①处

- A. 为喜马拉雅山 B. 在亚欧板块内 C. 其冰川属于大陆冰川 D. 其南坡降水贫乏

84.下图为同一降水过程形成的自然状态的洪水过程线、自然状态的地下径流过程、城市化后的洪水过程和修建水库后的洪水过程示意图。读图完成下列各题。

(1). 修建水库后形成的洪水过程是：

- A. ① B. ② C. ③ D. ④



(2). 修建水库后下游河流冲刷加剧, 可能发生的现象是:

- ① 河道因来沙量增加而加快淤积
- ② 河床底部易受侵蚀而水位加深
- ③ 河岸弯曲处易受侵蚀而崩塌
- ④ 两岸湖泊与河流间的落差减小

A. ①② B. ②③ C. ①③ D. ②④

(3). 水库具有综合效益。三峡水库最大的效益是

- A. 成为南水北调的“水源” B. 预防长江流域的洪涝灾害
- C. 解决了长江航运的咽喉问题 D. 开发长江水能实现西电东调

第 II 卷 (非选择题)

85. 读下图“东亚海平面等压线分布图”, 回答下列问题: (10 分)

(1) 图中两条等压线之间的气压差是: _____ 百帕; 等压线 M 的气压值为 _____ 百帕。 (2 分)

(2) 根据气压场分析 A 处的风向是 _____。若虚线处出现锋面, 试比较 A、B 两地的天气差异: _____。 (4 分)

(3) 请分析此季节我国东部季风区河流的水文特征: _____。 (4 分)

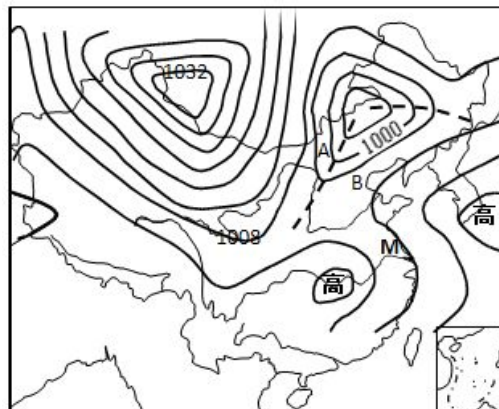


图 16


86.图 12 是世界某区域等压线分布图，已知 $X > Y$ ，回答问题。（20 分）

（1）图示季节，我国黄河科考站的昼夜状况如何？此时黄河的水文特点怎样？（4 分）

（2）图中 A 地平均年降水量为 11000mm，B 地平均年降水量在 500mm 以下。试分析两地降水差异的原因。（4 分）

（3）甲、乙两个半岛上农业地域类型有何相同点？（4 分）

（4）分析图示区域主要自然灾害及成因（8 分）



87.读世界森林面积正在逐渐消失图，回答：

（1）目前全世界消失森林最快的是_____洲，最慢的是_____洲。

（2）使森林面积锐减的原因主要是_____和_____。

（3）森林面积的急剧下降，将使生物_____面临毁灭性威胁，还会使许多地区造成

严重的_____和_____。

（4）森林资源的可持续利用，主要是实现资源的_____利用，如在森林采伐时应

不超过其_____。

（5）森林是一种重要的环境资源。有人说它是“大自然的总调度室”。下面一些形象比喻，各蕴涵森林的一种环境功能，请写出相应的功能：

A.天然“净化器”_____。 B.天然“吸尘器”_____。

C.天然“水库”_____。 D.天然“绿色卫士”_____。

E.天然“消声器”_____。 F.天然“美容师”_____。

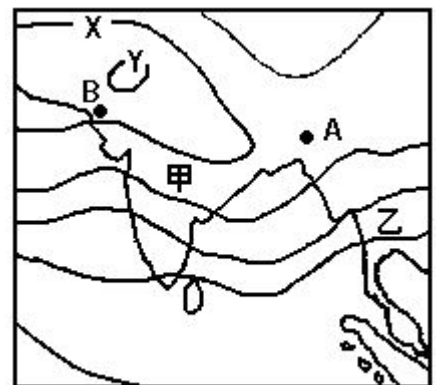


图 12

88.读图，完成下列各题。



(1) A、B、C、D 四地中，_____是我国水土流失最严重的地区，产生的主要原因是_____。解决的主要措施是_____。(7分)

(2) A、B、C、D 四地中，_____地区目前供水相当紧张，为解决这一问题，我们应采取的主要措施是_____。(4分)

(3) B 地区主要的能源矿产是_____。目前，我国东部地区在经济发展中存在着能源紧张的问题，为了解决这一问题，实现经济的可持续发展，我国建设了或正在建设一些大型工程，如：乙_____工程和丙_____工程等。(3分)

89.回答下列问题：(4分)

- (1) 中亚地区深居亚洲内陆，属_____气候；。
- (2) 中亚_____国因盛产棉花而被称为“白金之国”。
- (3) 植被以_____和_____为主

90.读下图回答下列问题：(10分)

(1).填出图中字母所代表的国家名称：

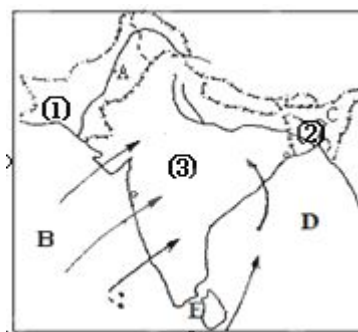
①：_____； ③：_____

(2).写出字母代表海域：B_____海 D _____湾

A 为_____河,发源于中国，是巴基斯坦主要的灌溉水源。

(3).此时为南亚地区热、雨、凉季中的_____季。

(4).图中地形分三部分，北部为高大的喜马拉雅山，中部是_____平原和_____平原，南部为_____高原。



(5) 该地区冬季在气候上难以受北方冷空气侵入的原因是什么？

91. 读下图“非洲地形、河流图”，完成下列各题：（10分）

(1) 写出图中字母代表地理事物的名称：

A_____山脉, B_____山脉, F_____河, H_____岛。

(2) D 处的气候类型是_____气候，

形成原因是_____。

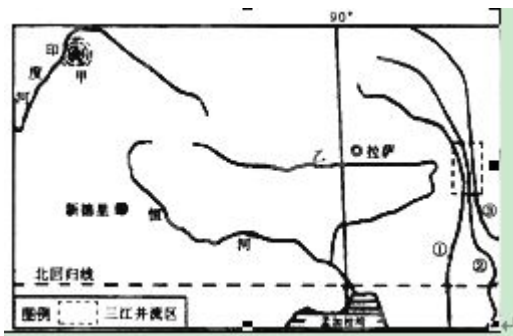
(3) C、D 两河中，哪一条河的水量较大、水位季节变化小？

_____（填字母和名称），原因是什么？

(4) C、D 两河中水力资源丰富的是_____（字母和名称），

原因是什么？

92. 读图，回答下列问题（5分）

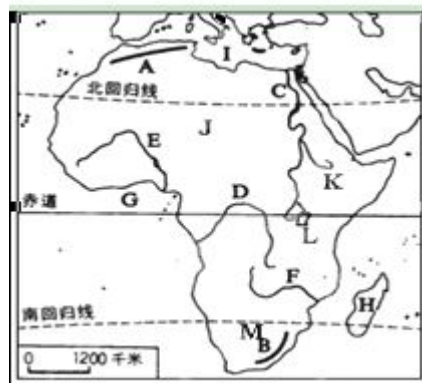


(1) 2005 年 10 月 8 日，在图中甲地发生 7.6 级的强烈地震，了该地区遇难人数超过 7 万人。简述此地多地震的最主要原因

(1 分)

(2) 图中乙地可以开发的新能源有_____能、_____能等。（2分）

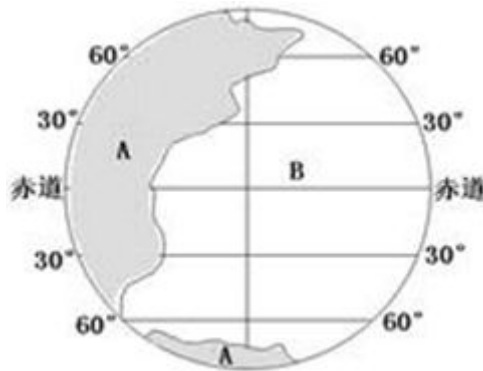
(3) 印度河一年有两次汛期，一次发生在 3—5 月，一次发生在 7—8 月，试分别说明导致该河两次汛期最主要的河水补给方式分别是_____、_____。（2分）



造成
因。

93.读“西亚图”，回答问题（7分）

- (1)图中沟通①_____海和黑海的海峡⑤是_____海峡。
- A. 图中④是_____运河。
- B. 图中③是_____湾，⑦国所在半岛是_____半岛。该半岛上面积最大的国家是_____。
- (4)图中⑧是_____海，它为世界上面积最大的湖泊。



94.读图，回答下列问题。

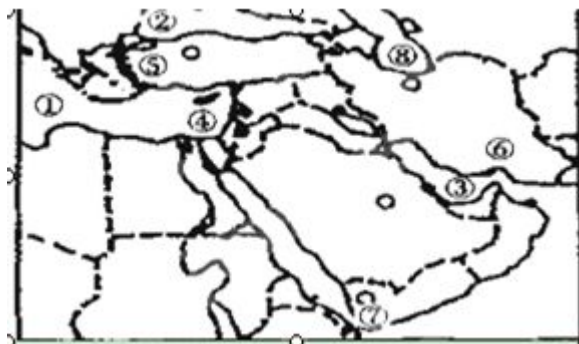
- (1) 写出国家名称：

1_____ 2_____ 3_____

- (2) 读图写出海洋名称：

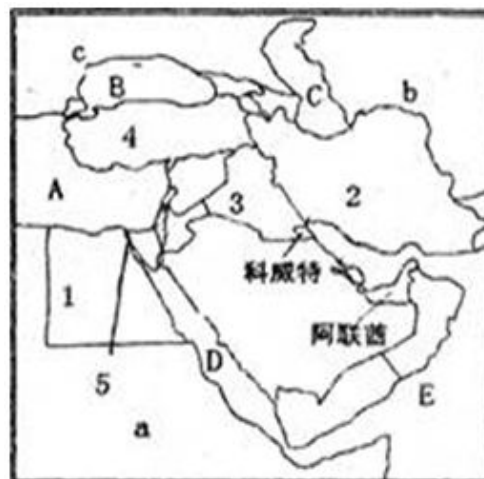
A_____ B_____

C_____ D_____

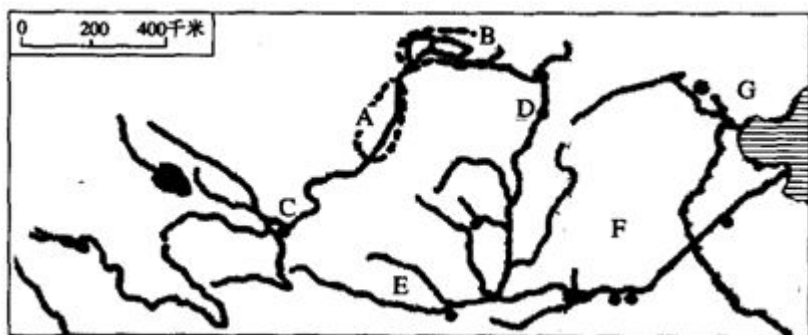


95.读不同纬度海陆分布比例示意图，回答下列问题。

- (1) 图中字母 A、B 中，表示陆地的是____，就南、北半球而言，其主要集中在 ____ 半球。
- (2) 比较南、北极点附近海陆分布状况差异：_____。
- (3) 比较南纬 60°附近和北纬 60°附近海陆分布状况差异：_____。



96.读下图，回答下列问题。

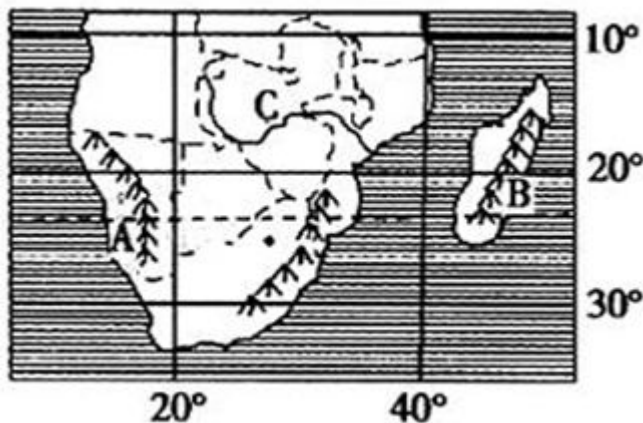
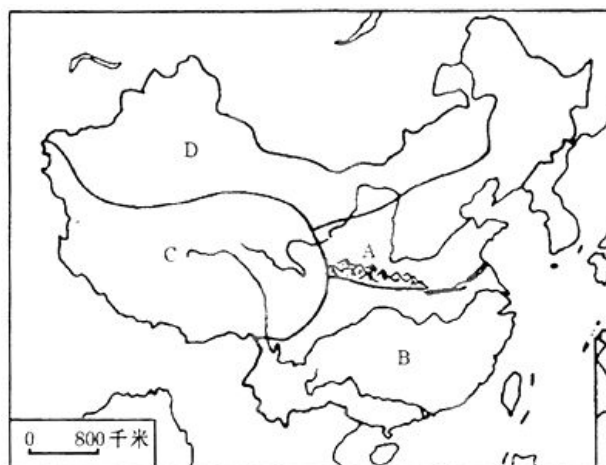


- (1)图中 A 地区冬季气温比同纬度附近地区的气温_____（高、低），产生差异的原因是什么？
- (2)图中 E 地形区的名称是_____，属于地质构造中的_____
- (3)图中 F 地重要的经济作物是_____，此区种植该作物的有利自然条件是什么？
- (4)图中 G 所在地区是我国重要的工业基地之一，它的名称是_____，
对此工业基地发展有利的社会经济条件有哪些？

97.（10 分）读某区域图，回答问题：

- (1) 比较 A、B 两地（年平均）气温日较差的大小，并简要分析主要原因。（3 分）
- (2) 说明 B 地的自然带名称并分析成因。（3 分）
- (3) C 河是图示区域最大的河流，
简述该河的水文特征。（4 分）

98.读下图，并完成下列各题：（10 分）



- (1) 图中区域 C 为_____区, D 为_____区。在 C、D 两区的交界线上有_____山和_____山。
- (2) 图中 A、B 所在的区为_____区, AB 间以_____为界, 自然环境差异明显。A 与 C 相邻处的温度带属于_____带, B 与 C 相邻处的干湿地区属_____区。
- (3) 从 C 区向东, 农业生产由以_____业为主变为以_____业为主。

99. 读图, 完成下列要求。(10 分)

- (1) 亚洲东、南两面分别濒临_____洋和_____洋, 水域广阔, 因而东部和南部地区具有典型的_____气候。
- (2) 将图中序号所代表的地理事物名称填写在下面的横线上:
- 山脉: A _____、C _____。
- 高原: H _____。
- 平原: ② _____。
- 半岛、岛屿: ⑤ _____, ⑥ _____。
- (3) 北回归线穿过亚洲的 D _____和湄公河两条大河。

100. 阅读相关材料, 回答下列问题。(11 分)

城镇化是社会经济发展的必然趋势, 是区域经济增长的中心。城镇化水平重心的空间变化也应该与经济重心的变化相一致。

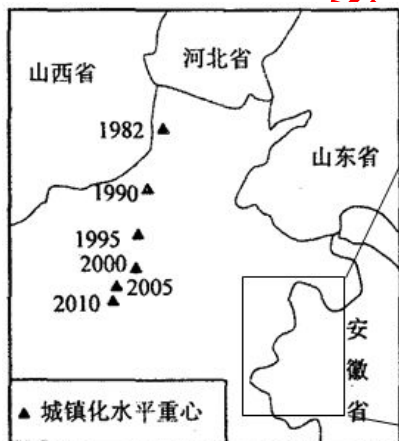


图1 我国城镇化重心轨迹


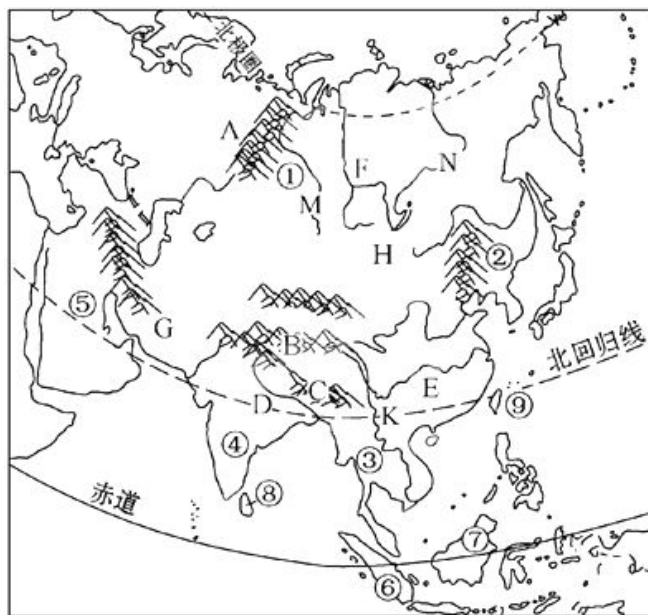


图2 我国





- (1). 1990 年至 2010 年间，在东西和南北方向上，我国城市化重心移动分别呈什么趋向？（2 分）

- (2). 归纳我国城镇化分布的基本特征，并说明判断依据。（3 分）

- (3). 我国城镇化重心和经济重心的移动方向大致相同，请分析其大致相同的原因。（6 分）

北京博飞 www.pkuzyw.com