

绝密★启用前

2014 年中华人民共和国普通高等学校
联合招收华侨、港澳地区、台湾省学生入学考试
地 理

一、选择题：本大题共 20 小题，每小题 3 分。在每小题给出的四个选项中，只有一项是符合题目要求的。

图 1 中，阴影部分为夜，读图 1，完成 1~3 题。

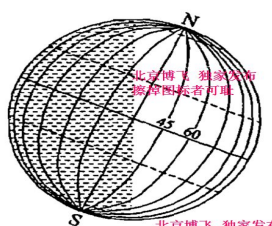


图 1

- 1.图 1 所示为北半球的
A.冬至日
B.春分日
C.夏至日
D.秋分日
- 2.图 1 所示时刻，北京时间为
A.0 时
B.6 时
C.12 时
D.18 时
- 3.此刻，下列现象可能的是
A.地中海东岸渔民沐浴朝阳出海捕鱼
B.我国北极黄河站夕阳西下
C.美国东北部人们在寒夜中熟睡
D.潘帕斯草原上人们顶着炎炎烈日收割小麦

河水补给有大气降水、冰雪融化、地下水等。由于补给水源的不稳定，我国的河流流量呈现明显的季节变化。完成 4~5 题。

- 4.我国东部各大河相比较
A.珠江的汛期比长江短



B.黄河的汛期比长江晚

C.珠江流量的季节变量比长江大

D.黄河流量的季节变率比长江小

5.新疆北部河流春汛的水源主要来自

A.大气降水

B.冰川融水

C.积雪融水

D.地下水

三江源地区有“中华水塔”之称，国家在此建立了三江源自然保护区，完成 6~7 题。

6. “三江源”是指三条大江大河的发源地。这三条大江大河中，除长江、黄河外，另一条是

A.雅鲁藏布江

B.珠江

C.怒江

D.澜沧江

7.三江源地区位于

A.西藏

B.青海

C.四川

D.甘肃

我国是世界上高速铁路建成线路最长、在建规模最大的国家。2012 年 12 月 26 日，京广高铁全线开通运营，自北京至广州全程最快只需约 8 小时，完成 8~9 题

8.世界上一次性建成通车里程最长的高速铁路是我国的

A.哈大高铁

B.京沪高铁

C.京广高铁

D.沪杭高铁

9.京广高铁开通运营后，下列区段相比，航空客运受影响最严重的是

A.北京—郑州

B.石家庄—长沙

C.武汉—广州

D.北京—武汉

改革开放后，广东省人口迅速增长。2010 年我国第六次人口普查结果，广东省人口总数位居各国第一位。完成 10—11 题。

10.改革开放后，广东省人口迅速增长的主要原因是

A.人口出生率高

B.人口死亡率低

C.人口自然增长率高

D.外省区人口迁入量大

11.2010 年，广东省人口中

A.少幼人口比重大

B.青壮年人口比重大

C.老龄人口比重达

D.剩余劳动力多

咖啡、可可和茶叶并称为世界三大饮料，亚洲、非洲、拉丁美洲是它们的主要产地。完



成 12~13 题。

12.咖啡、可可和茶叶在世界上的最大产地依次分布在

- A.亚洲、非洲、拉丁美洲 B.非洲、拉丁美洲、亚洲
C.拉丁美洲、非洲、亚洲 D.亚洲、拉丁美洲、非洲

13.与我国大部分地区相比，海南岛能栽培三大饮料作物依赖的主要自然条件是

- A.降水 B.热量 C.光照 D.地形

“金砖国家”包括俄罗斯、印度、巴西、南非和中国，经济发展各有特点。完成 14~15 题。

14.在“金砖国家”中，印度被称为

- A.世界办公室 B.世界工厂 C.世界原料库 D.世界加油站

15.成为中国钢铁工业铁矿石主要供应国的是

- A.南非 B.印度 C.巴西 D.俄罗斯

改革开放以后，香港某服装企业将其服装加工厂转移到深圳（图.2）。至 20 世纪 90 年代，该企业在深圳的服装厂利润微薄，需要进一步向其他地区转移。完成 16~18 题。



16.改革开放以后，香港该服装企业将加工厂转移到祖国内地，考虑的主导因素是

- A.原料 B.交通运输 C.市场 D.劳动力价格

17.与内地其他地区相比，当时深圳成为香港工业转移目的地的优势条件是

- A.技术水平高 B.政策优惠 C.环境优美 D.劳动力丰富

18.20 世纪 90 年代，该企业的服装加工厂需要再次转移的主要原因是深圳

- A.劳动力价格较高 B.用地紧张 C.环境污染严重 D.原料短缺

人类大量排放二氧化碳，被认为是全球变暖的主要原因之一。为此，世界很多国家签订公约，减少二氧化碳排放。完成 19~20 题。

19.大气中的二氧化碳使大气增温，主要是因为二氧化碳能强烈吸收



- A. 太阳紫外线 B. 太阳可见光 C. 大气辐射 D. 地面辐射

20. 我国下列措施中，有利于减少二氧化碳排放的是

- A. 拓展石油、天然气的进口途径 B. 对私人购买小汽车进行补贴
C. 扩大冬季供暖的地区范围 D. 鼓励开发利用风能、太阳能

二、填空题（共 20 分）本题共 20 个空格，每填对一空得 1 分。（请将答案填写在答题卡相应空格内）

21. 以_____—_____一线为界，我国粮食主产区有南稻北麦之分。近些年来，我国农业生产的地区专业化已初见端倪，其中，在省级行政区中，_____是最大的玉米产地，_____是最大的小麦产地，_____是最大的棉花产地。

22. 按三大类岩石划分，砂岩属于_____岩，花岗岩属于_____岩，大理岩属于_____岩；按地质构造划分，喜马拉雅山脉属于_____山脉，渭河谷地属于_____。

23. 根据主导区位因素的不同，工业可分为不同的指向型。甜菜或甘蔗制糖属于_____指向型工业；普通家具制造属于_____指向型工业；炼铝属于_____指向型工业；家用电器装配属于_____指向型工业；精密仪表制造属于_____指向型工业。

24. 世界的森林资源主要分布在热带雨林带和亚寒带针叶林带。热带雨林主要分布在南美洲的_____平原、非洲的_____盆地和亚洲的东南亚；亚寒带针叶林主要分布在_____洲、_____洲和_____洲的中高纬度地带。

三、读图、填图题（每项 2 分，共 40 分）（请将答案填写在答题卡相应空格内）

25. 图 3 示意新疆地形分布大势。读图 3，将图中字母代表的地理事物名称填写在答题卡相应的空格中。

- A 为_____山脉；
B 为_____盆地；
C 为_____山脉；
D 为_____盆地；
E 为_____山脉。

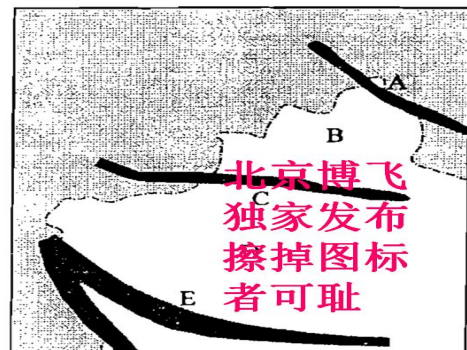


图 3

26. 读图 4，将图中字母代表的地理事物名称填写在答题卡相应的空格中。



图 4

- A 为_____运河；
B 为_____河；
C 为列入《世界自然和文化遗产》名录的_____山；
D 为省会城市_____；
E 为第二亚欧大陆桥东部起点_____港。

27. 读图 5，将图中字母代表的地理事物名称填写在答题卡相应的空格中。



图 5

- A 为_____运河；
B 为伊斯兰教第一圣城_____；
C 为世界最大的半岛_____半岛；
D 为_____湾；
E 为被称为石油运输“咽喉”要道的_____海峡。

28. 读图 6，将图中字母代表的地理事物名称填写在答题卡相应的空格中。

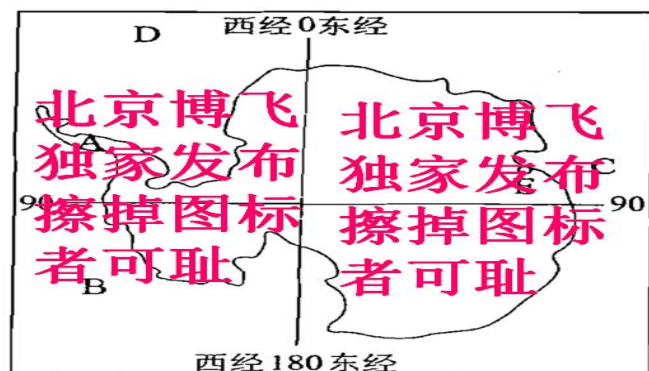


图 6

- A 为_____半岛；
B 为_____洋；
C 为_____洋；
D 为_____洋；
E 为我国南极科学考察站_____站。

四、综合题（共 30 分）

29. 读图 7 和 8，完成下列要求。（16 分）

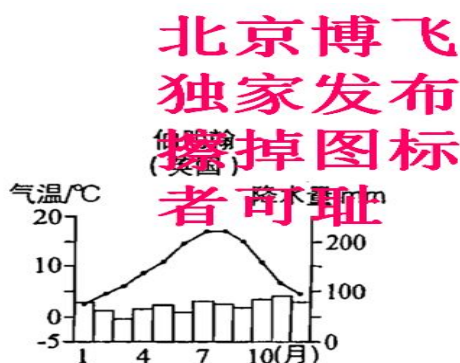


图 7

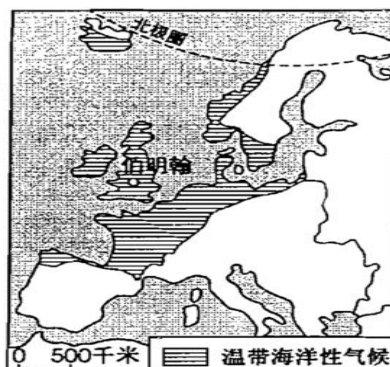


图 8

(1) 读图 7，简述温带海洋性气候特征。（4 分）

(2) 读图 8，分析欧洲西部温带海洋性气候分布范围广大的原因。（12 分）

30. 读图 9，完成下列要求。（14 分）

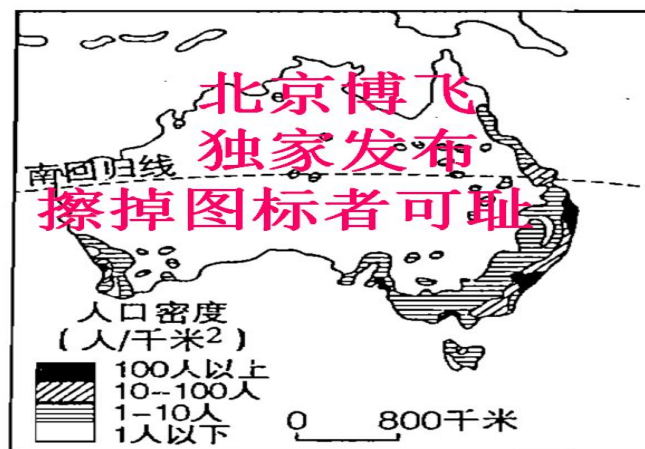


图 9

(1) 概括澳大利亚人口分布的特点。（3 分）

(2) 从气候类型和干湿状况两方面，简述澳大利亚气候对人口分布的影响，（11 分）