

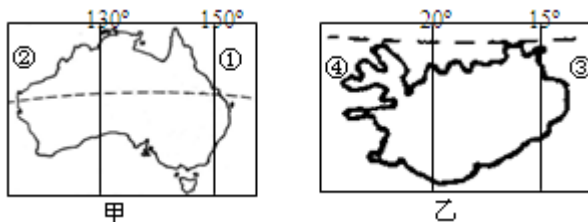
# 北京博飞华侨港澳台联考试题

## 地理部分 39-51

-----澳大利亚

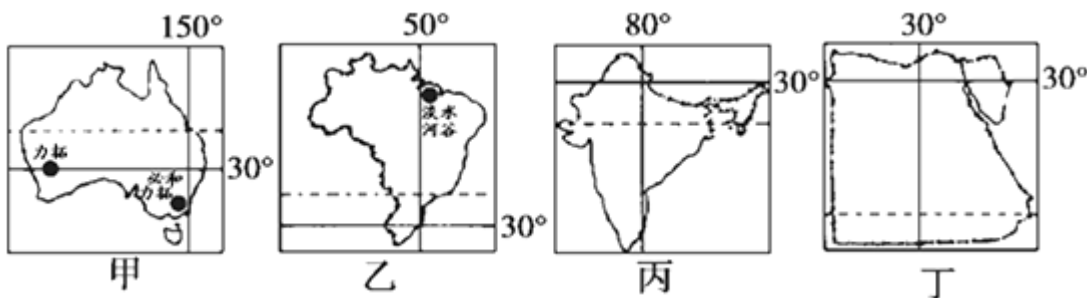
### 一、选择题

读下图，完成下列小题。



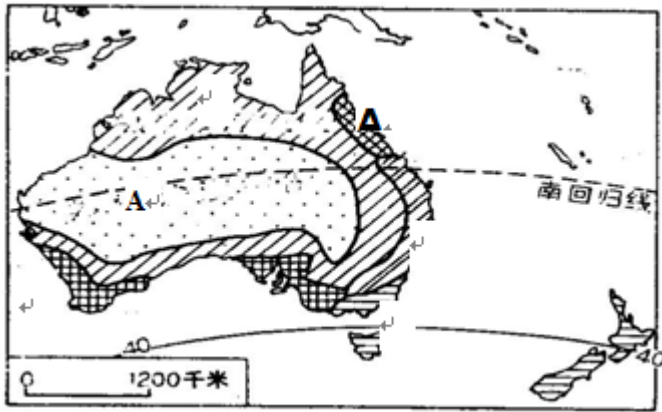
- 下列叙述正确的是（ ）
  - 甲地跨南北半球，乙地跨东西半球
  - 两地都位于南太平洋
  - 两地所在海域的水温差异较大
  - 两地的自然景观较为相似
- ①②③④地的海水温度的排序是（ ）
  - ①<②<③<④
  - ④<③<②<①
  - ②<④<①<③
  - ①<③<②<④

读下图，回答下列各题。



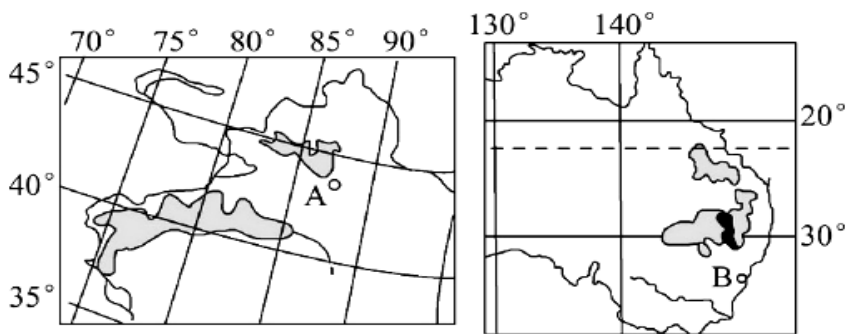
- 在图示四国中，都有回归线穿过，其中没有沙漠分布的国家是（ ）
  - 甲
  - 乙
  - 丙
  - 丁
- 有关四个国家的经济特征的叙述，正确的是（ ）
  - 甲国是工矿业和农牧业发达的国家
  - 乙国是世界最大的稻米生产国
  - 丙国工业集中分布在东南沿海地区
  - 丁国最主要的经济支柱是长绒棉的生产和出口

读下图，回答下列各题。



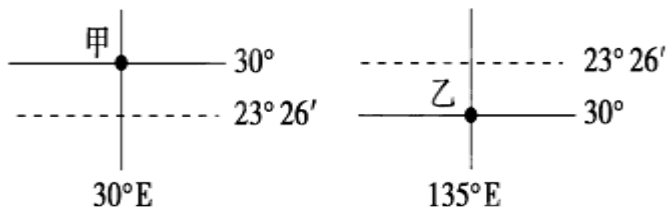
5. 下列有关 A 地所在国家的叙述正确的是：（ ）
- A. 该国西临大西洋  
B. 该国的地势是两侧高中间低  
C. 该国的人口主要集中在东北部地区  
D. 该国是世界最大的牛肉出口国
6. 下列叙述中与 A 地沙漠气候形成无关的是：（ ）
- A. 长时间受副热带高压的控制  
B. 受到西澳大利亚寒流的影响  
C. 受到干燥的东北信风的影响  
D. 位于大分水岭的背风坡

读下面某两区域图，完成下边问题。



7. B 城市位于 A 城市的（ ）
- A. 东北方向      B. 东南方向      C. 西南方向      D. 西北方向
8. 与右上图区域相比较，左上图区域发展棉花生产的不利条件是（ ）
- A. 交通便利      B. 劳动力价格低  
C. 政策扶持力度小      D. 科技水平低
9. 图示两区域共同拥有的特色旅游资源是（ ）
- A. 大漠孤烟      B. 海上明月      C. 林海雪原      D. 飞瀑流急

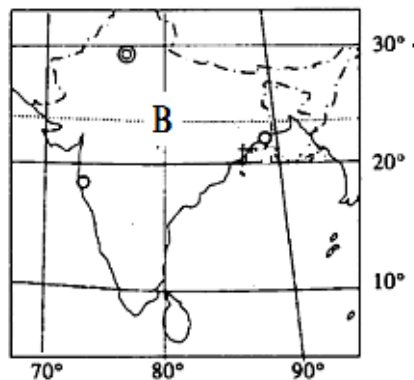
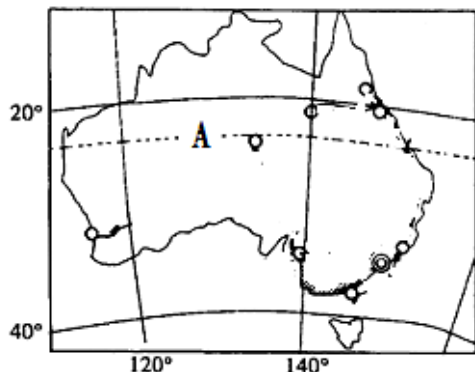
读图，回答下列各题。



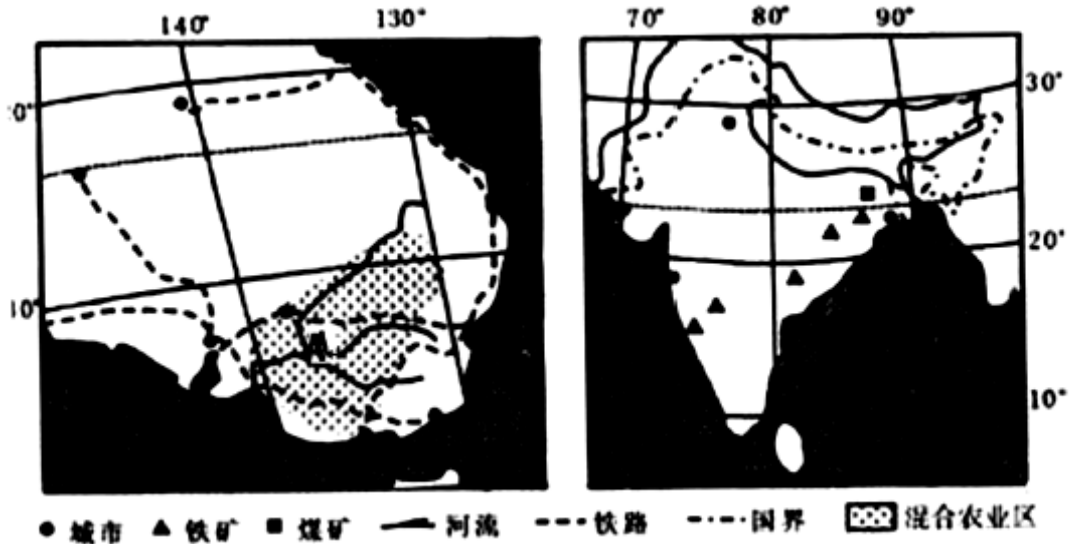
10. 甲、乙两地所在国家分别是  
 A. 印度、澳大利亚 B. 埃及、巴西  
 C. 印度、巴西 D. 埃及、澳大利亚
11. 甲、乙两地所在国家在自然地理特征方面相似的是  
 A. 都是所在大洲面积最大的国家  
 B. 都位于太平洋与印度洋之间的航运要道上  
 C. 境内热带荒漠面积都比较大  
 D. 境内都有一条纵贯南北、流量丰富的大河
12. 关于甲、乙两地所在国家经济发展的叙述，正确的是  
 A. 甲地所在国家是世界重要的长绒棉生产国  
 B. 乙地所在国家水稻种植业发达  
 C. 两国都是本洲的发达国家  
 D. 两国的经济支柱是旅游业

## 二、综合题

13. 读下图, 回答下列问题。



- (1) 描述 AB 两地所在国家的地形特点。  
 (2) 分别描述 AB 两地气候类型及其特点。
14. 读“澳大利亚和印度略图”及两国的相关材料, 回答下列问题。  
 材料一: 澳大利亚国土面积 768 万平方公里, 人口 1800 多万人。澳大利亚十分重视提高畜牧业的科研水平, 对畜牧业的科研给予较高的资金投入。  
 材料二: 印度国土面积约 298 万平方公里, 人口约 12.1 亿人。澳大利亚最大钢铁公司在印度投资建立多家工厂, 以满足印度汽车制造商和建筑商对钢材的大量需求。



- (1) 澳大利亚四面环海为什么气候炎热干燥。
- (2) 分析 A 地区农业发展的社会经济条件。
- (3) 分析印度吸引澳大利亚钢铁公司建厂的主要区位因素。
- (4) 近年来人口由印度向澳大利亚迁移数量增多，请从迁入地和迁出地两方面中任选一个方面分析其人口迁移的主要原因

#### 参考答案

1. C
2. B
3. B
4. A
5. B
6. C
7. B
8. D
9. A
10. D
11. C
12. A
- 13.

(1) A 地所在国地形特点：平原高原为主，地势东西高中部低，东部是大分水岭，中部是平原，西部是低矮的高原；B 地所在国地形特点：平原高原为主，地势南北高中部低，北面是山地，中部是平原，南部是高原。

(2) A 地气候：热带沙漠气候，终年炎热干旱少雨；B 地气候：热带季风气候，终年炎热，有明显的旱雨季。

14.

(1) 南回归线中部（纬度低），气温高，蒸发强；大部分受副高和干燥信风控制，降

水少；东部大风水岭山南北延伸，阻挡东部海洋湿润气流伸入内陆；西海岸寒流降温减湿。

（2）海陆交通便利（靠近主要公路，距海港近）；附近人口、城市较为密集，有广阔的国内外销售市场；劳动力素质高；政府扶持鼓励；科技发达，机械化程度高等。

（3）印度煤、铁等矿产资源丰富；有大量的廉价劳动力；市场广阔。

（4）印度人口众多，人口压力大；就业困难；社会福利保障差等或澳大利亚地广人稀，就业机会多；社会福利高；经济发达等。