

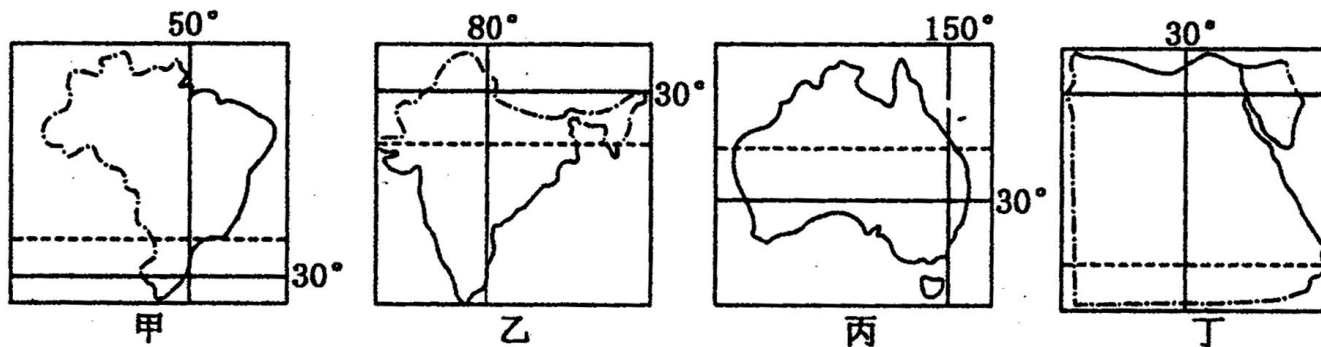
北京博飞华侨港澳台联考试题

地理部分 38-51

-----南美洲

一、选择题

读下图，回答下题。



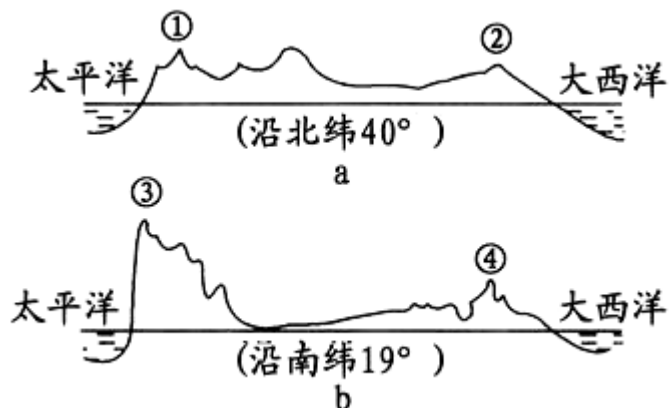
1. 下列有关图中四个国家自然地理特征的叙述，不正确的是（ ）

- A. 甲国地形以山地、高原为主
- B. 乙国以热带季风气候为主，旱雨两季分明
- C. 丙国河流较少，但中部地区地下水丰富
- D. 丁国有世界最长的河流流经

2. 有关四个国家经济特征的叙述，正确的是（ ）

- A. 甲国是世界上最大的咖啡和天然橡胶的生产国
- B. 乙国工业集中分布在东南沿海地区
- C. 丙国是工矿业和农牧业发达的国家
- D. 丁国目前最主要的经济支柱是长绒棉的生产和出口

图 a、图 b 分别是“某两个大洲大陆的地形剖面图”，读图完成下列各题。



3. 图中表示安第斯山脉的数字是

()

- A. ①
- B. ②
- C. ③
- D. ④

4. 流经山脉①西侧的洋流是

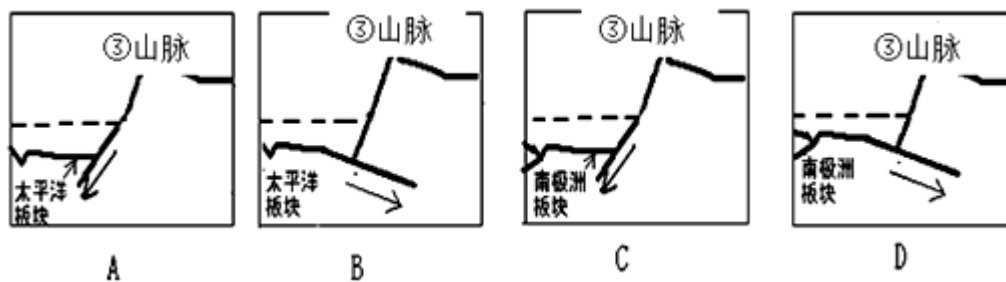
()

- A. 加利福尼亚寒流
- B. 北太平洋暖流

C. 秘鲁寒流 D. 本格拉寒流

5. 能反映③山脉形成的是下列哪幅图

()



2014 年世界杯足球赛于 6 月 12 日至 7 月 13 日在巴西圣保罗、里约热内卢、巴西利亚等东南部 12 座城市举行，读巴西略图，完成下列各题。



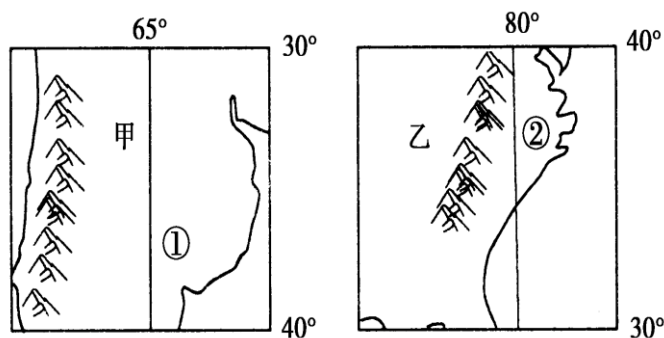
6. 巴西世界杯安排在 6、7 月比赛，此期间比赛城市的气候特点是 ()

- A. 高温多雨 B. 气温较低，降水较少
C. 气温较高，降水较多 D. 气温较低，降水较多

7. 我国某球迷在巴西观看比赛，其见闻可信的是 ()

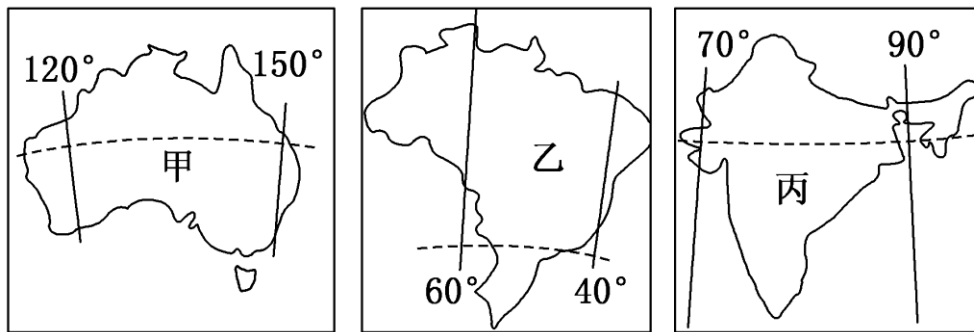
- A. 居民多为英国后裔，多说英语
B. 有饮茶习惯，大街小巷茶馆随处可见
C. 街头海滩，各色肤色的孩子在踢球
D. 加油站少，等待加油汽车排成长龙

读下图，回答下列小题。



8. 有关图中两山脉附近地区自然地理要素的叙述，正确的是（ ）
- A. 甲、乙两山脉都处于板块碰撞地带
B. 甲山脉西坡降水量大于东坡，乙山脉东坡降水量大于西坡
C. 甲、乙两山脉的西侧都有地中海气候分布
D. 甲、乙两山脉以东的河流汛期均出现在 5~10 月
9. 有关①、②两地所在国家的正确叙述是（ ）
- A. 两国最大的城市均是本国的政治和经济中心
B. 两国都属于发展中国家
C. ①地所在国家是世界上出口羊毛最多的国家
D. ②地所在国家大豆出口量居世界首位

下图所示甲、乙、丙三国均为世界某种矿产资源重要出口国，读图完成下列小题。

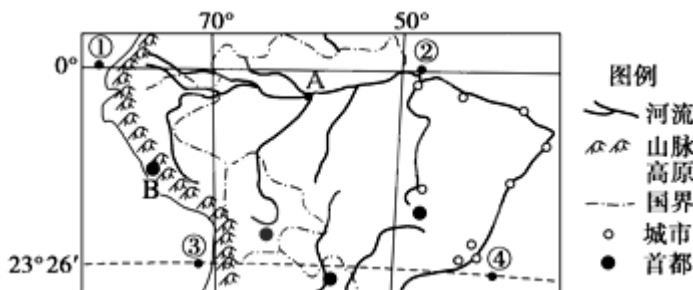


10. 该矿产资源是（ ）
- A. 铜矿 B. 铁矿 C. 石油 D. 煤炭
11. 矿石运输船从丙国沿较短航线驶往意大利，沿途依次经过的海域为（ ）
- A. 阿拉伯海、曼德海峡、红海、地中海
B. 红海、亚丁湾、阿拉伯海、苏伊士运河
C. 亚丁湾、霍尔木兹海峡、红海、苏伊士运河
D. 马六甲海峡、曼德海峡、苏伊士运河、直布罗陀海峡

二、选择题

12. 阅读下列材料，回答(1)~(6)题。

材料一 南美洲局部地理概况图。图中城市为百万以上人口城市。

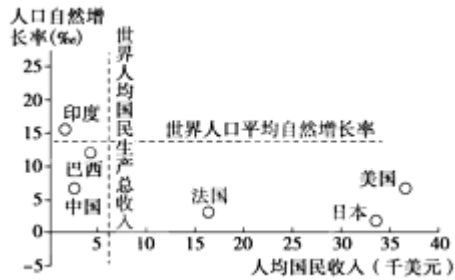


材料二 2005 年部分国家人口总数与城市人口比重。

国家	中国	印度	巴西	美国	法国	日本
人口(亿人)	12.95	10.41	1.74	2.88	0.62	1.27

城市人口比重(%)	37.7	27.9	81.7	77.4	75.5	78.9
-----------	------	------	------	------	------	------

材料三 2005 年部分国家人口自然增长率与人均国民收入。



- (1) B 处附近海岸的旗型树冠的朝向是_____。若 A 处河中心有一个沙洲，则沙洲最有可能首先同_____ (北或南) 岸相连。
 - (2) 从地形与气候两方面说明河流 A 水量丰富的原因。
 - (3) B 处沿海的气候类型是_____，分析该气候在 B 处的分布特点及成因。
 - (4) 巴西百万以上人口城市主要分布在_____。根据材料二和材料三对巴西的城市化特点作简要评价。
 - (5) 有关巴西农业的叙述，正确的是()
- A. 主要耕作区分布在东南沿海地区
 - B. 高原地区以种植咖啡为主
 - C. 亚马孙平原适宜种植水稻
 - D. 高原的农业地域类型为迁移农业
 - E. 主要经济作物有咖啡和可可
13. 读拉丁美洲图，回答下列问题：



- (1) 图中字母所代表的地理事物的名称：
A _____ 洋 B _____ 洋 C _____ 海 D _____ 运河
E _____ 湾 F _____ 海峡
- (2) 图中数字代表的地理事物名称：
① _____ 山脉 ② _____ 高原
③ _____ 河流 ④ _____ 群岛 ⑤ _____ 高原

参考答案

1. A

2. C

3. C

4. A

5. D

6. B

7. C

8. B

9. D

10. B

11. A

12.

(1) 西北 南

(2) 地形：西、北、南三面高，利于雨水汇集；湿润气流由东面进入，利于形成地形雨。气候：流域内以热带雨林气候为主，终年高温多雨。

(3) 热带沙漠气候 特点：①分布纬度低；②分布在沿海狭长地带。成因：①西部沿海为高大的安第斯山脉（无法向东扩展）；②沿岸有寒流经过。

(4) 沿海（沿河）地区 城市化水平高，但与经济发展水平不相适应；由于城市化水平超过了经济发展水平，容易出现城市环境质量和生活质量下降等问题。

(5) AE

13.

(1) 太平洋 大西洋 加勒比海 巴拿马运河 墨西哥湾 麦哲伦海峡

(2) 安第斯山脉 巴西高原 亚马孙河流 西印度群岛 墨西哥高原