

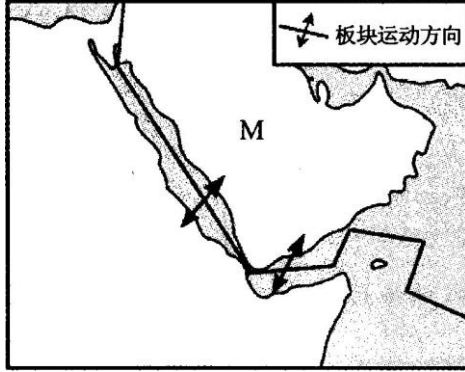
# 北京博飞华侨港澳台联考试题

地理部分 35-51

-----西亚、中亚、北非

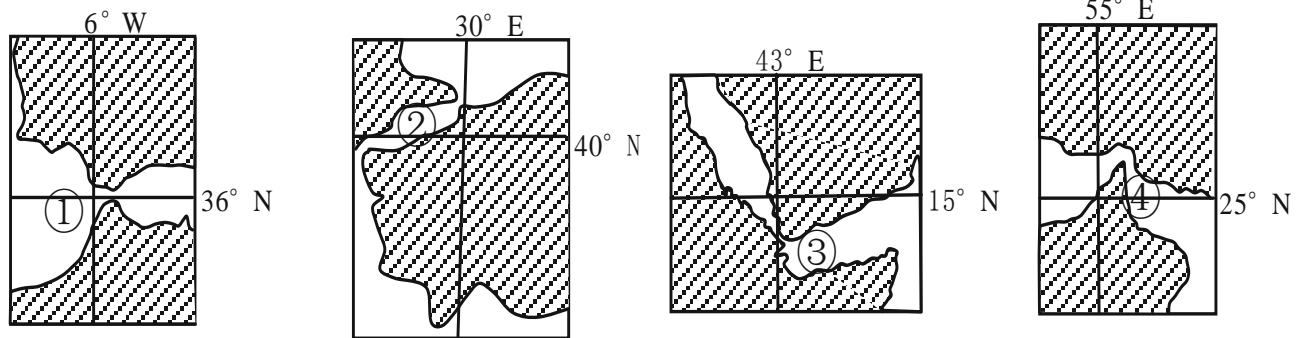
## 一、选择题

图为某区域海陆轮廓和板块示意图。

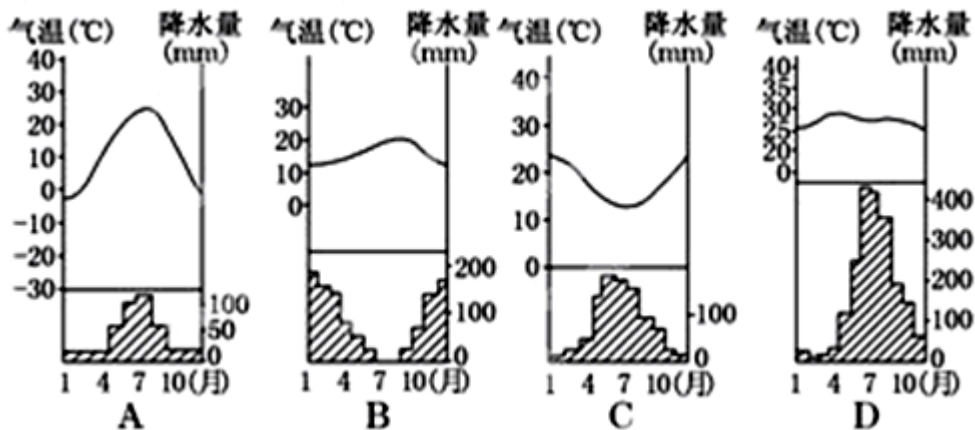


1. 按照岩石圈六大板块的划分，M半岛位于（ ）  
 A. 亚欧板块                      B. 太平洋板块  
 C. 非洲板块                      D. 印度洋板块
2. 图中所示的边界属于（ ）  
 A. 陆地区域边界                  B. 板块生长边界  
 C. 海洋区域边界                  D. 板块消亡边界

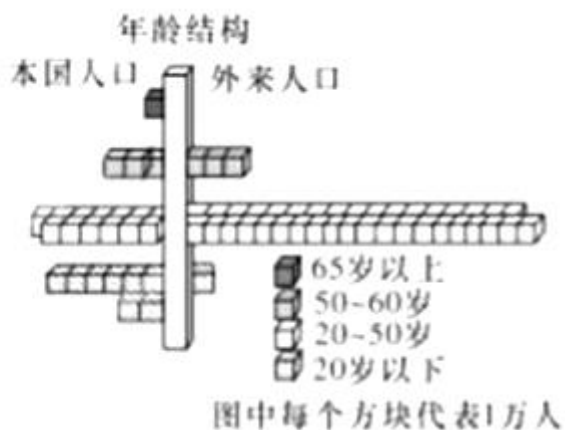
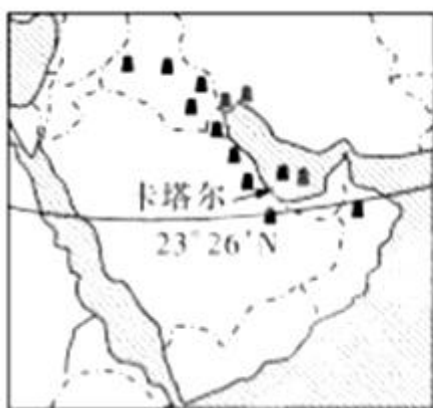
下图是一组海峡示意图。读图回答下题。



3. 有关图示海峡的叙述正确的是（ ）  
 A. 四海峡全是大洲分界线，附近均无地跨两大洲的国家  
 B. 只有②海峡存在典型的密度流  
 C. ③④海峡两岸的气候类型都相同  
 D. ④海峡石油运输量巨大
4. 以下哪幅图表示①图所示海峡的气候类型（ ）



2022 年世界杯足球赛将在西亚“袖珍国”卡塔尔举办（国土面积 1.14 万平方千米。读“卡塔尔区域位置图”和 2009 年卡塔尔人口结构图”，回答下列各题。



5. 下列关于卡塔尔所在地区区域特征的说法，正确的是 ( )

- A. 地处三海三洲两洋要道
- B. 当地居民以黑人为主
- C. 多数国家内河运输发达
- D. 以灌溉农业和畜牧业为主

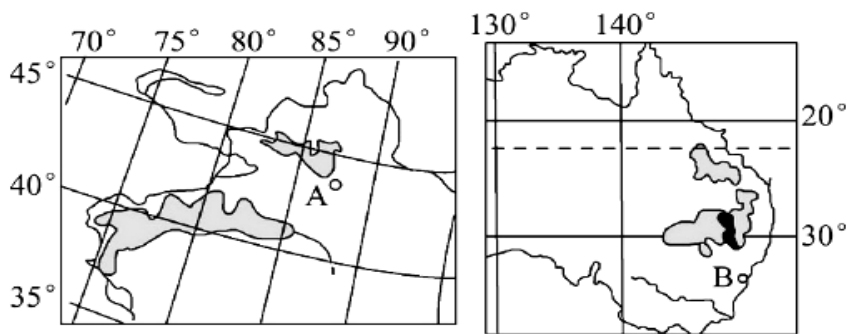
6. 卡塔尔人口结构的构成，主要是因为 ( )

- A. 矿产资源开采
- B. 国家计划生育
- C. 政治局势动荡
- D. 气候炎热干燥

7. 世界上石油储量最大、出产和输出石油最多的地区是 ( )

- A. 墨西哥湾
- B. 波斯湾
- C. 孟加拉湾
- D. 北部湾

读下面某两区域图，完成下边问题。

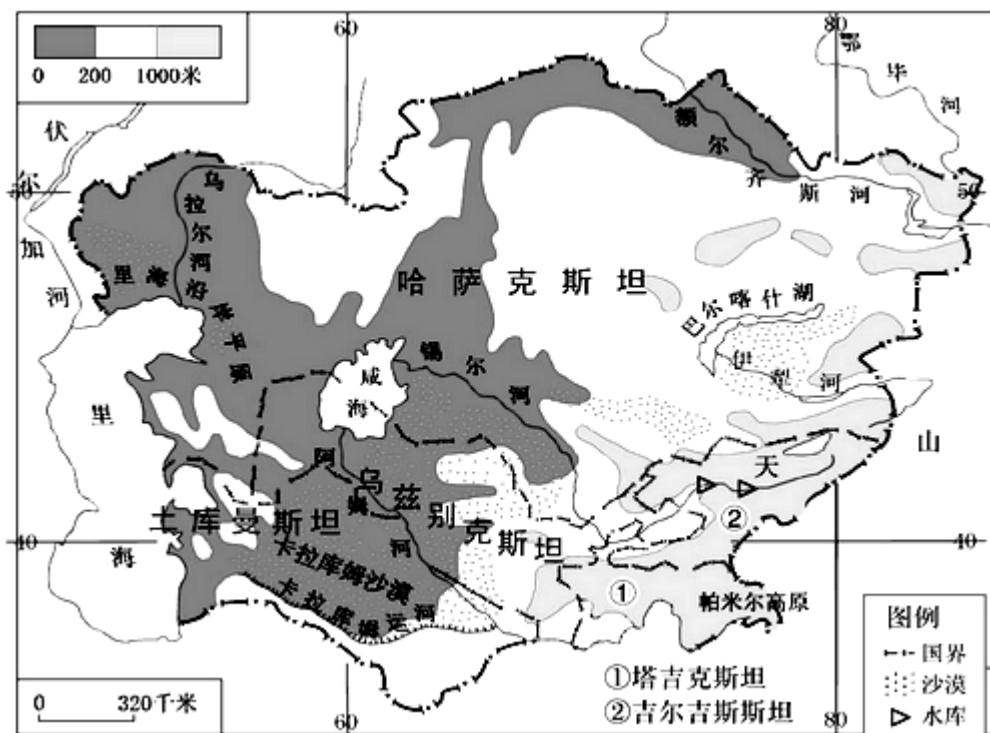


8. B城市位于A城市的( )
- A. 东北方向      B. 东南方向      C. 西南方向      D. 西北方向
9. 与右上图区域相比较, 左上图区域发展棉花生产的不利条件是( )
- A. 交通便利      B. 劳动力价格低
- C. 政策扶持力度小      D. 科技水平低
10. 图示两区域共同拥有的特色旅游资源是( )
- A. 大漠孤烟      B. 海上明月      C. 林海雪原      D. 飞瀑流急

## 二、综合题

11. 中亚五国地理位置独特, 在自然环境、经济发展方面具有高度的共同性。根据下列材料, 结合所学知识, 回答问题。

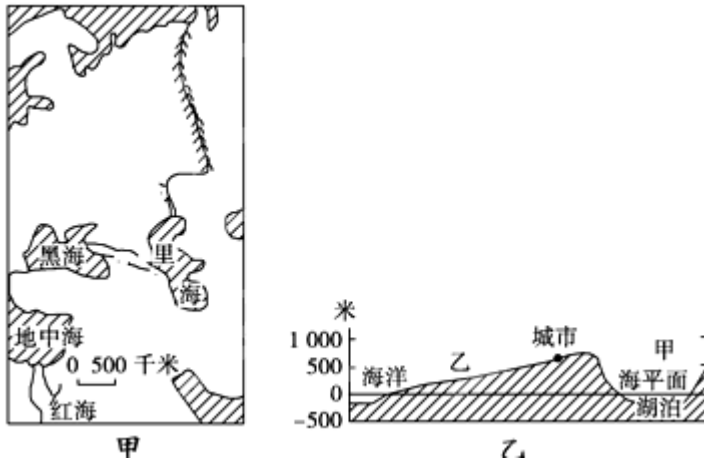
材料一: 中亚地形图



材料二: 中亚地区水资源缺乏, 且分布极不平衡, 塔吉克斯坦和吉尔吉斯斯坦两国拥有的地表水资源超过整个中亚地区的  $\frac{2}{3}$ 。哈萨克斯坦的巴尔喀什湖因“一湖两水”而独具特色。

- (1) 中亚是世界上\_\_\_\_\_资源蕴藏最丰富的地区之一, 我国从中亚进口该资源最佳的运输方式是\_\_\_\_\_。
- (2) 巴尔喀什湖“一湖两水”主要指其湖水盐度差异明显, 西半部盐度比东半部\_\_\_\_\_, 其形成原因是\_\_\_\_\_。
- (3) 简要分析中亚地区的自然地理环境特征。

- (4) 分析吉尔吉斯斯坦水资源较为丰富的原因？
- (5) 乌兹别克斯坦盛产棉花，素有“白金之国”的美誉。从可持续发展角度，分析该国大面积种植棉花对生态环境带来的影响。
12. 读下图，回答有关问题。



- (1) 欧亚两洲之间以图甲中的\_\_\_\_\_、\_\_\_\_\_和\_\_\_\_\_一线作为地理分界线。
- (2) 黑海与地中海之间的狭窄水道是\_\_\_\_\_，它也是亚洲与\_\_\_\_\_洲的分界线。
- (3) 亚洲与非洲以\_\_\_\_\_作为分界线，地跨亚非两大洲的国家是\_\_\_\_\_。
- (4) 油轮从波斯湾经地中海驶往鹿特丹，沿途经过的著名海峡有\_\_\_\_\_、曼德海峡、\_\_\_\_\_、\_\_\_\_\_。

### 参考答案

1. D
2. B
3. D
4. B
5. D
6. A
7. B
8. B
9. D
10. A
- 11.

- (1) 石油、天然气（石油；油气）；管道（运输）
- (2) 低，有（伊犁河）河流（淡水）注入
- (3) 中亚地区冬季气温远低于欧洲西部，降水量少，表现为寒冷干燥的气候特征。阿斯塔那深居内陆，距海遥远，深受蒙古高压（西伯利亚高压）的影响，冬季气温低，降水稀少，气候的大陆性强。
- (4) ①吉尔吉斯斯坦位于中纬西风的迎风坡，降水较多；②吉尔吉斯斯坦位于锡尔河上游，河流径流量大；③天山海拔高，高山冰雪融水丰富；④吉尔吉斯斯坦在锡尔河修

建许多水库，对河流的调蓄能力强。

(5) ①过度开垦导致土地荒漠化严重；②过度引阿姆河河水灌溉，导致咸海面积萎缩，河流断流；③不合理灌溉导致土壤盐渍化。

12.

- (1) 乌拉尔山 乌拉尔河 大高加索山
- (2) 土耳其海峡 欧
- (3) 苏伊士运河 埃及
- (4) 霍尔木兹海峡 直布罗陀海峡 英吉利海