

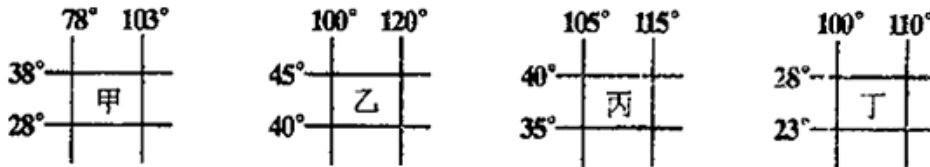
北京博飞华侨港澳台联考试题

地理部分 33-51

-----区域地理综合二

一、选择题

1. 甲乙丙丁四图代表我国四大高原区域范围图，四大高原均为生态脆弱区，但造成生态脆弱的原因不尽相同，下列说法正确的是（ ）

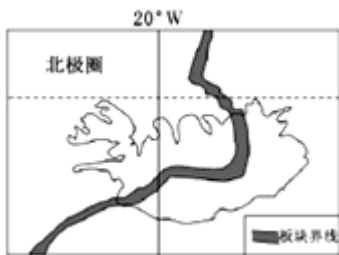


- A. 甲高原海拔高，热量不足，土层较薄，植被稀疏
B. 乙高原水旱灾害频繁，水土流失，土壤侵蚀严重
C. 丙高原喀斯特地貌广泛发育，地表岩石裸露，植物难以生长
D. 丁高原气候干旱，戈壁、荒漠广布，水源不足
2. 湖南省属于我国四大地理区域中的（ ）
A. 东部地区 B. 中部地区
C. 西部地区 D. 东北地区
3. 如下图，甲地形区是：（ ）

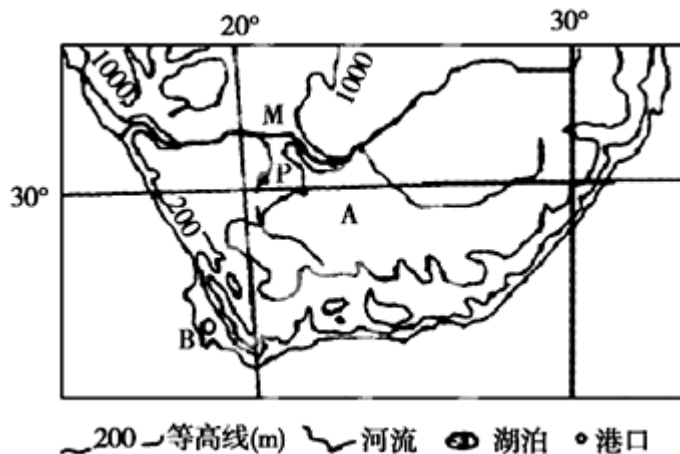


- A. 青藏高原 B. 柴达木盆地
C. 四川盆地 D. 塔里木盆地
4. 参展上海世博会的我国各省市馆基本反映了当地的自然与人文特色。有展示鼓楼、苗寨、银饰等民族元素的：有展示蒙古包、祥云、马鞍等文化元素的：有以冰雪为主线布局展馆的。这些展馆所属省区依次是（ ）
A. 贵州、内蒙古、黑龙江 B. 贵州、西藏、新疆
C. 山西、内蒙古、黑龙江 D. 山西、西藏、新疆
5. 下列关于我国地形对环境影响的叙述正确的是（ ）
①西高东低的地势，便于海洋水汽西进，季风区广 ②地势阶梯分界线附近的河段落差大，水能丰富 ③地形类型多样，平原面积广大 ④山区面积广，有利于多种农作物的生长
A. ①② B. ②③ C. ③④ D. ②④

位于冰岛南部的艾雅法拉火山于 2011 年 4 月 14 日喷发，火山灰在 7000~10000 米的高空形成了火山灰云团。读图回答下列小题。



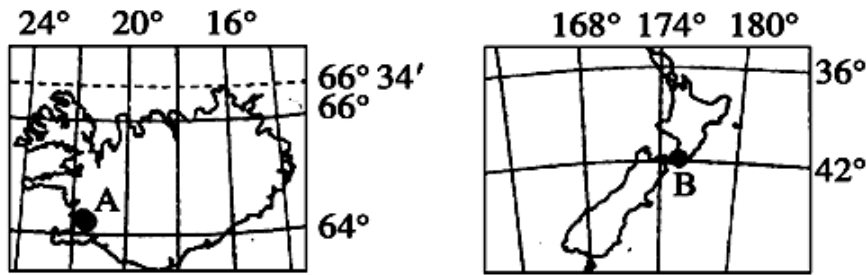
6. 下列关于冰岛火山喷发的叙述，正确的是（ ）
- A. 火山位于亚欧板块和美洲板块的消亡边界上
- B. 造成北极地区冰盖大面积融化，形成洪水
- C. 将增强大气对太阳辐射的吸收作用，加剧全球气候变暖
- D. 火山喷发后当地昼夜温差变小
7. 该岛屿拥有丰富的（ ）
- A. 地热资源 B. 森林资源
- C. 太阳能资源 D. 人力资源
8. 四大洋中，跨经度最多的是（ ）
- A. 太平洋 B. 大西洋 C. 印度洋 D. 北冰洋
9. 下列山脉中，与其他三座山脉走向不同的是（ ）
- A. 大兴安岭 B. 南岭 C. 长白山 D. 台湾山脉
- 读某地区等高线地形图，完成下列问题。



10. 图示区域的地理特征是（ ）
- A. 地处中低纬，热带地区范围广大
- B. P 湖泊为外流湖，水量季节变化较大
- B. 地形以高原为主，海岸线曲折
- C. A 国热带草原面积广阔，粗放式畜牧业为其典型的农业地域类型
11. B 港不具有的地理特征是（ ）
- A. 筑港的地形条件较好，是所在国家的最大港口
- B. 地处“西方海上生命线”海域，地理位置重要
- C. 位于好望角西北，地处西半球

D. 7月，港口附近海区风大浪急

读“两个岛国示意图”，回答下列问题。



12. 有关两个国家叙述正确的是（ ）

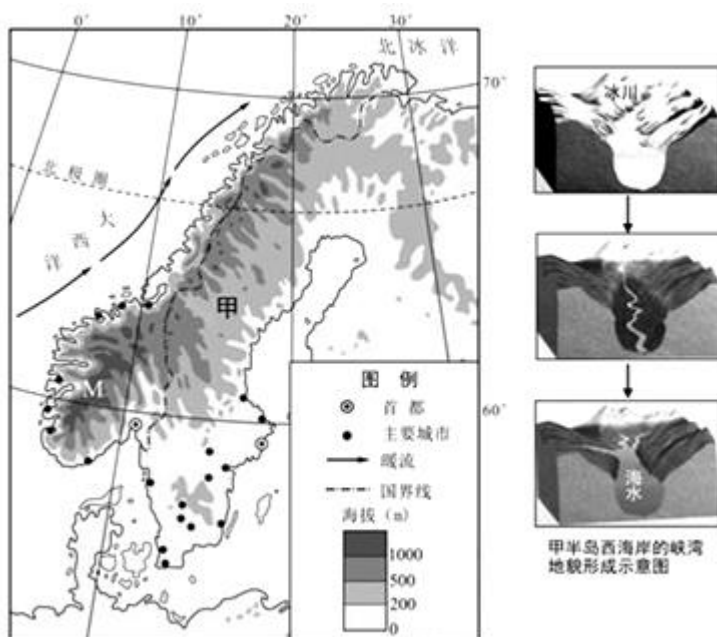
- ①两国均为发达国家
- ②两国均位于板块交界处，多火山、地热和温泉等
- ③两国气候深受海洋的影响，均有温带海洋性气候分布
- ④首都B属地球五带中的南温带
- ⑤A地所在国全部位于东半球和北半球

A. ①③④ B. ①②③ C. ②③④ D. ②④⑤

13. 当B城日出时间为7:40（为该国的国家时间）时，下列说法正确的是（ ）

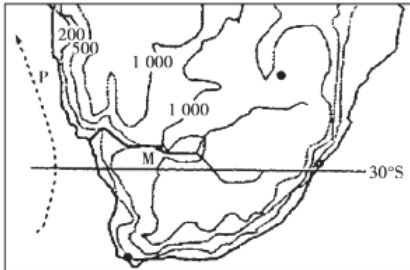
- A. 尼罗河河水上涨
- B. 北印度洋海区洋流为逆时针方向流动
- C. 北美中部平原来自于北冰洋的寒冷气流频繁南下
- D. 地中海的盐度处在一年中最低的季节

14. 读下图回答下题。



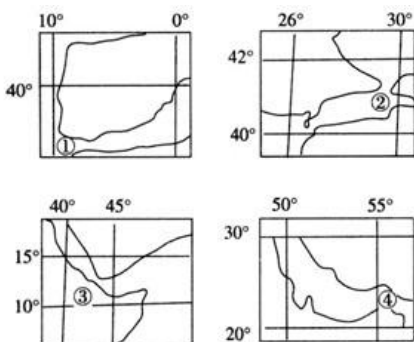
关于图示地区说法正确的是（ ）

- A. 甲半岛西海岸的峡湾主要受海浪侵蚀，后经冰川消融影响而成
B. 甲半岛西部海岸冬季黑暗多雾
C. 甲半岛人口主要分布在西南部
D. M 国纬度高，海港封冻期长，海运落后
- 读南部非洲示意图，完成下列小题。



15. 图中 M 水文站测到的河水流量季节变化比往年有所减小，其原因可能是
- A. 该河上游流域面积较小
B. 该河上游兴建水库
C. 该河流降水季节分配均匀
D. 该河上游植被恢复较好
16. 图中 P 处海域渔业资源丰富，其原因包括
- A. 位于沿海大陆架，阳光充足
B. 位于热带海域，海水交换能力强
C. 海水上涌，带来大量的营养物质
D. 寒暖流交汇，带来大量的营养物质

下图是一组海峡示意图（图中数字是经纬度）。回答下列问题。

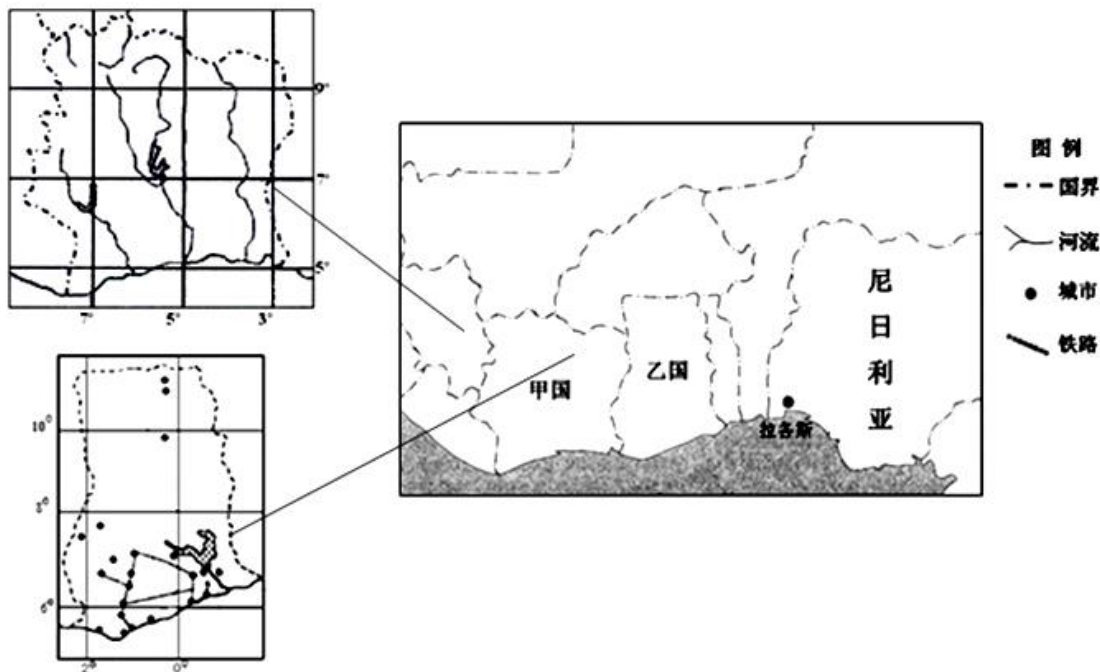


17. 上述海峡中不是位于两大洲之间的是 ()
- A. ①海峡 B. ②海峡 C. ③海峡 D. ④海峡
18. 上述海峡中不属于印度洋的是 ()
- A. ②③ B. ①② C. ③④ D. ①④

二、综合题

19. 阅读相关材料，回答以下问题。

材料一 以下右图为非洲某区域图，左图是右图中甲、乙两国的放大图。



材料二 尼日

利亚是非洲人口最多的国家，拉各斯（Lagos）是尼日利亚旧都和最大港口。现为西非第一大城市。也是尼日利亚经济中心、金融中心、工业中心和物流中心，尼日利亚 80% 的商贸活动集中在拉各斯。

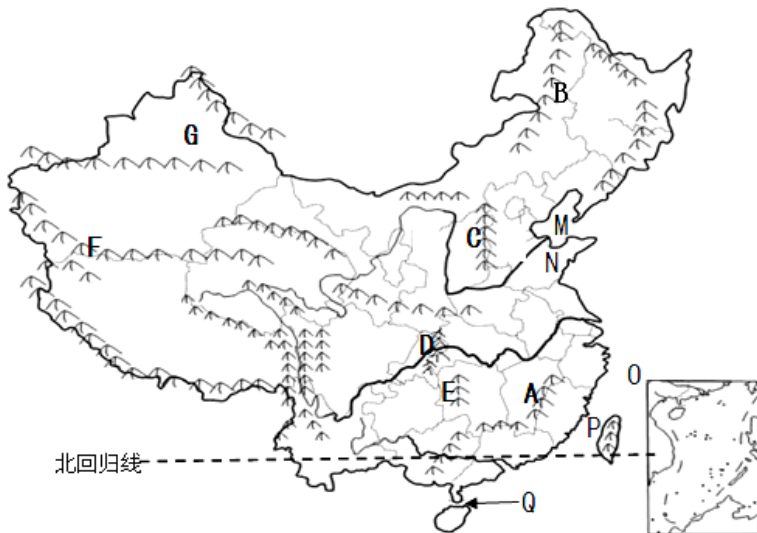
- （1）描述尼日利亚的地理位置
- （2）简述甲国的地势特征，并说出判断的理由
- （3）描述乙国城市分布的特点

20. 南非是非洲南部的发展中国家，人口超过 5000 万，矿产资源丰富，经济发展较快。根据下列材料，结合所学知识，完成（1）-（5）题。

材料一：南非等高线地形图（图甲）

材料二：“南非对主要贸易伙伴进出口商品值（图乙）”及“南非对中国出口商品构成（图丙）”（统计时间：2012 年 1-9 月份）

- (1) 南非的地形以_____为主，平原面积狭窄，主要分布在_____。
- (2) 奥兰治河上游流量季节变化_____（大、小），下游流经_____气候区，支流少、流量小。
- (3) 南非东岸的洋流按性质分，属于_____流，德班计划耗资约 2000 万美元，利用沿岸洋流发电，该项目的意义有_____。
- (4) 据材料二可知，南非最大的贸易伙伴是_____，对中国出口商品中比重最大的是_____；南非对主要贸易伙伴普遍存在贸易逆差（即出口总值小于进口总值），主要原因是_____。
- (5) 据统计，2011 年有近 200 家中国企业到南非投资，说出南非吸引中国企业投资的优势条件。
21. 读图中国地形图，回答下列问题。

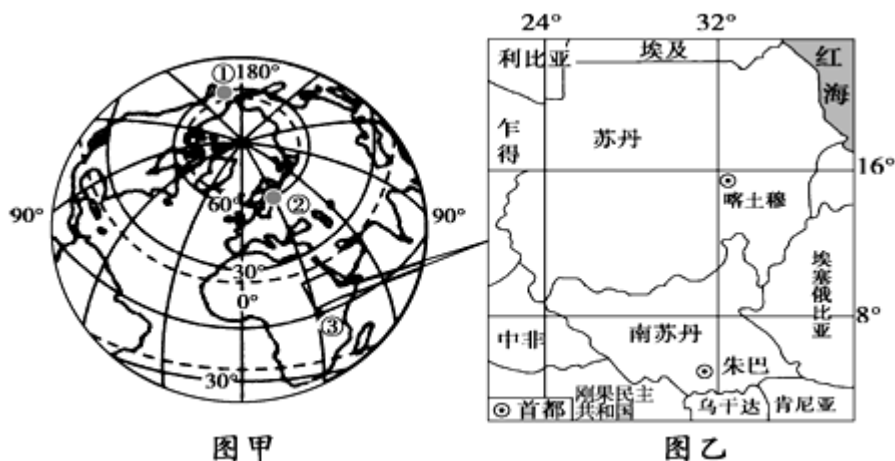


- (1) 北回归线自西向东穿过我国省级行政单位依次是_____、_____、_____、_____。
- (2) 写出图中字母代表的地理事物名称、并判断属于我国内海的海域。
M 为_____海；N 为_____半岛；P 为_____海峡；
内海是：_____、_____（填字母）
- (3) A 山脉名称_____，走向是_____，其西侧省区的行政中心是_____。
- (4) 写出下列山脉两侧的地形区名称
D 东侧_____；西侧_____
F 北侧_____；南侧_____
C 东侧_____；西侧_____

(5) G 是 _____ 盆地，其北侧的山脉是 _____

(6) 沿 B—C—D—E 山脉一线形成的我国地理分界线名称是 _____。

22. 南部苏丹于当地时间 2011 年 7 月 9 日 0 时宣布正式从苏丹分离，并成立南苏丹共和国。读图完成下列问题。



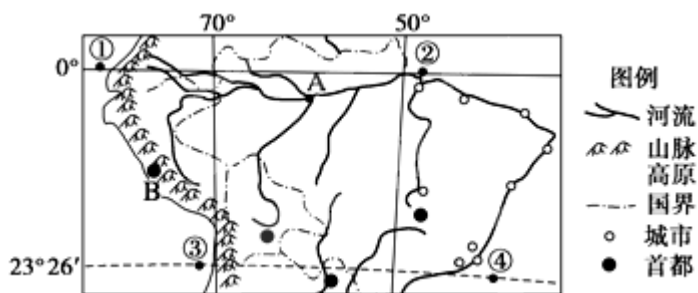
(1) ②点的地理坐标：_____，南苏丹首都位于②地的_____方向。

(2) 甲、乙两幅图相比较，比例尺较大的是图_____；若图甲中②地和③地的图上距离为 2.22 厘米，则图甲的比例尺约为_____ (数字式)。

(3) 结合图中信息，描述南苏丹的地理位置特点。

23. 阅读下列材料，回答(1)~(6)题。


材料一 南美洲局部地理概况图。图中城市为百万以上人口城市。



材料二 2005 年部分国家人口总数与城市人口比重。

国家	中国	印度	巴西	美国	法国	日本
人口(亿人)	12.95	10.41	1.74	2.88	0.62	1.27
城市人口比重(%)	37.7	27.9	81.7	77.4	75.5	78.9

材料三 2005 年部分国家人口自然增长率与人均国民收入。



- (1) B 处附近海岸的旗型树冠的朝向是_____。若 A 处河中心有一个沙洲，则沙洲最有可能首先同_____ (北或南) 岸相连。
- (2) 从地形与气候两方面说明河流 A 水量丰富的原因。
- (3) B 处沿海的气候类型是_____，分析该气候在 B 处的分布特点及成因。
- (4) 巴西百万以上人口城市主要分布在_____。根据材料二和材料三对巴西的城市化特点作简要评价。
- (5) 有关巴西农业的叙述，正确的是()
- A. 主要耕作区分布在东南沿海地区
- B. 高原地区以种植咖啡为主
- C. 亚马孙平原适宜种植水稻
- D. 高原的农业地域类型为迁移农业
- E. 主要经济作物有咖啡和可可

参考答案

1. A
2. B
3. B
4. A
5. A
6. D
7. A
8. D
9. B
10. B
11. C
12. A
13. A
14. B
15. BD
16. AC
17. D

18. B

19.

(1) 尼日利亚位于非洲西部；位于低纬度（或热带）地区；位于东半球（或北半球）；面临大西洋（几内亚湾）。

(2) 甲国地势北高南低。理由：河流由北向南流。

(3) 乙国城市分布不均衡；集中分布在南部（西南部），主要分布在交通线（铁路）附近或沿海地区。

20.

(1) 高原 沿海

(2) 大 热带沙漠

(3) 暖

探索新能源的开发利用；缓解南非常规能源紧缺；优化能源结构，减少温室气体排放。

(4) 中国 矿砂、矿渣及矿灰

出口商品以初级产品为主，价值较低；工业基础相对较弱，工业体系不完善，多种工业产品依赖进口。

(5) 较低的土地价格；丰富的矿产资源；丰富而廉价的劳动力；巨大的市场潜力；便利的海陆交通。

21.

(1) 云（滇）、桂、粤、台

(2) 渤、山东、台湾、M、Q

(3) 武夷山、东北—西南、南昌

(4) 长江中下游平原、四川盆地

塔里木盆地、青藏高原

华北平原、黄土高原

(5) 准噶尔、阿尔泰山

(6) 二、三级阶梯分界线

22.

(1) (60° N, 30° E)，东南

(2) 乙 1:300 000 000

(3) 位于北半球、东半球、；位于内陆(不临海)；地处热带(低纬)地区；非洲东北部（东部）；苏丹以南、中非以东、乌干达肯尼亚等国以北、埃塞俄比亚以西。

23.

(1) 西北 南

(2) 地形：西、北、南三面高，利于雨水汇集；湿润气流由东面进入，利于形成地形雨。气候：流域内以热带雨林气候为主，终年高温多雨。

(3) 热带沙漠气候 特点：①分布纬度低；②分布在沿海狭长地带。成因：①西部沿海为高大的安第斯山脉（无法向东扩展）；②沿岸有寒流经过。

(4) 沿海（沿河）地区 城市化水平高，但与经济发展水平不相适应；由于城市化水平超过了经济发展水平，容易出现城市环境质量和生活质量下降等问题。

(5) AE