

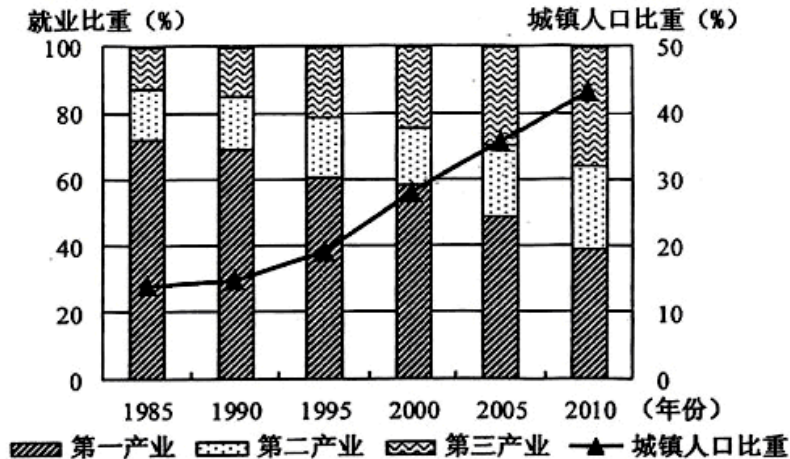
北京博飞华侨港澳台联考试题

地理部分 21-51

-----城市化

一、选择题

下图表示安徽省 1985-2010 年就业结构与城镇人口比重变化。回答下面各小题。



- 2005 年以来，安徽省城市化处于（ ）
A. 初期阶段 B. 中期阶段
C. 后期阶段 D. 逆城市化阶段
- 产业结构调整促进安徽省城市化水平的提高，表现在（ ）
A. 第二、三产业就业比重均持续快速提高
B. 城镇新增就业人口第二产业超过第三产业
C. 农村人口向东部沿海城市迁移数量增加
D. 劳动力主要由第一产业向第二、三产业转移

中国城市化带来的最大问题就是外来人口的市民化问题。下表是我国城市化进程的数据。读表回答下列小题。

	2002 年	2012 年	年均增长
城镇化率(%)	30.09	52.57	3.01%
户籍人口比率(%)	27.89	35.29	2.38%
举家迁移比率(%)	22.38	20.66	-0.80%
城市建成区面积(km ²)	25 973	45 565	5.78%

注：（1）城镇化率是城镇常住人口在总人口中的比重，包括了在城镇生活的农业户籍人口。

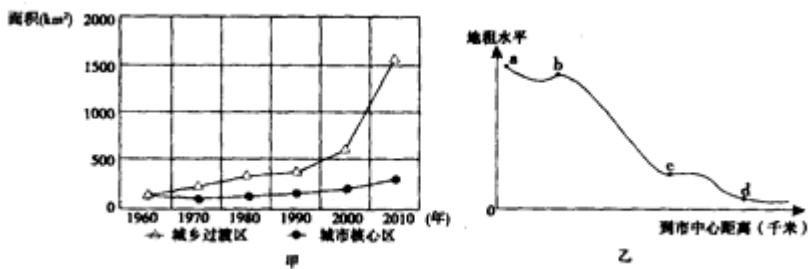
（2）户籍人口比率即户籍人口城镇化率，是拥有城镇户籍(市民)的人口占总人口的比重。

（3）举家迁移比率=农村举家迁移到城镇的家庭数÷农村拥有城镇化迁移人口的家庭总数×100%，它反映了家庭城镇化水平。

- 2002~2012 年间（ ）
A. 2002 年以来我国城市化进程慢 B. 个体城镇化快于家庭城镇化
C. 城市化水平已处于较高阶段 D. 农民工大多举家在城镇生活
- 表格中数据反映的突出问题是（ ）

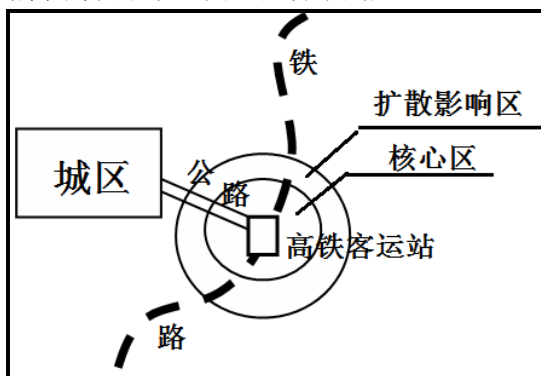
- A. 城市人口增长过快
B. 交通拥堵日益加重
C. 城镇土地扩张过快
D. 环境污染逐步加大

甲、乙图分别是某市城市化过程及该市距市中心地租水平变化图。读图，回答以下问题。



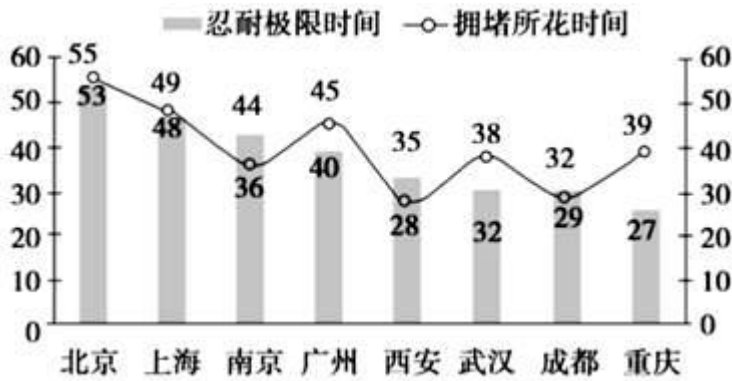
5. 图甲反映了该城市可能 ()
A. 出现郊区城市化现象 B. 出现再城市化现象
C. 出现逆城市化现象 D. 出现大量卫星城
6. 若图乙箭头方向表示数值增加，则图中 b 地最可能位于 ()
A. 旧城中心区 B. 远郊地区
C. 新兴工业区 D. 城市环形道路沿线

高铁客运站不仅是城市对外的枢纽，更是城市发展的新引擎，对城市产业活动有较强的集聚性。读我国某城市高铁站示意图，回答下列题。

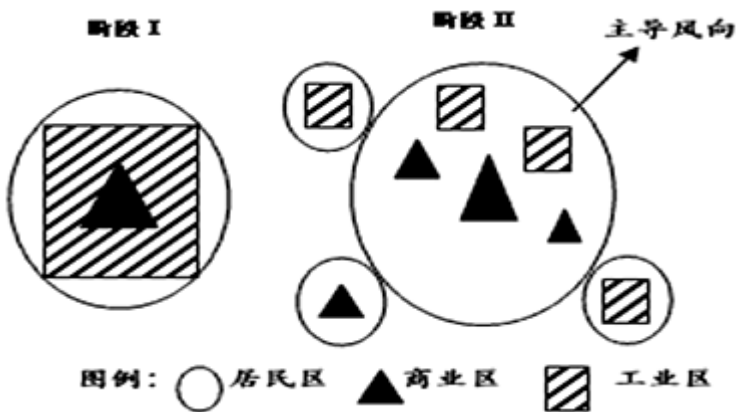


7. 在高铁站核心区域最适宜布局的产业活动是 ()
A. 工业 B. 园艺 C. 物流 D. 商务
8. 高铁站对城市化可能产生的主要影响是 ()
A. 郊区城市化 B. 城市空心化
C. 逆城市化 D. 过度城市化

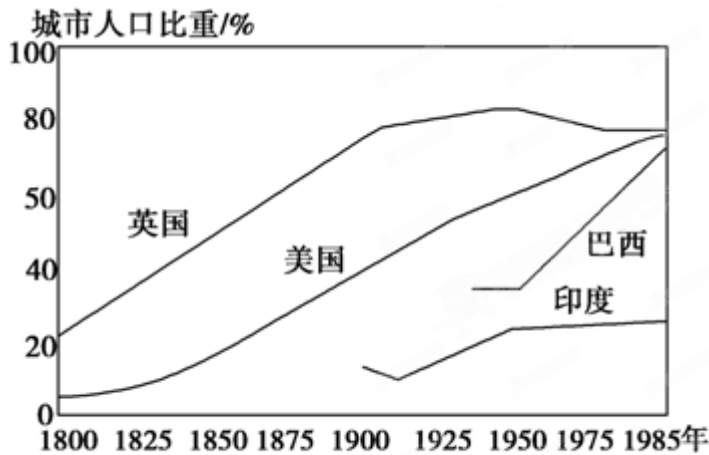
读不同城市居民上下班拥堵所花时间与其忍耐极限时间(单位：分钟)比较图，回答下列各题。



9. 下列城市中，居民对上下班交通拥堵最反感的是（ ）
 A. 北京 B. 上海 C. 武汉 D. 重庆
10. 为解决大城市的交通拥堵问题，下列措施可行的是（ ）
 A. 大力发展私人汽车
 B. 限制汽车发展，鼓励人们使用自行车
 C. 大力发展公共交通
 D. 建设市内铁路网
11. 读某城市发展阶段图，判断II阶段城市发生的可能性最小的是（ ）



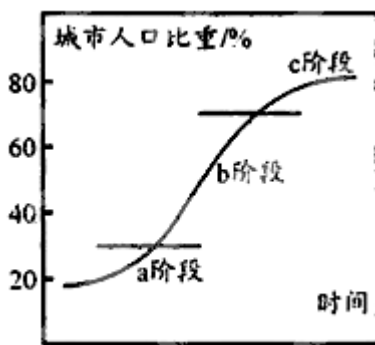
- A. 交通问题得以改 B. 城市发展规划扩大
 C. 工业污染日益严重 D. 农业用地不断减少
- 读几个国家的城市化进程图，回答下列各题。



几个国家的城市化过程

12. 1975 年, 与英国相比, 巴西城市化特点是 ()
- A. 城市环境质量更高 B. 城市化水平更高
- C. 城市化速度更快 D. 出现逆城市化现象
13. 1950 年, 英国城市化水平变化的主要原因有 ()
- ①城市环境恶化②乡村、小城镇基础设施的完善③农村剩余劳动力的转移④城市中心区的萎缩
- A. ①② B. ③④ C. ③④ D. ②④
14. 关于逆城市化的叙述, 错误的是 ()
- A. 环境恶化, 地价昂贵是导致逆城市化的原因之一
- B. 城市居民向生态环境较好, 地价较便宜的郊区迁移, 商业和制造业也随之向外扩散
- C. 逆城市化是城市郊区化的进一步阶段
- D. 逆城市化是城市化进程从扩散到集聚的一个新阶段
15. 下列地区中, 城市化水平最高的是 ()
- A. 东南亚 B. 南部非洲
- C. 西欧各国 D. 北部非洲
16. 我国城市化进程不应该过快的原因是 ()
- A. 科学技术水平不高 B. 城市建设经验不足
- C. 人口素质不高 D. 经济发展水平不高
17. 通常被用来衡量一个国家或地区城市化水平高低的标志是 ()
- A. 城市人口数量
- B. 城市的用地规模
- C. 城市人口占总人口的比重
- D. 特大城市数量
18. 下列四组国家中, 目前城市化速度最快的是 ()
- A. 美国、英国 B. 美国、日本
- C. 中国、巴西 D. 日本、法国
19. 下列现象中与城市化进程有必然联系的是 ()
- A. 绿化面积不断减少
- B. 非农业人口比重增加
- C. 住房紧张与交通拥挤
- D. 环境污染日趋严重

读城市化进程示意图，完成下列各题。



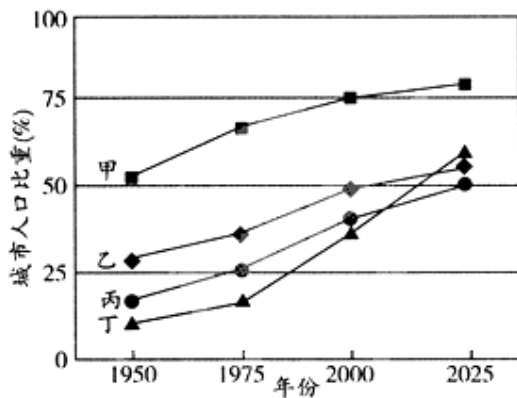
20. 下列反映图中 b 阶段城市化现象的是 ()

- A. 城市化速度减慢甚至停滞
- B. 出现逆城市化现象
- C. 市区出现劳动力过剩、交通拥挤、住房紧张、环境恶化等问题
- D. 处于城市化高级阶段

21. 尽管世界各国的城市化水平高低不一，但它们都处于城市化进程的某一阶段。下列关于国家与其所处的城市化阶段搭配正确的是 ()

- A. 巴西—a 阶段
- B. 英国—b 阶段
- C. 中国—b 阶段
- D. 朝鲜—c 阶段

下图四条折线示意中国、世界、发展中国家和发达国家的城市化水平及其变化趋势。读图完成下列小题。



22. 图中代表中国城市化进程的折线是 ()

- A. 甲
- B. 乙
- C. 丙
- D. 丁

23. 2000 年后，发达国家城市化水平提高带来的主要影响是 ()

- A. 促进区域经济发展
- B. 工业产值的比重持续增大
- C. 城市环境趋于恶化
- D. 城市中心区人口不断增多

24. 当前世界城市化的特点主要是 ()

- ①城市化的进程加快
- ②发达国家城市化加快
- ③发展中国家城市化放缓
- ④中小城市发展迅速
- ⑤出现了巨大城市带
- ⑥特大城市发展迅速

- A. ①②③ B. ②③④ C. ④⑤⑥ D. ①⑤⑥

下表为我国某地区城市发展情况统计表。读表回答下题。

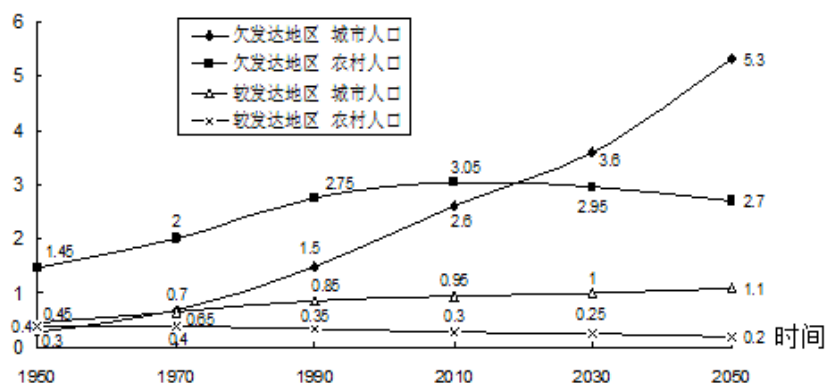
项目	1999 年	2012 年
城市数目 (个)	3	7
工业总产值 (万元)	36 200	1 765 000
城市人口 (万人)	56	340
城市人口比重 (%)	30.4	48.6

25. 1999 年以后, 该城市的城市化处于 ()
 A. 初级阶段 B. 加速阶段
 C. 逆城市化阶段 D. 再城市化阶段
 26. 该城市在城市化过程中可能出现的问题是 ()
 A. 乡村基础设施完善
 B. 人口和工商业迁往农村
 C. 城市中心区空洞化
 D. 市区劳动力过剩、交通拥挤

二、综合题

27. 下图是 1950~2050 年世界上较发达地区和欠发达地区城市人口与农村人口变化趋势示意图。据图回答问题。

(10 亿)



- (1) 比较欠发达地区与较发达地区农村人口数量的变化差异。
 (2) 据图分析 2010 年之后欠发达地区农村人口数量变化的原因。
 (3) 据此推断欠发达地区城市化发展特点。

参考答案

1. B
 2. D
 3. B
 4. C

5. A

6. D

7. D

8. A

9. D

10. C

11. C

12. C

13. A

14. D

15. C

16. D

17. C

18. C

19. B

20. C

21. C

22. D

23. A

24. D

25. B

26. D

27.

(1) 欠发达地区农村人口 2010 年之前一直增加；之后递减；发达地区农村人口一直缓慢减少。

(2) 2010 年后欠发达地区农村人口数量减少；欠发达地区农村劳动生产率提高，劳动力过剩，城市经济发达，就业机会多；农村人口迁往城市。

(3) 城市化水平低；近年来发展速度快；与发达地区的差距在不断缩小