


# 北京博飞华侨港澳台联考试题

## 地理部分 17-51

-----人口迁移


### 一、选择题

下图为中国人口普查数据统计图，读图回答下列各题。



- 图中反映中国 ( )  
 A. 人口增长速度减缓  
 B. 青少年人口比重增加  
 C. 乡村人口数量减少  
 D. 劳动人口数量减少
- 东部人口比重的变化表明东部 ( )  
 A. 人口数量先减后增  
 B. 人口增长为“三低”模式  
 C. 人口密度持续增大  
 D. 人口迁移受生态环境影响
- 2014年1月26日(农历腊月二十六)“百度迁徙”数据显示，当日成都至北京的人口迁徙数量超过北京至成都的人口迁徙数量，其原因之一是 ( )  
 A. 北京人在四川就业的人数超过了四川人在北京就业的人数  
 B. 四川人在北京求学的人数超过了北京人在四川求学的人数  
 C. 由于生活条件改善，四川到北京过春节的人数增多  
 D. 北京是全国性交通枢纽之一，在此中转的列车多

人口现住地与出生地之间的分离，被称为终身迁移人口。右图为武汉市终身迁移人口(抽样数据)图。读图，回答以下问题。



- 武汉市终身人口迁移主要来自 ( )  
 A. 西南地医  
 B. 华东地区  
 C. 北方地区  
 D. 周边省区

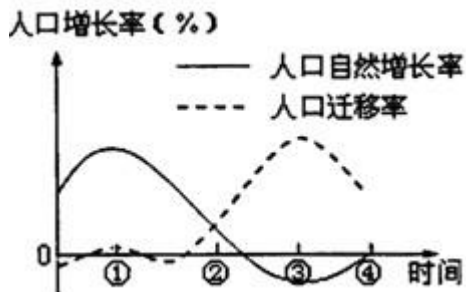
5. 安徽、河南两省迁往武汉市终身迁移人口数量出现差异的主要原因是（ ）
- A. 经济发展程度差异      B. 地域开放程度差异
- C. 人口迁出数量差异      D. 与沿海发达地区远近差异

下表为 2010 年世界最大移民接收国和输出国人口迁移数量（单位：万人），据此完成下列各题。

最大移民接收国	美国	4280
	俄罗斯	1230
	德国	1080
最大移民输出国	中国	3500
	印度	2000
	菲律宾	700

6. 根据上表，世界人口的主要接收国（ ）
- A. 多为发展中国家      B. 多为发达国家
- C. 均为东半球国家      D. 均为西半球国家
7. 菲佣是指来自菲律宾的家政服务人员。菲佣有文化、懂英语，素有“世界上最专业的保姆”之美誉。中国香港、新加坡和美国是菲佣的主要分布地。影响菲佣迁往上述各地的最主要原因是（ ）
- A. 语言优势      B. 文化水平高
- C. 经济差异      D. 国家政策优势

读我国某地区人口自然增长率和人口迁移率(净迁入人口占总人口的比重)随时间变化曲线图，回答第下列各题。



8. 该地区人口增长率最高的时期是（ ）
- A. ①      B. ②
- C. ③      D. ④
9. ③时期以后人口迁移率下降的原因最有可能是（ ）
- A. 劳动密集型产业转移      B. 生态环境恶化
- C. 技术人才外流      D. 本地人口大量外迁

读二战后的国际劳动人口流向示意图。回答下列各题。



注：线的粗细表示移民人数的多少

10. 根据图中各移民流向，下列叙述错误的是( )
- A. 拉丁美洲到北美的移民是三大移民流之一
- B. 欧洲到北美的移民主要来自西欧
- C. 由贫穷区域流入富裕区域是移民的主要方向
- D. 人口移动主要是由经济原因所致
11. 下列大洲中人口迁出数量最大的是( )
- A. 欧洲          B. 非洲          C. 北美洲      D. 亚洲

2013 年春运期间，全国铁路发送旅客 2.3 亿人次，同比增长 12.5%。由于春节前务工流、学生流、探亲流出现重叠，北京、广州、上海、杭州地区，客流压力最大。据此回答下列各题。

12. 春运期间北京、广州、上海、杭州地区的客流压力，反映出( )
- A. 这些地区主要为人口迁出区
- B. 这些地区主要为人口迁入区
- C. 春运客流方向主要在城市之间
- D. 当地已进入逆城市化发展阶段
13. 北京等地的务工流和学生流，说明影响当地人口迁移的主要因素为( )
- A. 经济因素、社会文化因素          B. 政治因素、环境因素
- C. 经济因素、政治因素                D. 社会文化因素、其他因素

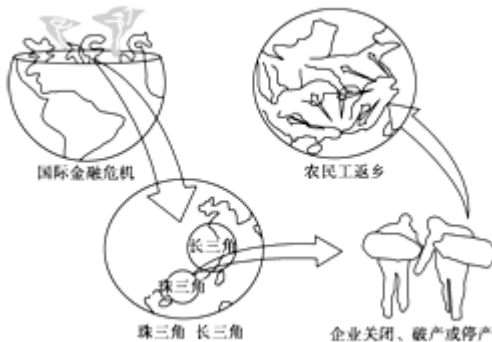
下表为联合国 2000 年预测的 21 世纪上半叶主要国家人口迁移数量。据此回答下列各题。

迁出国	数量（万人/年）	迁入国	数量（万人/年）
中国	30.3	美国	110.0
墨西哥	26.7	德国	21.1
印度	22.2	加拿大	17.3
菲律宾	14.4	英国	13.6
印度尼西亚	18	澳大利亚	8.3

14. 据表，21 世纪上半叶世界人口迁移的突出特点是( )
- A. 由东半球国家迁入西半球国家
- B. 由北半球国家迁入国家南半球
- C. 由发展中国家迁入发达国家
- D. 由内陆国家迁入沿海国家
15. 形成上述人口迁移特点的主要原因是( )
- A. 环境灾难          B. 经济差异
- C. 政治迫害          D. 种族歧视
16. 上述人口迁移带来的影响不包括( )
- A. 减少迁出国的就业机会          B. 增加迁入国的劳动力数量

- C. 加剧迁入国的人地矛盾      D. 缓解迁出国的资源环境压力

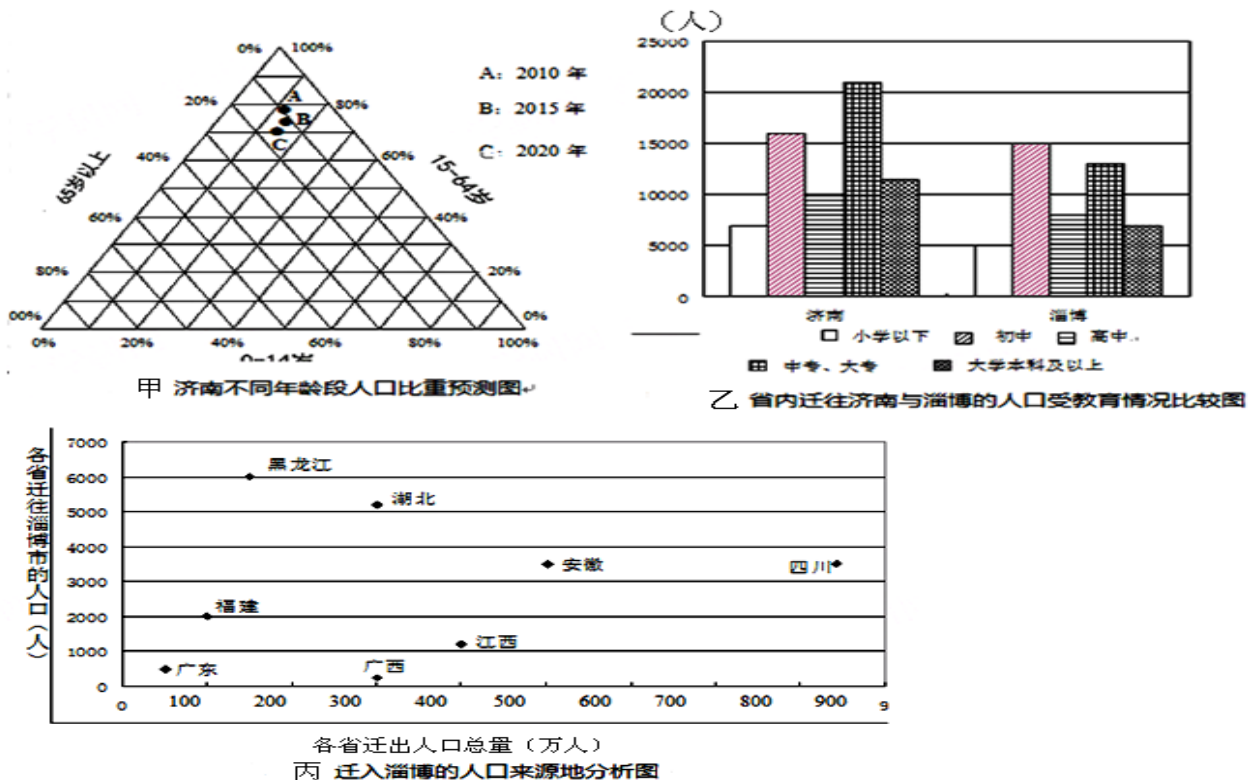
2008 年下半年受全球金融海啸影响，中国沿海地区不少工厂停工，近千万民工提前返乡(如下图)。据此，回答下列各题。



17. 提前返乡的民工主要来自于(    )  
 A. 国有大中型企业      B. 农产品加工工业  
 C. 高科技工业            D. 中小型涉外企业
18. 下列可以作为我国珠三角地区应对这次危机的措施有(    )  
 ①国家政策支持  
 ②提高自我创新能力，大力发展企业的核心技术  
 ③调整产业结构，大力发展资源密集型工业  
 ④完善交通网，加大产品的出口量  
 A. ①②                  B. ②③                  C. ③④                  D. ①④

## 二、综合题

19. 人口统计图是进行人口研究和城市规划的重要依据。读图回答下列问题。



- (1) 读图甲，济南 0-14 岁人口比重变化趋势是\_\_\_\_\_；65 岁及以上人口比重变化的趋势是\_\_\_\_\_



- \_\_\_\_\_，应对这一变化趋势该城市采取主要措施有。\_\_\_\_\_
- (2) 读图乙，比较省内迁往济南与淄博的人口差异有\_\_\_\_\_，试简述人口迁入对两城市发展的主要影响。
- \_\_\_\_\_
- (3) 图丙中，人口迁出总量最多的省区是\_\_\_\_\_，迁往淄博市的人口数量最多的省区是\_\_\_\_\_。当前影响我国人口迁移的主要因素是\_\_\_\_\_。

参考答案

1. A
2. C
3. D
4. D
5. D
6. B
7. C
8. A
9. A
10. B
11. D
12. B
13. A
14. C
15. B
16. A
17. D
18. A
- 19.

- (1) 先增加后下降    增加  
完善养老制度，加强养老事业发展    增适当调整人口政策，如实施“单独二胎”政策
- (2) 济南市迁入人口数量比淄博市多    济南市迁入高学历人口数量比淄博市多  
推动城市化的发展    提供劳动力，促进经济发展    对城市环境、交通、住房以及治安造成一定的压力。
- (3) 四川    黑龙江    社会经济