

北京博飞华侨港澳台联考试题

地理部分 3-51

-----区域地理综合

一、选择题

20 世纪 90 年代以来，湄公河流域的共同开发和经济合作成为国际社会关注的新热点，据此回答下列问题。

1. 湄公河在中国境内被称为（ ）

- A. 澜沧江 B. 怒江
C. 红水河 D. 雅鲁藏布江

2. 为发展湄公河流域的经济而新建的“泛亚铁路”的起讫是（ ）

- A. 西宁，河内 B. 昆明，新加坡
C. 昆明，曼谷 D. 拉萨，胡志明市

3. 对开发湄公河流域的作用叙述正确的是（ ）

①推动我国的西部大开发②带动新疆和中亚地区的发展③促进该流域的旅游发展④加强中国——东盟的经济合作

- A. ①②④ B. ①②③④
C. ②④ D. ①③④

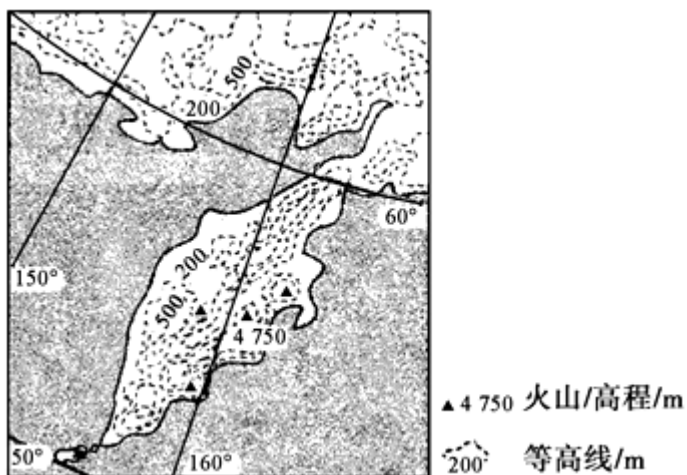
4. 关于湄公河、红河、恒河、尼罗河三角洲的叙述，正确的是（ ）

- A. 按纬度由低到高排列：湄公河三角洲、红河三角洲、恒河三角洲、尼罗河三角洲
B. 都受副热带高压的控制或影响
C. 粮食作物都是水稻和小麦
D. 三角洲上都有国家首都

5. 世界上最大的内陆国是（ ）

- A. 哈萨克斯坦 B. 吉尔吉斯斯坦
C. 塔吉克斯坦 D. 蒙古

下图为某半岛地形图。读图，回答下列问题。



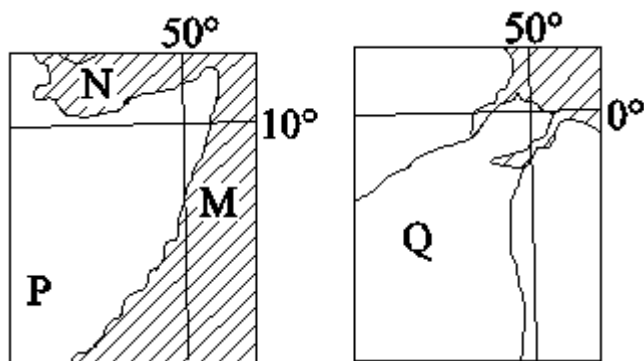
6. 当地居民稳定的用电来源于()

- A. 地热能
- B. 风能
- C. 水能
- D. 太阳能

7. 7 月份该半岛可能出现()

- A. 冰川与岩浆相映
- B. 极昼
- C. 成群的企鹅
- D. 台风

下图为两区域海陆轮廓图(阴影部分为海洋)。读图, 回答下列问题。



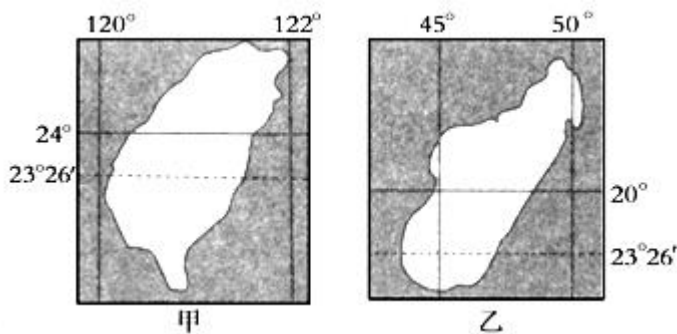
8. 有关图中所示区域的说法, 正确的是()

- A. M 地夏季近海洋流自南向北流
- B. N 海区盐度比 M 海区低
- C. P 所在半岛属于印度洋板块
- D. Q 所在大洲的环境问题主要表现为环境污染

9. 将图中 P、Q 所在国进行比较，两国相似之处是（ ）

- A. 都分布着大面积的热带雨林
- B. 都形成了完整的工业体系
- C. 人口增长表现为高出生率和高自然增长率
- D. “二战”前都是人口大量迁出地

读右面两个岛屿图。



10. 乙岛位于甲岛的（ ）

- A. 西南方向 B. 东北方向
- C. 东南方向 D. 西北方向

11. 下列说法正确的是（ ）

- A. 甲图比例尺比乙图小
- B. 甲岛屿的面积比乙岛大
- C. 甲岛南北距离比乙岛长
- D. 甲、乙两岛都在东半球、低纬度

12. 我国四大盆地中，纬度最高的是（ ）

- A. 塔里木盆地 B. 四川盆地
- C. 准噶尔盆地 D. 柴达木盆地

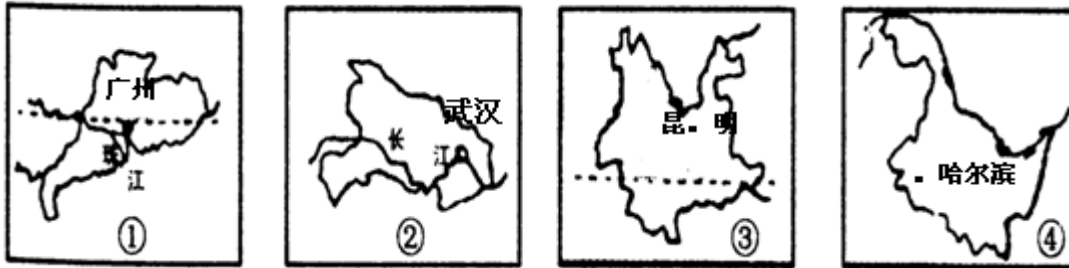
13. 下列地形区与其特点组合正确的一组是（ ）

- A. 内蒙古平原—崎岖不平 B. 云贵高原—雪山连绵
- C. 四川盆地—沙漠广布 D. 东北平原—黑土广布

14. 下列关于我国民族的叙述表达正确的是（ ）

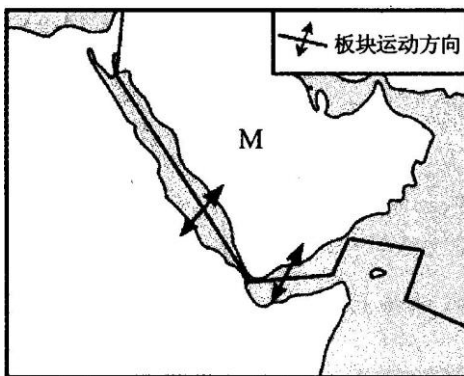
- A. 中国是一个多民族的国家，少数民族共有 56 个
B. 我国少数民族主要分布在西南、西北、东北
C. 中国的人口自然增长率较低，每年新增的人口少
D. 我国少数民族中，人口最多的是苗族

读下图我国四个省的轮廓，完成下列小题。



15. 图中四省区的简称中，正确的是（ ）
A. ①——闽 B. ②——鄂
C. ③——昆 D. ④——哈
16. 图中四省区中，少数民族最多的是（ ）
A. ① B. ②
C. ③ D. ④

图为某区域海陆轮廓和板块示意图。

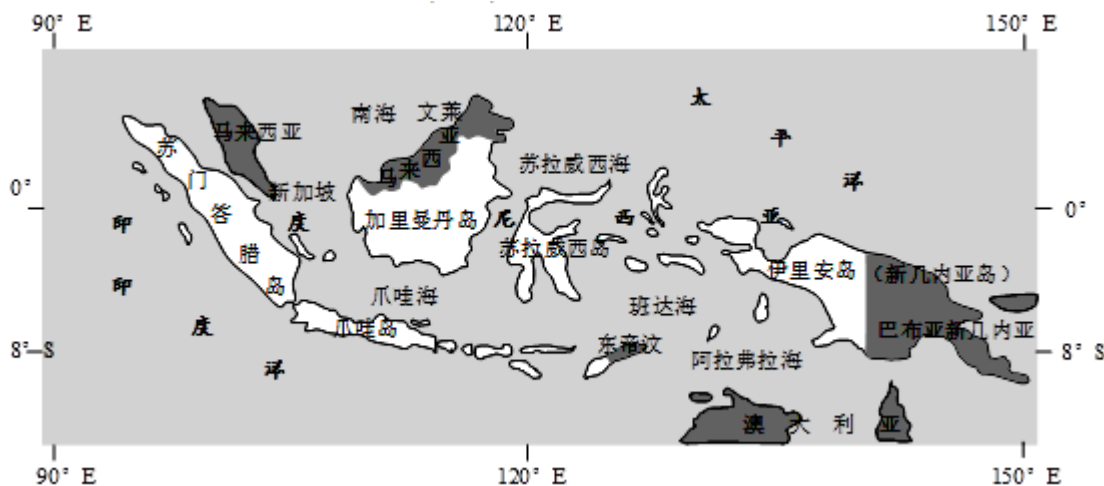


17. 按照岩石圈六大板块的划分，M 半岛位于（ ）
A. 亚欧板块 B. 太平洋板块
C. 非洲板块 D. 印度洋板块
18. 图中所示的边界属于（ ）
A. 陆地区域边界 B. 板块生长边界
C. 海洋区域边界 D. 板块消亡边界

二、综合题

19. 印度尼西亚是世界上最大的群岛国家，河流众多而短小，渔业资源丰富。根据下列材料，结合所学知识，回答下列问题。

材料一 印度尼西亚地理位置示意图(下图)。



材料二 爪哇岛地处板块边界上，北部是平原，南部是熔岩高原和山地，山间多宽广盆地，是世界上雷雨最多、土壤最肥沃、人口密度最高的地区之一。

- (1) 印度尼西亚大约四分之三的陆地位于_____半球，主要气候类型是_____。
- (2) 爪哇岛附近海域是世界上发生_____、_____灾害频率最高的地区之一，这些灾害有可能引发破坏性极大的海啸。
- (3) 爪哇岛是世界上雷雨最多的地区之一，其原因是什么？
- (4) 分析印度尼西亚渔业资源丰富的自然原因。

20. 读欧洲部分地区图，回答下列问题：



- (1) 图中 A、B 两国农业均以____业为主，这主要是因为两国均属于____气候。
- (2) C 国的葡萄酒公司要建设一个大型的葡萄生产基地，①、②两地中较适合的是____地，理由是：_____。
- (3) D 半岛，近年来该地区酸雨现象日趋严重。据调查，形成该地酸雨的污染物，多来自西欧国家的工业区，其传送的载体是_____。
- (4) E 国新兴工业区主要分布在国土的_____和东北部，其独特的发展模式是_____。
- (5) 近年来，A 国的钢铁工业日益集中到西部，有些钢铁公司还将炼钢高炉建到荷兰海边，其主要目的是：
()
- A. 就近获得从国外进口的大量煤炭 B. 就近获得通过鹿特丹港进口的铁矿石
C. 接近消费市场，便于出口产品 D. 减少污染，保护城市生态环境
- (6) A 国著名的传统工业区是_____与该工业区类似的还有美国的_____工业区。

21. 读中国主要地形区分布图，完成下列各小题。



- (1) 地形区⑤是_____，位于中国地势的第_____阶梯。
- (2) 山脉 b 是_____，山脉以东是_____（填地形区），山脉以西是_____（填地形区）。
- (3) 写出 k 山脉的关于地理分界线的地理意义（任写 2 点）。

参考答案

1. A
2. D
3. D
4. A
5. A
6. A
7. A
8. A
9. C
10. A
11. D
12. C
13. D
14. B
15. B
16. C
17. D
18. B
- 19.

(1) 南、热带雨林气候

(2) 火山、地震

(3) 原因：①地处热带；②周围水域广阔；③地形复杂；④空气对流强烈

(4) 原因：①岛屿多，海域广阔；②热量充足，生物生长速度快；③入海河流众多，饵料丰富。

20.

- (1) 乳畜业 温带海洋性气候
- (2) ② 地中海气候，夏季充足，昼夜温差大
- (3) 西风（或西南风）
- (4) 中部 以中小型企业集聚的工业小区为独特的发展模式
- (5) B
- (6) 鲁尔区 东北部

21.

- (1) 东北平原 三
- (2) 太行山 华北平原 黄土高原
- (3) 南北方分界线；亚热带与暖温带分界线；水田与旱地分界线；常绿阔叶林与落叶阔叶林分界线。