



## 备考港澳台联考 地理绝密资料

### 港澳台联招必考试题-----区域地理 8-10

编写：北京博飞华侨港澳台学校

#### 区域地理 8-试题

##### 一、单选题

1.目前，综合治理长江的首要任务是

A. 疏通航道 B. 发展灌溉 C. 防洪 D. 沿岸绿化

2.某城市，1月平均气温为 $2.8^{\circ}\text{C}$ ，7月平均气温为 $29^{\circ}\text{C}$ ，年平均降水量为1260mm。这个城市是我国的

A. 北京 B. 哈尔滨 C. 武汉 D. 广州

3.我国下列地区中，受冬季风影响时间最长、影响强度最大的是

A. 内蒙古高原 B. 华北平原 C. 塔里木盆地 D. 黄土高原

4.位于地势第二级阶梯，内有丘陵分布，并且没有绿洲的盆地是

A. 塔里木盆地 B. 柴达木盆地 C. 四川盆地 D. 准噶尔盆地

5.我国高原中，地面起伏不大，除几条山脉外，很多地方是一望无际的原野，这个高原是

A. 黄土高原 B. 青藏高原 C. 云贵高原 D. 内蒙古高原

6.我国领海是从海岸基线向海上延伸到多少海里的海域

A. 15 B. 12 C. 120 D. 6

7.位于我国地势的第三级阶梯，主要由内力作用形成的地形有

A. 黄土高原、三江平原 B. 渭河谷地、汾河谷地  
C. 长江三角洲、珠江三角洲 D. 泰山、庐山

8.我国不少山脉走向不仅控制了主要河流的走向，还是这些河流的分水岭，如长江与黄河的分水岭是

A. 秦岭 B. 南岭 C. 昆仑山—秦岭 D. 祁连山—秦岭

9.呼伦贝尔草原最著名的名马是

A. 三河马 B. 河曲马 C. 蒙古马 D. 伊犁马

10.人口在400万以上且主要分布在我国南方地区的少数民族有

A. 壮族、土家族 B. 满族、苗族 C. 苗族、彝族 D. 回族、蒙古族

11.地跨北方地区、南方地区、西北地区、青藏地区的省是

A. 青海 B. 四川 C. 陕西 D. 甘肃



12.与江西省相邻的所有省份中，除了粤、湘、鄂三省外还有

A. 皖、浙、闽 B. 浙、闽、桂 C. 闽、桂、黔 D. 黔、豫、皖

13.兼跨我国地势第一、二级阶梯，有长江、黄河两大河流经过，5种地形分布齐全的省级行政区是

A. 甘肃 B. 青海 C. 四川 D. 西藏

北京博飛 WWW.PKUZYW.COM

14.我国既不受冬季风影响也不受夏季风影响的地区是

- A. 云贵高原 B. 藏北高原 C. 塔里木盆地 D. 雅鲁藏布江谷地

15.北回归线从东向西依次穿过的我国省级行政区是

- A. 广东、广西、海南、云南 B. 台湾、广东、广西、云南  
C. 台湾、福建、广东、广西 D. 云南、广西、广东、福建

16.我国同 5 个国家接壤的省级行政区是

- A. 新疆维吾尔自治区 B. 内蒙古自治区 C. 西藏自治区 D. 云南省

17.读右图，据此完成下列各题。

(1). B 处的主要宗教是( )

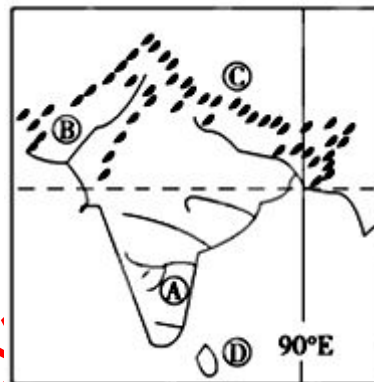
- A. 印度教 B. 佛教 C. 伊斯兰教 D. 基督教

(2). 2012 年 2 月中国驶往欧洲的货轮经过 D 岛屿时，可能发生的现象是( )

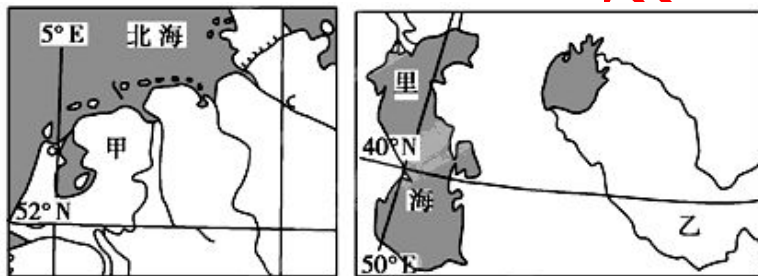
- A. 顺风顺水 B. 飓风活动频繁 C. 正值雨季 D. 新茶上市

(3). A 处附近的城市为印度重要的( )

- A. 钢铁工业城市 B. 新兴工业城市  
C. 毛纺工业中心 D. 棉纺工业中心



18.下图是一组世界区域地图，根据所学知识，据此完成下列各题。



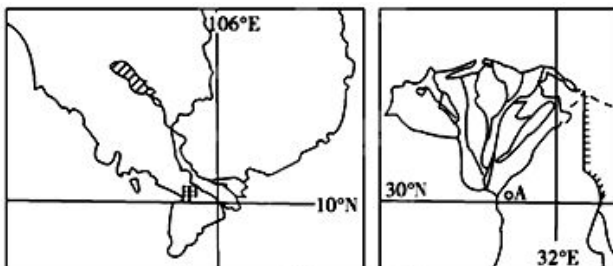
(1). 图中甲、乙两地发展种植业生产的主要制约因素分别是( )

- A. 土壤、水源 B. 光热、降水 C. 风向、地势 D. 地形、河流

(2). 乙地由于不合理灌溉而引发的主要环境问题是( )

- A. 水土流失 B. 沙尘暴 C. 土地盐碱化 D. 洪涝灾害

19.下图为世界两条大河的三角洲略图，据此完成下列各题。



(1). 关于甲、乙两个三角洲自然地理状况的叙述，正确的是( )

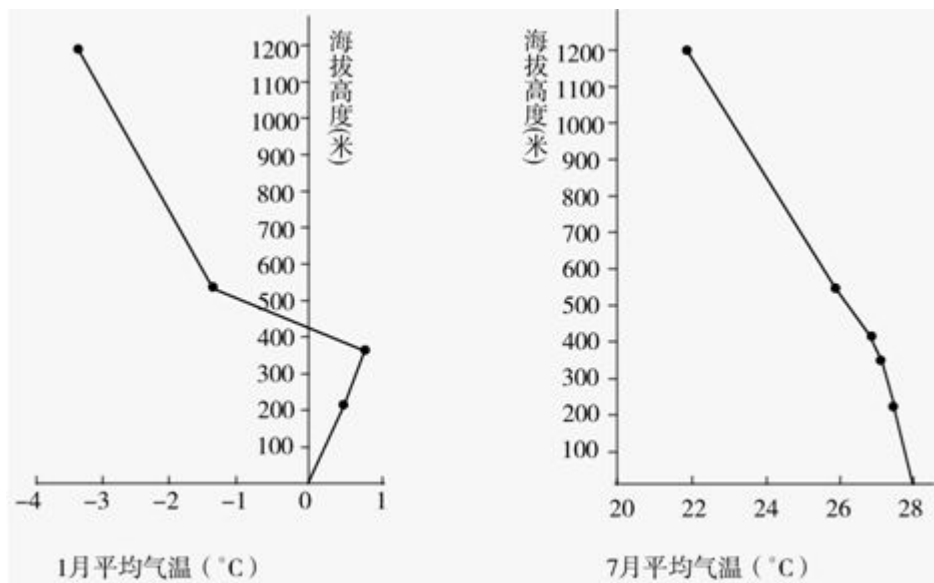
- A. 两地区全年盛行西南风 B. 两地区气候形成原因相同  
C. 两地区的主要河水量丰富 D. 两地区以流水堆积地貌为主

(2). 两三角洲所在地区的叙述，正确的是( )

- A. 甲地多洪涝灾害 B. 甲地农作物以小麦为主

C. 乙地为季风气候 D. 乙地居民多为黑色人种

20. 右图为我国某山地 1 月和 7 月平均气温垂直分布图，据此完成下列各题。



(1). 该山地最可能位于

A. 南岭 B. 秦岭 C. 阴山 D. 小兴安岭

(2). 该山两侧的主要地形区为

A. 黄土高原和内蒙古高原 B. 两广丘陵和长江中下游平原  
C. 三江平原和松嫩平原 D. 关中盆地和汉江谷地

21. 崇明岛为我国第三大岛，作为国务院确定的上海可持续发展重要战略空间，到 2020 年将建设成为国际一流、国内领先的具有可持续发展战略示范作用的“生态岛区”。据此完成下列各题。

(1) 崇明岛开发前景良好的可再生能源是 A. 水能 B. 风能 C. 核能 D. 地热能

(2) 从建设“生态岛区”的战略考虑，崇明岛东滩湿地适宜

A. 开垦农田 B. 建立高科技工业园区 C. 开发商品房 D. 建设候鸟自然保护区

22. 读图 16，据此完成下列各题。

(1) 图中①②③④四条山脉中，同为长江、珠江两大河流分水岭的是

A. ②④ B. ②③  
C. ③④ D. ①②

(2) 下列关于甲山脉的叙述，正确的是

A. 东南坡的降水少于西北坡  
B. 我国季风区与非季风区的分界线  
C. 为我国赣、闽两省的分界线  
D. 是我国地势第二、三级阶梯的分界线

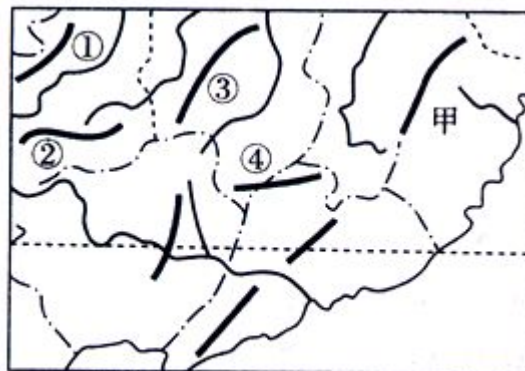
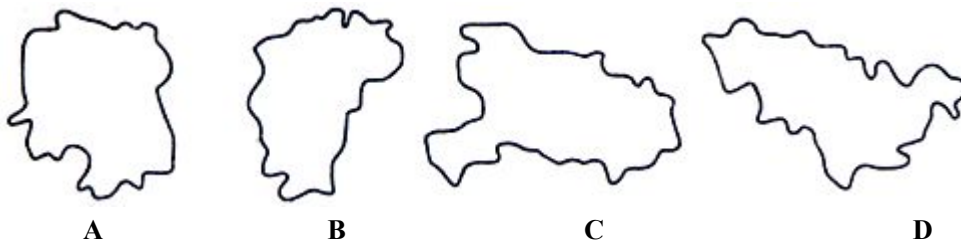


图 16

23.下列各省区中，黑土肥沃，种植业发达的是



24.亚洲某地，位于  $45^{\circ}\text{E}$ 、 $20^{\circ}\text{N}$ ，该地所在国家有着独特的自然与人文景观。据此完成下列各题。

(1).该地所属的气候类型是

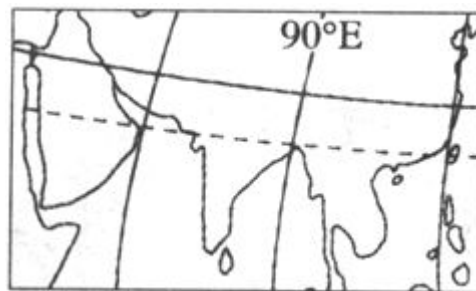
- A. 热带季风气候      B. 热带稀树草原气候  
C. 热带沙漠气候      D. 热带雨林气候

(2).该地在世界文化圈中属于

- A. 伊斯兰文化圈      B. 南亚文化圈  
C. 东南亚文化圈      D. 非洲文化圈

(3).该地所属国家在国际贸易中出口的主要产品之一是

- A. 茶叶      B. 锡矿      C. 石油      D. 咖啡



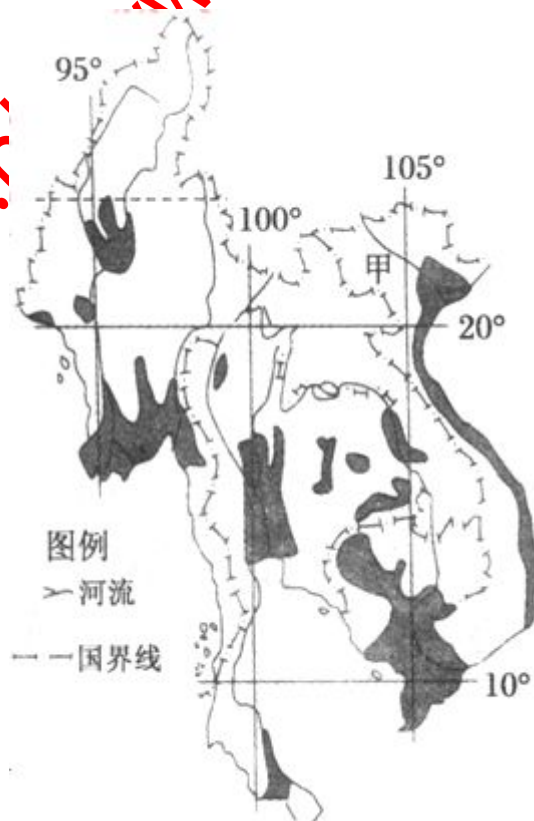
25.如图是世界某地区图。读下图，据此完成下列各题。

(1) 图中阴影部分表示该地区某种农产品的主要产区，该农产品为

- A. 茶叶  
B. 玉米  
C. 稻米  
D. 天然橡胶

(2) 下列产业部门中，目前最适宜有中国向图中甲国转移的是

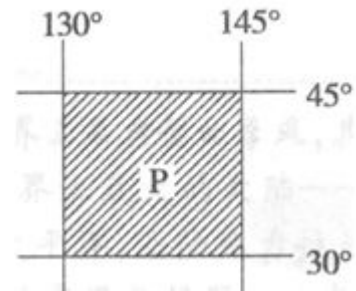
- A. 汽车制造  
B. 精钢锻造  
C. 软件开发  
D. 家具制造





26.如图是世界某地区图。读下图，据此完成下列各题。

- (1). P 点所在区域是  
A. 东亚      B. 南亚      C. 东南亚      D. 中亚
- (2). P 点所在大洲的气候特点为  
①季风气候显著      ②季风气候不明显  
③大陆性气候广布      ④海洋性气候广布  
A. ①③      B. ①④      C. ②③      D. ②④



27.阿拉伯国家居民大多信仰

- A. 佛教      B. 基督教      C. 犹太教      D. 伊斯兰教

28.下列山脉与地形区相邻的一组是(      )

- A. 巫山-----东北平原      B. 横断山脉-----塔里木盆地  
C. 昆仑山-----内蒙古高原      D. 秦岭-----黄土高原

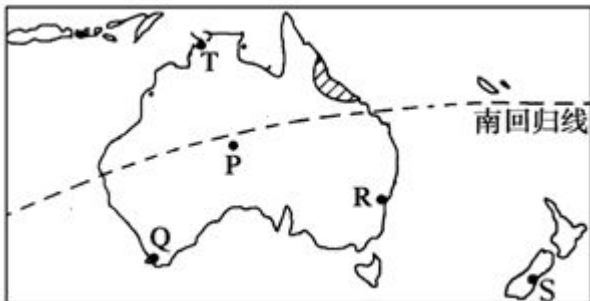
29.我国既临渤海，又临黄海的省级行政区是(      )

- A. 鲁、苏      B. 辽、鲁      C. 冀、辽      D. 冀、鲁

31.下列海峡既是两大洋的分界线又是两大洲的分界线的是(      )

- A. 台湾海峡      B. 白令海峡      C. 马六甲海峡      D. 直布罗陀海峡

32.下图为“澳大利亚示意图”，读图并回答问题。(6分)

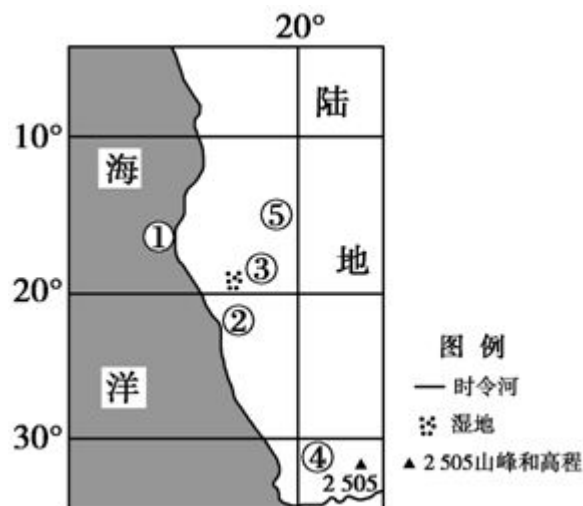


- (1) Q 所在农业地域类型是\_\_\_\_\_。R 是澳大利亚最大城市\_\_\_\_\_。(2分)
- (2) 澳大利亚特有的动植物有\_\_\_\_\_和\_\_\_\_\_ (各填一种)。其最大特征是古老性和特有性，原因是什么？(4分)



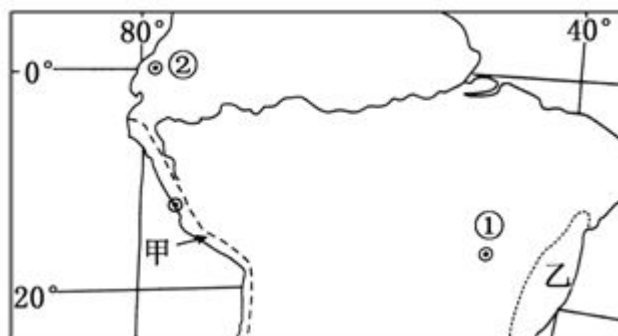
33.右图为世界某地区图，据此完成下列各题。

- (1).关于该地区的地理事物叙述正确的是  
A.①处洋流属暖流      B.②处景观为荒漠  
C.③处湿地为淡水沼泽      D.④处山顶有终年积雪
- (2).当太阳直射图中⑤所在纬线时，下列说法正确的是  
A.悉尼白昼将继续变长  
B.罗马正值多雨季节  
C.印度受亚洲低压影响  
D.宁波正午太阳高度达一年中最小值



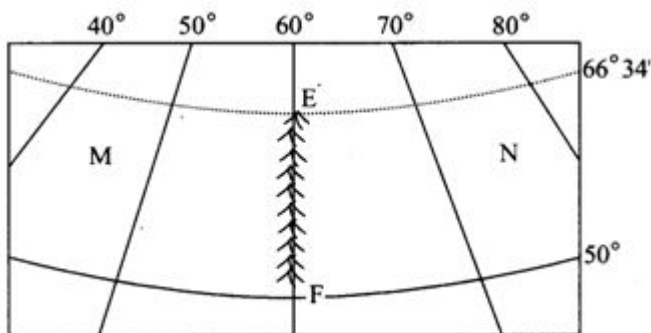
34.读“世界某区域图”，据此完成下列各题。

- (1) 甲地区(虚线以西)多大雾天气，主要原因是  
A.沿岸有寒流流经  
B.低纬地区，空气对流强烈  
C.沙漠区，空气中尘粒多  
D.位于高山背风气流下沉区
- (2) 图示乙地所在国家是  
A.巴西    B.印度    C.澳大利亚    D.日本



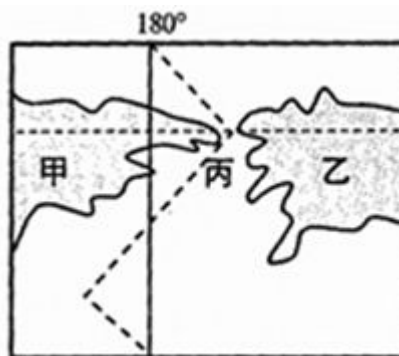
35.读下图，据此完成下列各题。

- (1) 图中山脉的名称是  
A.安第斯山    B.阿尔卑斯山  
C. 横断山脉    D.乌拉尔山
- (2) 沿 EF 线上的山脉是  
A.两个国家的分界线  
B.两个大洲的分界线  
C.两种气候类型的分界线  
D.两种农业区的分界线



36.读右图，据此完成下列各题。

- (1) 图中甲、乙两个国家分别是  
A.俄罗斯、美国    B.中国、美国  
C.俄罗斯、加拿大    D.都是美国
- (2) 丙处海峡的名称是  
A.德雷克海峡    B.麦哲伦海峡  
C.白令海峡    D. 直布罗陀海峡



37.泰姬陵所在国家是

- A. 泰国 B. 印度 C. 缅甸 D. 马来西亚

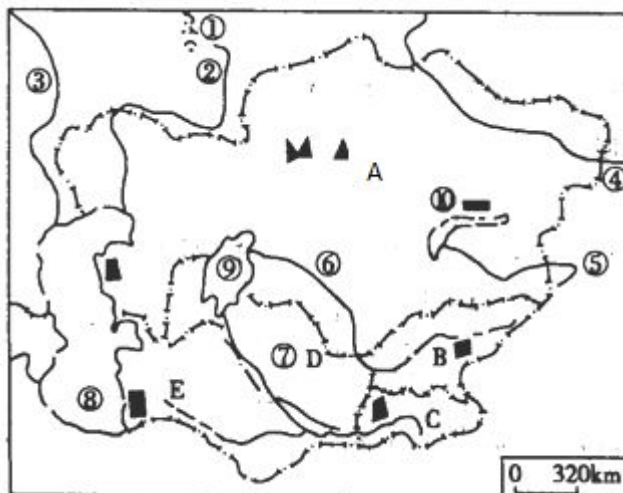
38.读中亚地区略图，据此完成下列各题。

(1) 图中代号所示地理名称正确的是

- A. ①高加索山 B. ③锡尔河  
C. ④勒拿河 D. ⑧里海

(2) 关于 A 国的说法正确的是

- A. A 国是哈萨克斯坦  
B. 有“白金之国”的美誉  
C. 农业以水稻种植为主  
D. 与我国不相邻



39.非洲大陆的地形以什么为主

- A. 高原 B. 平原 C. 盆地 D. 丘陵

40.东南亚流经国家最多的河流是

- A. 湄公河 B. 红河 C. 萨尔温江 D. 伊洛瓦底江

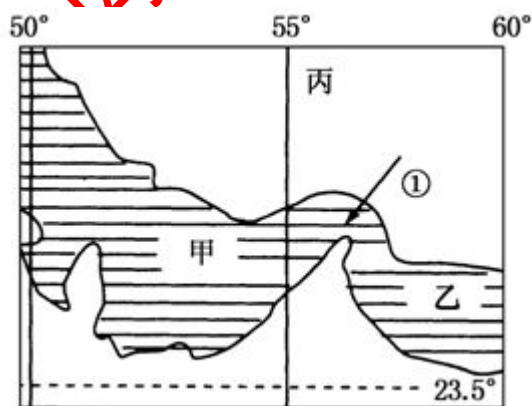
41.读某区域图，据此完成下列各题。

(1). 图中甲海域石油资源十分丰富，甲海域是

- A. 波斯湾 B. 里海  
C. 加纳比海 D. 南海

(2). 2010 年我国石油的对外依存度已达 45%。将石油从波斯湾运至上海港，沿最近的航线要依次经过

- A. 霍尔木兹海峡、曼德海峡、马六甲海峡  
B. 曼德海峡、马六甲海峡、台湾海峡  
C. 马六甲海峡、霍尔木兹海峡、琼州海峡  
D. 霍尔木兹海峡、马六甲海峡、台湾海峡



43.读下图，据此完成下列各题。

(1).图中①②③④所示海峡分别是

A. 英吉利海峡、马六甲海峡、麦哲伦海峡、曼德海峡

B. 英吉利海峡、麦哲伦海峡、马六甲海峡、曼德海峡

C. 马六甲海峡、英吉利海峡、麦哲伦海峡、曼德海峡

D. 英吉利海峡、马六甲海峡、曼德海峡、麦哲伦海峡

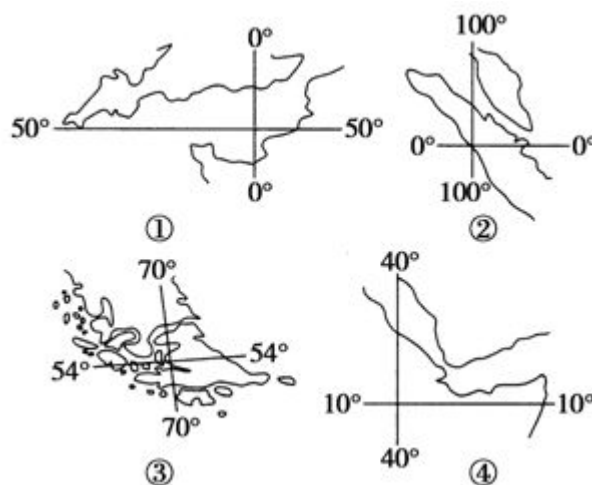
峡

(2).四幅图中位于低纬度并联系两大洋的海峡是

- A. ① B. ② C. ③ D. ④

(3). 两侧分属于两个大洲，但联系同一大洋的两个海域的海峡是

- A. ① B. ② C. ③ D. ④





44.被世界三个大洋包围的大洲是:

- A. 南美洲 B. 北美洲 C. 非洲 D. 大洋洲

45.我国的内河航道运量最多的是

- A. 大运河航道 B. 长江航道 C. 珠江航道 D. 松花江航道

46.我国五大淡水湖按面积由大到小的顺序是 ( )

- A. 巢湖 洪泽湖 太湖 洞庭湖 鄱阳湖 B. 巢湖 洪泽湖 太湖 都阳湖 洞庭湖  
C. 鄱阳湖 洞庭湖 洪泽湖 太湖 巢湖 D. 鄱阳湖 洞庭湖 太湖 洪泽湖 巢湖

47.读甲、乙两个国家的轮廓图, 据此完成下列各题。



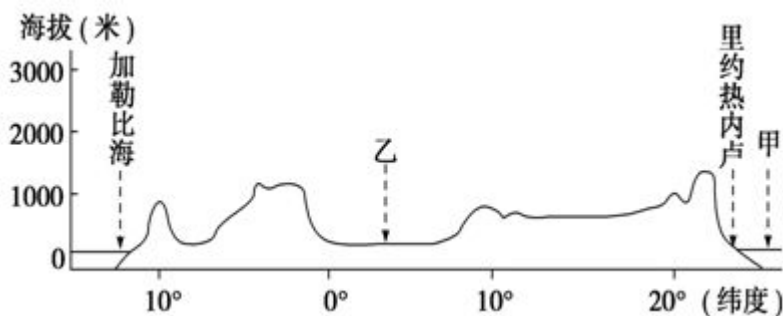
(1)甲乙两国共同的地理特征是

- ①国土全部位于南半球 ②都分布有热带草原景观  
③人口集中分布于国土东北部 ④都是所在大洲经济最发达的国家  
A. ①③ B. ②③ C. ①④ D. ②④

(2)关于两国进口贸易的叙述, 正确的是

- ①都出口铁矿 ②都进口石油 ③都出口小麦、咖啡 ④都进口热带经济作物  
A. ①② B. ②③ C. ①④ D. ③④

48.下图为某大洲地形剖面示意图。据此完成下列各题。



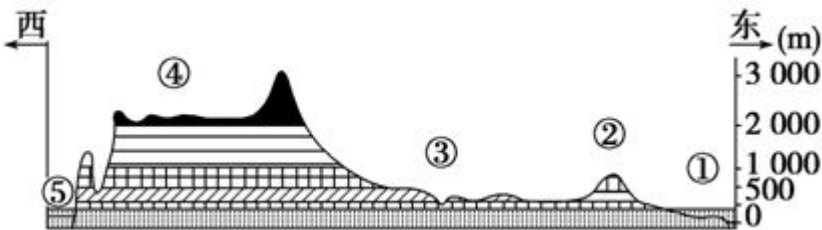
(1)下列叙述正确的是

- A. 该剖面穿过的地形以山地为主 B. 乙地所在国工业集中分布在该国西部  
C. 该剖面走向为西北——东南向 D. 乙地所在国农业集中分布在该国北部

(2)关于甲地与所在大洋对岸(同纬度)的叙述, 正确的是

- A. 甲地海水的盐度比对岸海域更高 B. 甲地上升流比对岸海域更显著  
C. 甲地大陆沿岸一派油橄榄林风光 D. 甲地对岸的沿岸一片草原景观

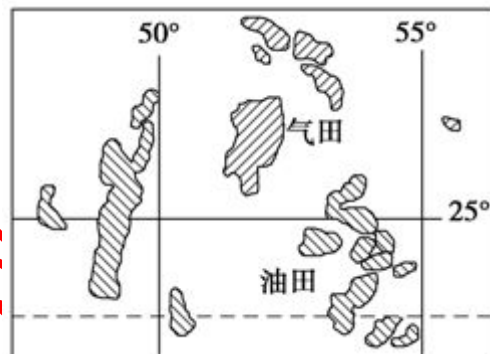
49.读“某大洲沿 37°纬线剖面图”，据此完成下列各题。



- (1) ①处洋流是  
A. 东澳大利亚暖流 B. 拉布拉多寒流 C. 墨西哥湾暖流 D. 巴西暖流
- (2) 有关图中序号所在地区，叙述正确的是  
A. ②区有丰富的煤、铁资源 B. ③区为潘帕斯草原，畜牧业发达  
C. ④区为该国的畜牧和灌溉农业区 D. ⑤处沿海地区全年温和湿润，降水丰富

50.右图“世界石油、天然气某主要产区分布示意图”。据此完成下列各题。

- (1) 图示的油田、气田分布在  
A. 墨西哥湾及沿岸地区  
B. 几内亚湾及沿岸地区  
C. 亚丁湾及沿岸地区  
D. 波斯湾及沿岸地区
- (2)、图示区域全年降水稀少，主要原因是  
A. 受中纬西风带的影响 B. 受副热带高压的影响  
C. 受东南信风带的影响 D. 受近海区寒流的影响
- (2) 不需要从图示地区进口原油的国家是  
A. 美国 B. 中国 C. 俄罗斯 D. 日本



响响

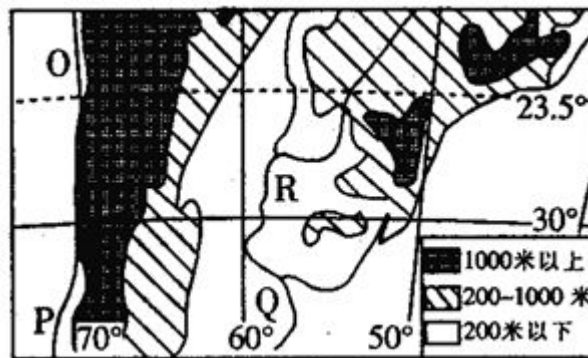
51.尼罗河与刚果河是非洲两条主要河流。读右图，据此完成下列各题。

- (1) 图中两水系的支流密度差异很大，主要影响因素是  
A. 地形 B. 纬度因素  
C. 气候 D. 海陆位置
- (2) 对两河流特征的说法，正确的是  
A. 刚果河水量大，航运便利  
B. 两河流量季节变化明显，均以 7、8 月为汛期  
C. 尼罗河下游水流平稳，而刚果河下游水力资源丰富  
D. 两河下游地区森林资源均丰富



52.读“世界某地区地形分布图”，据此完成下列各题。

- (1) O 地和 P 地沿岸气候差异较大，其主要影响因素是  
A. 地形 B. 洋流  
C. 大气环流 D. 海陆位置
- (2) 关于图中 R 河流特征的叙述，正确的是  
A. 1 月该河流处于丰水期  
B. 下游每年都有凌汛  
C. 该河流域内地形起伏不大，水能很少  
D. 一般情况下，该河河床西岸较陡，东岸较缓



53.读非洲某区域图，据此完成下列各题。

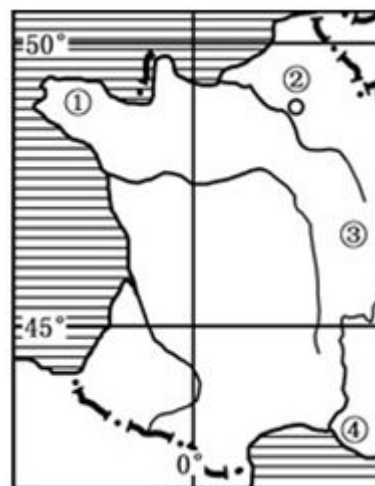
- (1) E 为纳米布沙漠，它沿非洲西南大西洋海岸延伸 2100 千米，该沙漠最宽处达 160 千米，而最狭处只有 10 千米，其沿海岸线延伸的原因是  
A. 地形 B. 降水 C. 大气环流 D. 洋流
- (2) F 自然带在此处分布的最高纬度低于 35°，主要的影响因素是  
A. 陆地的纬度分布 B. 降水条件  
C. 地形 D. 洋流



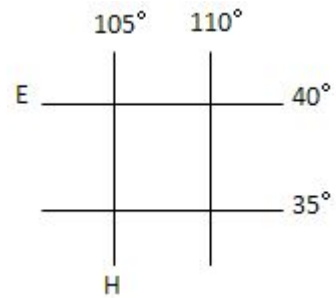
- 54.马来西亚、菲律宾、印度、泰国的主要出口农产品依次是  
A. 棉花、茶叶、蕉麻、天然橡胶 B. 天然橡胶、蕉麻、茶叶、稻米  
C. 椰子、茶叶、稻米、棉花 D. 胡椒、金鸡纳霜、木棉、棉花
- 55.有关印度经济作物与其主要分布地区搭配正确的是  
A. 棉花在德干高原东北部 B. 水稻——东北部及半岛沿海地区  
C. 茶叶——德干高原 D. 黄麻——印度河流域

56.右图所示为世界某国局部示意图，据此完成下列各题。

- (1) 图示地区北部地势特点大致  
A. 西高东低 B. 中间低四周高  
C. 东高西低 D. 北高南低
- (2) 该国以葡萄美酒著名，大范围种植葡萄的地点在  
A. ①地 B. ②地 C. ③地 D. ④地
- (3) 影响城市②形成与发展的主要因素不包括  
A. 位于河流附近，航运便利  
B. 地形平坦，农业发达  
C. 气候温和湿润，水资源丰富  
D. 矿物能源丰富，工业发达

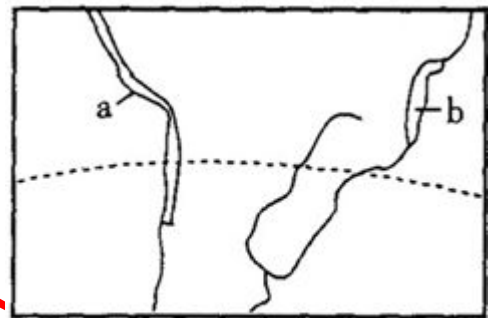


57.读右图，据此完成下列各题。



- (1) H 经线穿越的我国大地形区有 ( )
- A. 内蒙古高原、黄土高原、青藏高原、云贵高原  
B. 内蒙古高原、黄土高原、四川盆地、云贵高原  
C. 黄土高原、长江中下游平原、四川盆地、云贵高原  
D. 准噶尔盆地、天山、塔里木盆地、青藏高原
- (2) E 纬线穿过的我国省级行政单位有 ( )
- A. 山东省、河北省、山西省、甘肃省、新疆维吾尔自治区  
B. 河北省、山西省、内蒙古自治区、甘肃省、青海省  
C. 辽宁省、河北省、山西省、甘肃省、新疆维吾尔自治区  
D. 江苏省、河南省、陕西省、宁夏回族自治区、青海省

58.读右上图甲，据此完成下列各题。

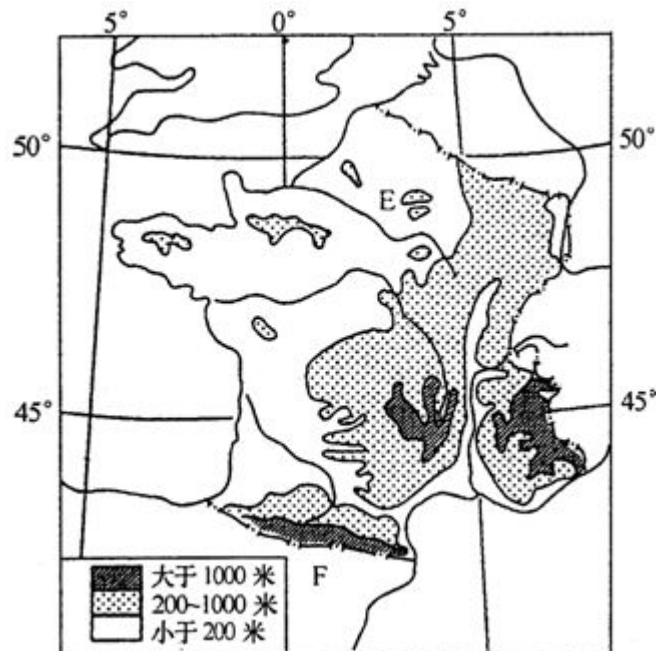


图甲

- (1) a 区域的自然带是 ( )
- A. 热带雨林带      B. 热带草原带  
C. 热带荒漠带      D. 亚热带常绿硬叶林带
- (2) b 区域所属气候类型的形成原因主要是 ( )
- ①位于西风带的迎风坡    ②位于信风带的背风坡  
③位于信风带的迎风坡    ④沿岸有寒流流经  
⑤沿岸有暖流流经        ⑥位于低纬地区，终年受上升气流的影响

- A. ①④⑥    B. ②④⑤    C. ③⑤    D. ⑤⑥

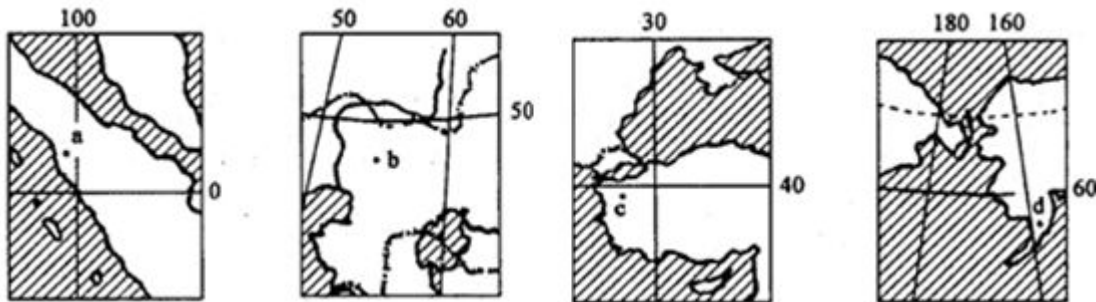
59.读左下“世界上某国家的经纬网和等高线图”据此完成下列各题。



- (1) 该国家的地形特征可以表述为 ( )
- A. 地形以山地为主，地势由东南向西北降低  
B. 地形以平原为主，地势由北向南降低  
C. 平原、高原面积广大，地势由东南向西北降低  
D. 地形以平原、盆地为主，地势由东向西降低
- (2) 该国家是世界上重要的农产品生产国，其主要的农产品有 ( )
- A. 小麦、棉花、葡萄等    B. 玉米、甘蔗、葡萄等  
C. 水稻、大豆、棉花等    D. 小麦、甜菜、葡萄等
- (3) 图中 E 河流内的相对高度 (H) 最大可以达以 (单位为米)
- A.  $199 < H < 200$     B.  $799 < H < 800$   
C.  $599 < H < 600$     D.  $999 < H < 1000$
- (4) 该国家 F 段国界线 (陆界) 的长度约为 ( )
- A. 350 千米    B. 480 千米    C. 550 千米    D. 600 千米

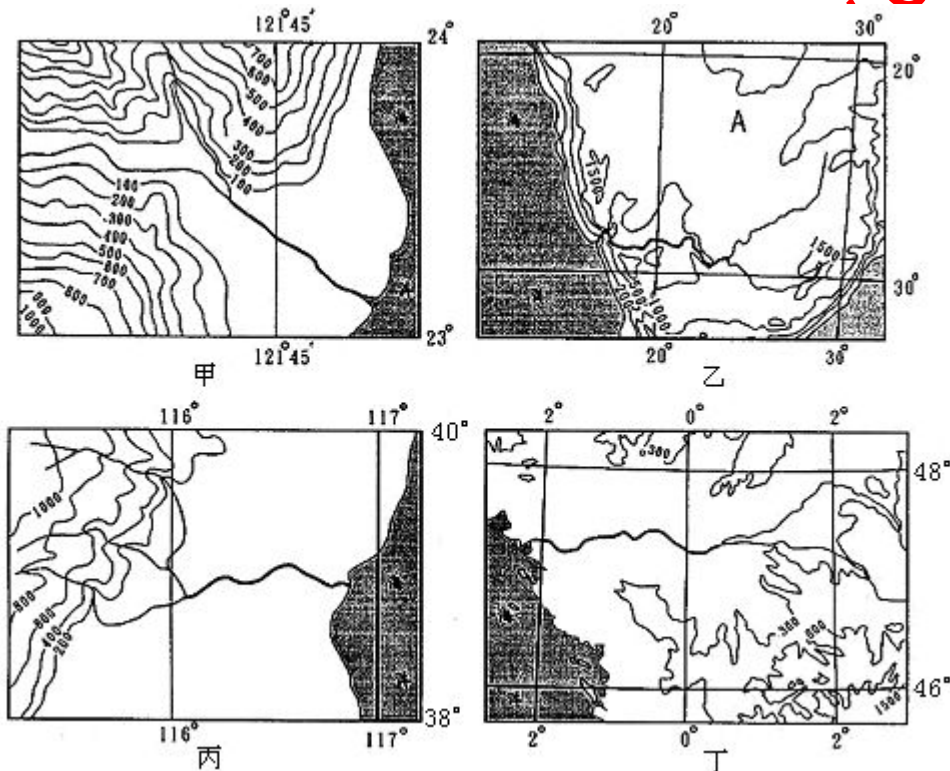


60. 下图为四个地区的地理位置示意图。据此完成下列各题。



- (1) 在四幅图中出现的地跨两大洲的国家有 ( )  
A. 2 个      B. 3 个      C. 4 个      D. 5 个
- (2) 图中字母所示地点位于世界主要地震带上的有 ( )  
A. a、b      B. a、c、d      C. b、c、d      D. a、b、c、d
- (3) 图示地点位于内流区域的是 ( )  
A. a      B. b      C. c      D. d

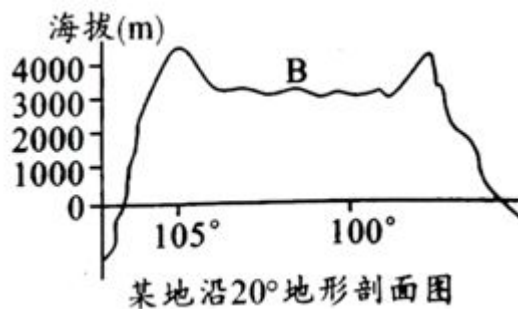
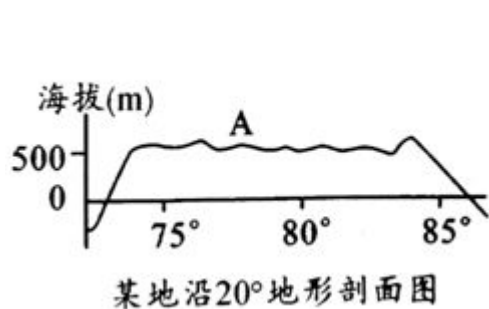
61. 读“四个区域的地形和河流分布图”，据此完成下列各题。



- (1) 据图判断，下列说法错误的是 ( )  
①四幅图中，比例尺最小的是甲图      ②乙区域所在大洲的人口自然增长率最大  
③丙区域中的河流含沙量小，结冰期长      ④丁区域有世界重要商品粮生产国  
A. ①②      B. ①③      C. ③④      D. ②④
- (2) 经乙区域西岸沿海运往丁区域的物质最主要是 ( )  
A. 木材      B. 粮食      C. 石油      D. 电子产品



62.读下列地形剖面图，据此完成下列各题。

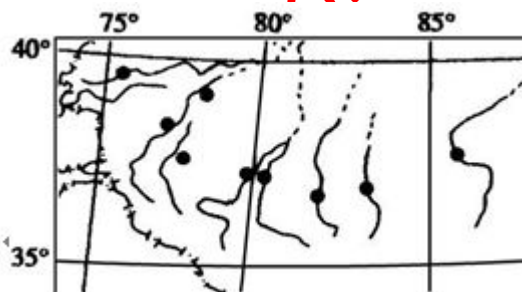


- (1) A 地形区名称是 ( )  
 A.阿拉伯高原 B.德干高原 C.伊朗高原 D.南非高原
- (2) B 地的地形区名称是 ( )  
 A.墨西哥高原 B.巴西高原 C.东非高原 D.澳大利亚西部高原
- (3) 海拔较高，地面坦荡或起伏不大，边缘比较陡峻的广大地区称为 ( )  
 A.山地 B.高原 C.平原 D.丘陵

63.读“某地区略图”，回答

若图中黑点代表城市，则影响该地区城市分布的最主要区位因素是

- A. 地形 B. 气候  
 B. C. 宗教 D. 水源



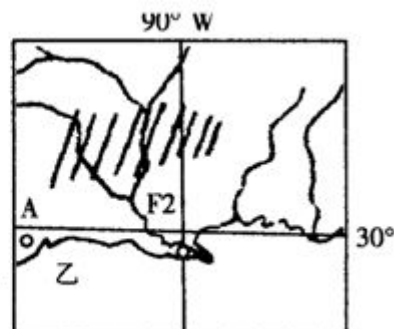
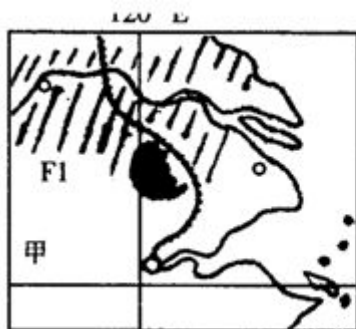
64.读甲、乙两幅图，据此完成下列各题。

(1) 图中两河河口附近的平原，在发展农业生产方面相同的限制性因素是

- A. 雨热不同期  
 B. 风沙危害  
 C. 常有洪涝发生  
 D. 土地荒漠化严重

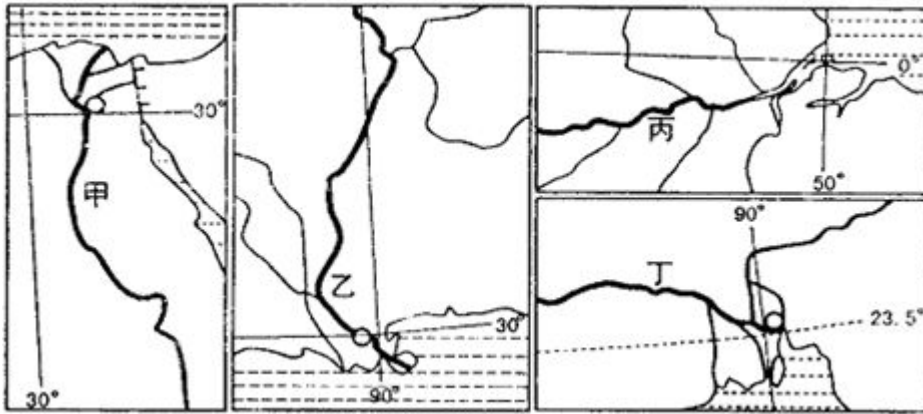
(2) 城市 A 发展的主要有利条件是

- A. 便利的交通条件  
 B. 雄厚的农业基础  
 C. 悠久的历史  
 D. 丰富的石油资源





65.读世界四条河流河口示意图，据此完成下列各题。




- (1) 关于四条河流共同特征的说法，正确的是 ( )  
 A. 流域内种植业发达 B. 都位于东半球 C. 雨水补给为主 D. 河口三角洲上大城市多
- (2) 乙河航运量远大于丁河的主要影响因素 ( )  
 A. 人口 B. 经济 C. 地形 D. 径流量

66.亚平宁半岛上的主要国家是( )

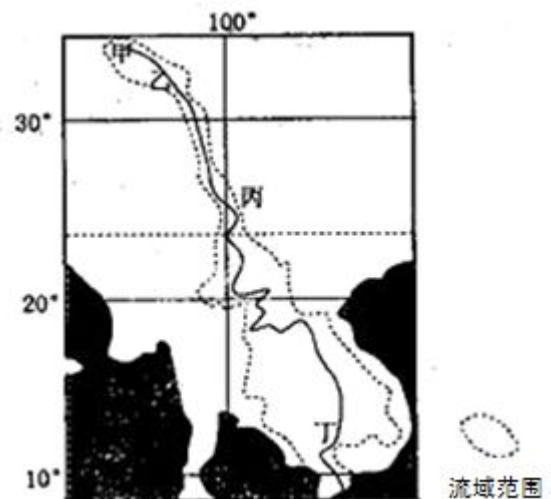
- A. 西班牙 B. 意大利 c. 英国 D. 希腊

67. 读图，据此完成下列各题。



- (1) 图中甲、乙、丙、丁四个海峡，既是大洲分界线，又是板块消亡边界的是  
 A. 甲 B. 乙 C. 丙 D. 丁
- (2) 元旦前后，甲、乙、丙、丁海峡的自然景观，可信的是  
 A. 甲海峡洋流自东向西，风大浪大 B. 乙海峡风平浪静，两岸雨林密布  
 C. 丙海峡雪舞银蛇，无边落木萧萧 D. 丁海峡细雨蒙蒙，海上时有浮冰漂过

68.读图“某河流干流和流域范围示意图”，据此完成下列各题。



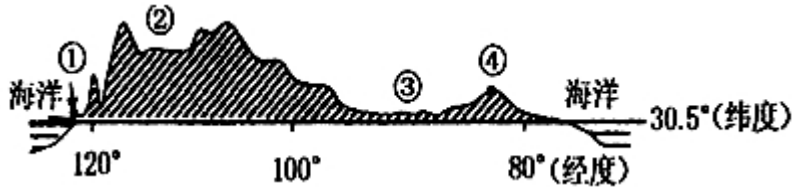
- (1) 图中河流的乙~丙河段流域范围非常狭窄，其主要原因是  
 A. 水流湍急落差大 B. 高山束缚支流短  
 C. 高原气候降水少 D. 泥沙淤积河床高
- (2) 甲地自然环境的突出特征是  
 A. 干旱 B. 湿热  
 C. 高寒 D. 林地多



(3) 形成丁地农业地域类型的区位条件有

- ①人口稠密，劳动力充足      ②交通发达，便于粮食大量出口      ③历史悠久，种植经验丰富  
④地广人稀，土地租金低      ⑤科技发达，机械化水平高      ⑥粮食需求量大  
A. ①②④    B. ③⑤⑥    C. ②④⑤    D. ①③⑥

69. 图为世界某大陆地形剖面图，据此完成下列各题。



(1) 下列地理事物位于该大陆上的是

- A. 维多利亚湖      B. 大自流盆地    C. 科罗拉多大峡谷      D. 潘帕斯草原

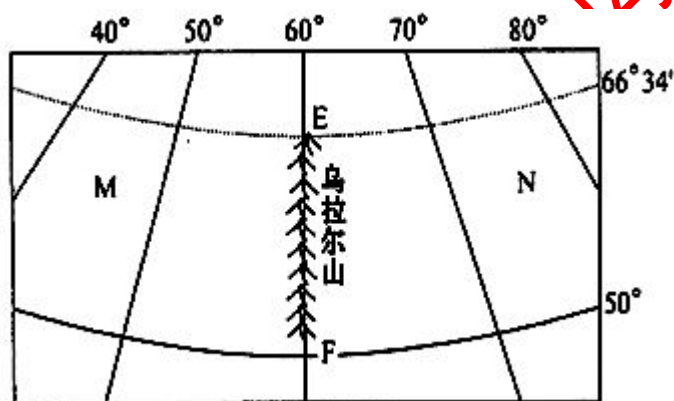
(2) 该大陆上分布面积最广的森林

- A. 亚寒带针叶林      B. 热带雨林    C. 温带落叶阔叶林      D. 亚热带常绿阔叶林

(3) 关于图中数码代表的地理现象的叙述，正确的是

- A. ①地是温带海洋性气候      B. ②地有丰富的煤炭资源  
C. ③平原主要的经济作物是棉花      D. ④地有色金属矿产资源丰富

70. 读图，据此完成下列各题。



(1) 沿 E F 线上的山脉是

- A. 两个国家的分界线      B. 两个大洲的分界线  
C. 两种气候类型的分界线      D. 两种农业区的分界线

(2) M 地的土地利用类型主要为

- A. 耕地    B. 林地    C. 草地    D. 建筑用地

(3) N 地的地表特征表现为

- A. 地面起伏大，多山地丘陵      B. 地势低平，多沼泽地  
C. 森林广布，树种丰富多样      D. 沙漠广布，以内流河为主

(4) 图示国家是世界四大粮食生产国之一，但有时仍需进口粮食的原因是

- A. 耕地面积少      B. 人多地少  
C. 纬度高，热量不足，农作物产量不稳定    D. 水源短缺

(5) 当 N 地出现强大高压中心时，我国大部分地区的盛行风向为

- A. 东北风    B. 东南风    C. 西北风    D. 西南风



71.读世界某区域略图，据此完成下列各题。

- (1) 该国大量进口粮食的主要原因是  
A.多水旱灾害 B.人口众多  
C.耕地面积小 D.土壤贫瘠
- (2) 若该国从美国大量进口粮食，合理的运输线应经过  
A.苏伊士运河 B.巴拿马运河  
C.马六甲海峡 D.合恩角
- (3) 有关图上数码所在地的正确说法是  
A.①地盛产黄麻 B.①地降水量比②③④地都多  
C.③地铁、锰资源丰富 D.④地土壤呈碱性



- 72.以下世界之最，正确的是  
A.最长的河流——亚马孙河 B.最大的高原——青藏高原  
C.最大的半岛——阿拉伯半岛 D.最大的淡水湖——里海

- 73.北美五大湖是  
A.火山爆发形成的 B.冰蚀作用形成的 C.陆地陷落形成的 D.海洋地壳上升形成的

- 74.全球七个大洲中  
A.跨纬度最广的是大洋洲 B.跨经度最广的是南极洲  
C.跨南、北半球的是北美洲 D.跨东、西半球的是南美洲

- 75.下列海港中位于太平洋沿岸的是  
A.休斯敦 B.洛杉矶 C.纽约 D.费城

- 76.人口超过一亿，地狭人稠，具有海洋性特征季风气候的国家是  
A.朝鲜 B.马来西亚 C.印度尼西亚 D.日本

- 77.西欧、中非、印度、蒙古、阿拉伯半岛，其主要人种依次是  
A.白色、黑色、白色、黄色、白色 B.白色、白色、黄色、黑色、黄色  
C.白色、白色、黄色、黄色、黑色 D.白色、黑色、黄色、黄色、白色

- 78.下列地区中，民族复杂，国家数目最多的是  
A.巴尔干半岛 B.亚平宁半岛 C.中南半岛 D.索马里半岛

- 79.下列国家，其煤、铁、石油储量都很丰富的是  
A.美国、俄罗斯 B.英国、法国、美国 C.澳大利亚、巴西 D.加拿大、墨西哥

- 80.世界上面积较大的耕地多分布在  
A.温带湿润平原地区 B.热带雨林地区  
C.热带草原地区 D.高寒地区

- 81.世界上最大的群岛国家是

A.日本 B.马来西亚 C.菲律宾 D.印度尼西亚

82.被世界三个大洋包围的大洲是

A.北美洲 B.南美洲 C.非洲 D.欧洲

83.读欧洲部分图，据此完成下列各题。

(1).图中箭头表示两种不同矿产的运输方向，这两种矿产是

A.铁矿和铜矿

B.木材和石油

C.石油和煤矿

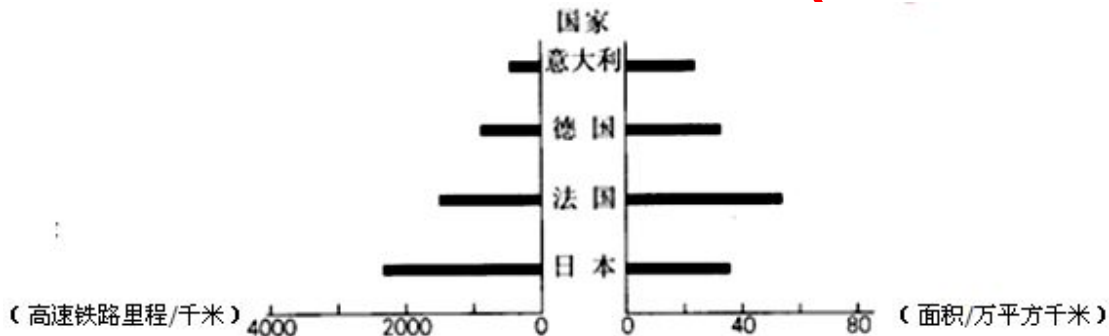
D.铁矿和石油

(2).图中四地工业兴起的主导因素与序号组合正确的是

A.原料——① B.煤铁——②

C.市场——③ D.能源——④

84.上右图为意大利、德国、法国、日本四周的面积和现有高速铁路里程示意图。据此完成下列各题。



(1)四个国家中高速铁路密度最大的是 ( ) A. 意大利 B. 德国 C. 日本 D. 法国

(2).四个国家共同的特点是 ( )

A. 城市化率低 B. 海岸线漫长 C. 粮食进口国 D. 钢铁工业发达

85.读“某大陆东南部地区示意图及该地区气候资料统计图”，据此完成下列各题。

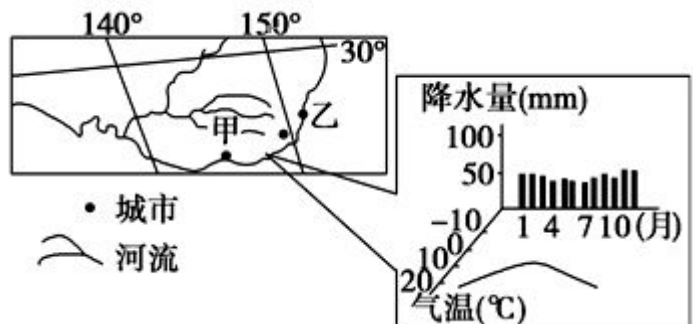
(1).图示甲河流域的农业地域类型是 ( )

A.大牧场放牧业 B.混合农业

C.商品谷物农业 D.水稻种植业

(2)甲河入海口附近海域的表层海水，盐度最低的时间为 ( )

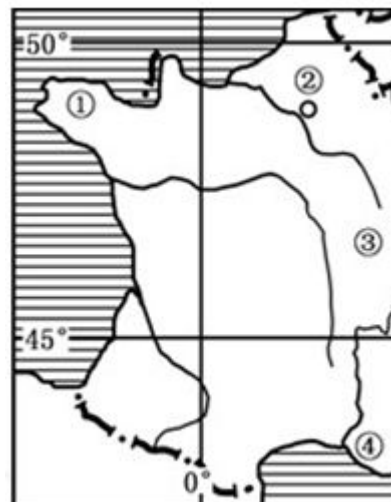
A.1月 B.4月 C.7月 D.10月





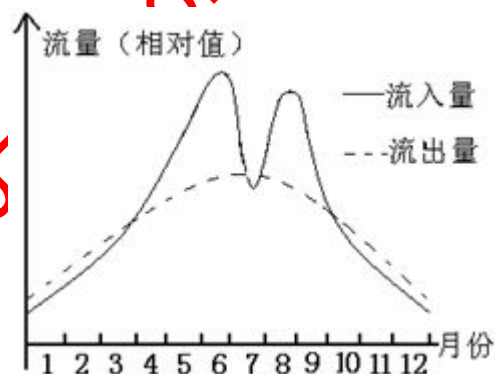
86. 图示为世界某国局部示意图，据此完成下列各题。

- (1) 图示地区北部地势特点大致  
A. 西高东低      B. 中间低四周高  
C. 东高西低      D. 北高南低
- (2) 该国以葡萄美酒著名，大范围种植葡萄的地点在  
A. ①地      B. ②地  
C. ③地      D. ④地

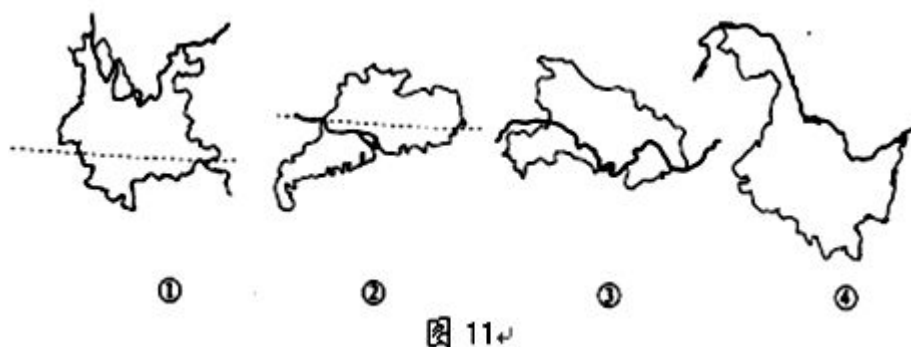


87. 图为我国某水库流入水量与流出水量年内变化情况，据此完成下列各题。

- (1) 该水库蓄水的最高水位出现在  
A. 5月      B. 6月  
C. 10月      D. 12月
- (2) 该水库最可能位于  
A. 黄河流域      B. 塔里木河流域  
C. 长江流域      D. 珠江流域



88. (双选题) 读图 11，回答



图中四省区中，陆上与邻国接壤的是

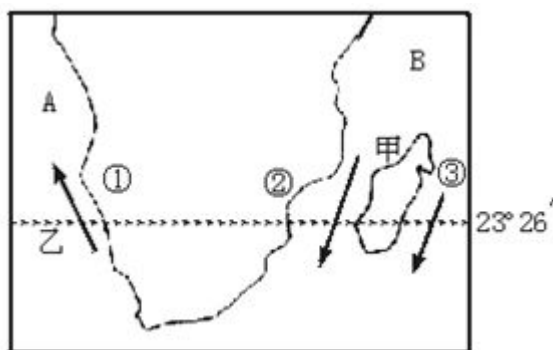
- A. ①      B. ②      C. ③      D. ④

89. 黄河干流上将在防洪、减淤方面发挥重要作用的水利工程是

- A. 龙羊峡      B. 刘家峡      C. 小浪底      D. 三门峡

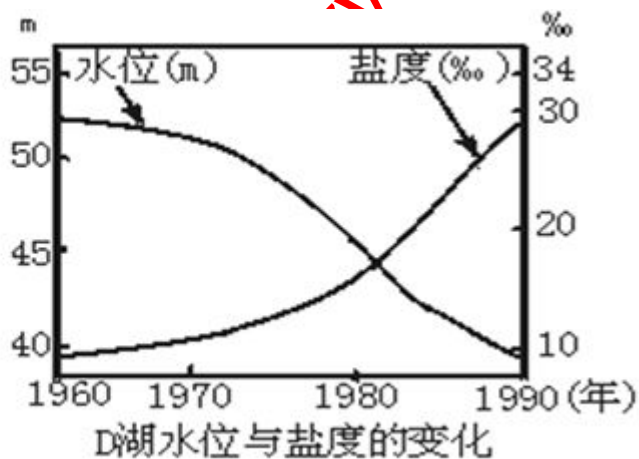
## 二、综合题

90.读图，回答下列问题。(12分)



- (1) A处为\_\_\_\_\_ (海域)，B处为\_\_\_\_\_ (海域)。
  - (2) 图中岛屿名称为\_\_\_\_\_，其东部气候类型为\_\_\_\_\_。
  - (3) 洋流的名称为甲\_\_\_\_\_。
  - (4) 图中①、②、③三地降水量多少顺序哪个正确 ( )
- A. ①<②<③                      B. ③<②<①  
C. ①<③<②                      D. ②<①<③

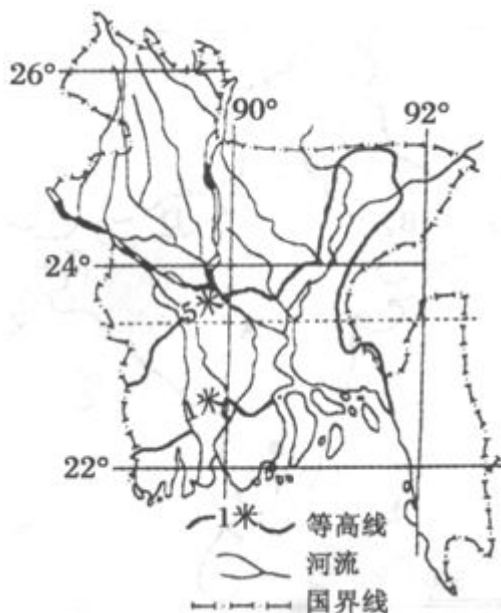
91.读图，分析回答：(16分)



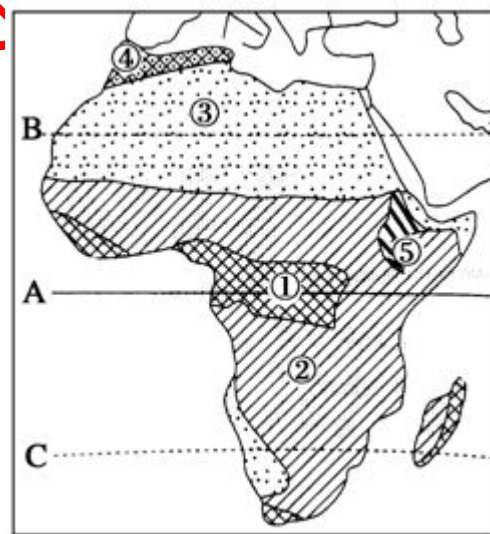
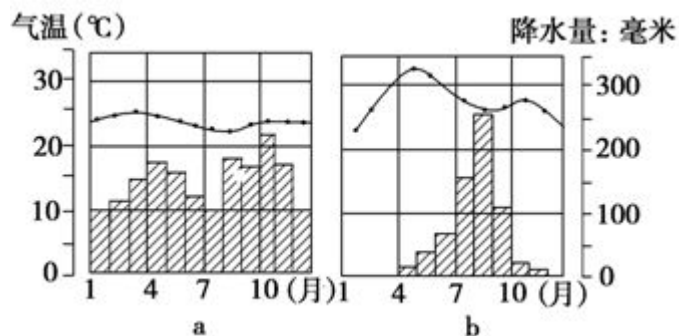
- (1) 填出图中代码代表的国家或湖泊名称：  
A \_\_\_\_\_，B \_\_\_\_\_，D \_\_\_\_\_ (湖泊)。
- (2) 图中之国的农业类型以\_\_\_\_\_农业为主，主要的粮食作物是\_\_\_\_\_，经济作物是\_\_\_\_\_。
- (3) 据报道，1960年以来，图中湖泊的面积、水量、水面高度均在减少，而湖水盐度开始接近海水盐度，原始有机体几近死亡。试说明其原因。

92. 下图为某国简图。读图并结合所学知识，回答下列问题。(14 分)

- (1) 该国南部海域属于\_\_\_\_\_洋。该国地形、地势的基本特点是\_\_\_\_\_。
- (2) 从地理位置看，该国属于\_\_\_\_\_气候，这种气候的特点是\_\_\_\_\_。
- (3) 该国人口稠密，在地形、气候条件下，大部分地区形成的农业地域类型为\_\_\_\_\_。
- (4) 说明该国气候、地形对发展该类型农业的不利影响。(4 分，答对一点 2 分)



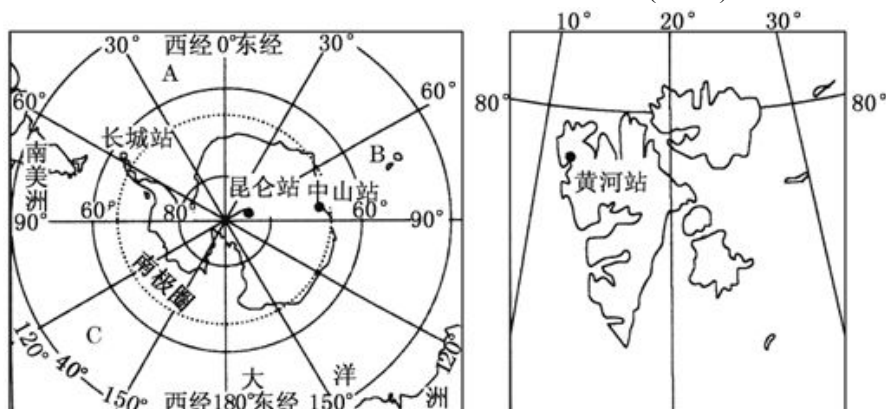
93. 读图，完成下列各题。(12 分)



- (1) 在“气候类型分布图”中，纬线 A 为\_\_\_\_\_，它从非洲中部穿过；本区大部分处于纬线 B \_\_\_\_\_和 C \_\_\_\_\_之间，因而温度较\_\_\_\_\_。(4 分)
- (2) 图中 A 附近受\_\_\_\_\_气压带控制，盛行\_\_\_\_\_ (上升或下沉) 气流，降水\_\_\_\_\_，因而形成①\_\_\_\_\_气候类型区；该气候类型相应的“气温—降水曲线”为\_\_\_\_\_ (a 或 b) (5 分)
- (3) 图中②为\_\_\_\_\_气候区，这一地区分为明显的\_\_\_\_\_两季；图中③代表\_\_\_\_\_气候。(3 分)

94. 极地地区为科学研究和考察的天然场所。自 1984 以来，我国先后对南极进行了 25 次科学考察，对北极

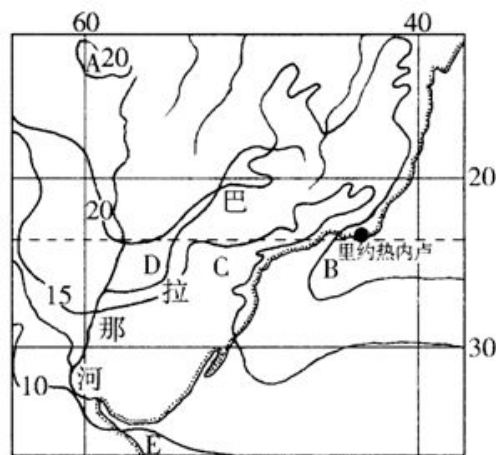
进行了3次科学考察，北京时间2009年2月2日12时25分，我国首个南极内陆考察站，也是我国第三个南极科学考察站正式开站。结合所学知识回答问题。(14分)



- (1)写出大洋名称：A \_\_\_\_\_；B \_\_\_\_\_；C \_\_\_\_\_。(3分)
- (2)中山站在长城站的 \_\_\_\_\_ 方向。这两个考察站中，距离北京较近的是 \_\_\_\_\_，没有极昼现象的是 \_\_\_\_\_。(答具体名称)(答具体名称)(4分)
- (3)我国四个极地科学考察站中，位于西半球的是 \_\_\_\_\_，地球自转线速度最小的是 \_\_\_\_\_，常年盛行东北风的是 \_\_\_\_\_。(答具体名称)(3分)
- (4)我国在南极建立长城站、中山站和昆仑站的时间都是在2月份，建立北极科考站的时间最佳应是几月份？原因是什么？(4分)

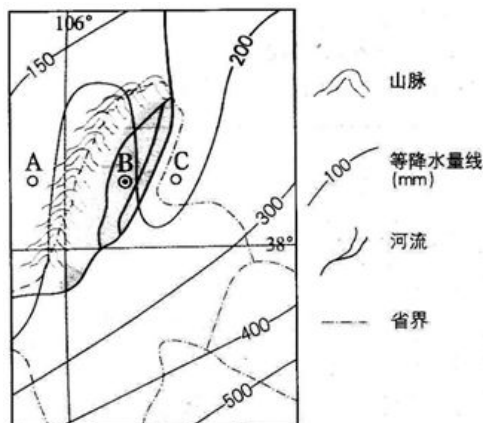
95.读世界某区域图”，回答下列问题。

- (1)图中A处闭合等温线内的气温应介于 \_\_\_\_\_ °C之间。
- (2)图中B、C、D三处位于同一纬度地带，但B处气温 \_\_\_\_\_ (高于或低于)C、D两处，简答形成这一现象的主要原因。
- (3)说明巴拉那河(拉普拉塔河的上游)流经地区的主要气候类型，并分析气候对该河流径流量季节变化的影响。



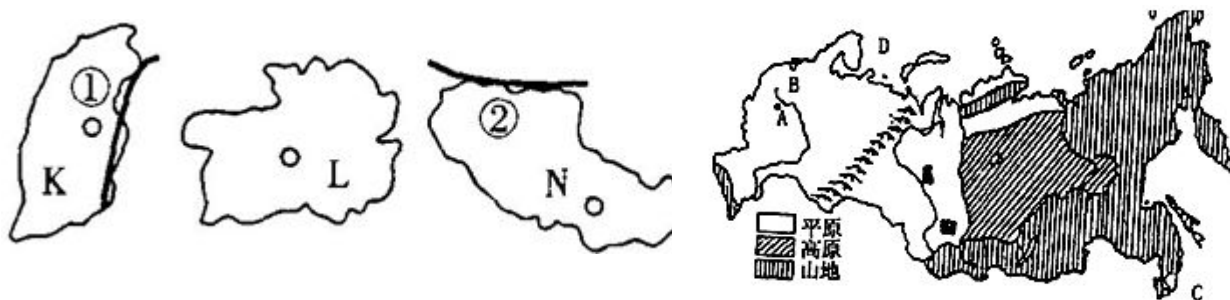
96.读我国区域图回答问题

- (1)图中山脉名称： \_\_\_\_\_
- B城市所在省区名称： \_\_\_\_\_
- (2)A、B、C三地降水量分别是： \_\_\_\_\_， \_\_\_\_\_， \_\_\_\_\_。
- 其中B降水比AC \_\_\_\_\_ (多，少)其主要原因是： \_\_\_\_\_。
- (3)影响B地农业发展的限制性因素是 \_\_\_\_\_：，图示河段越向下游流量越小试分析原因。



97.读下图回答下列问题：



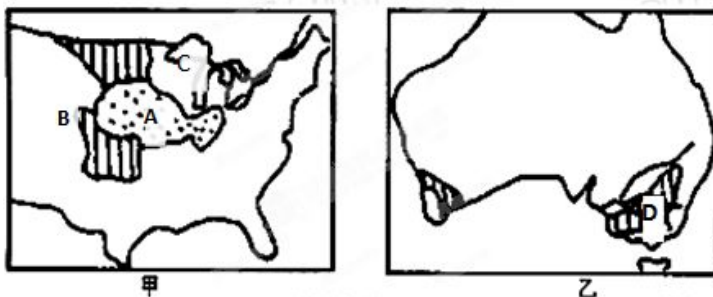


- (1) 填出图中下列字母代表的省区名称：  
K\_\_\_\_\_, L\_\_\_\_\_, N\_\_\_\_\_, M\_\_\_\_\_
- (2) 图中位于我国地势第一级阶梯上的有\_\_\_\_\_, 位于第二级阶梯上的有\_\_\_\_\_。
- (3) 图中山脉①②③, 属于我国地势第一级与第二梯分界的是\_\_\_\_, 属于地势第二级与第三级分界线的有\_\_\_\_\_。
- (4) 图中四个省区, 地形以高原为主的有\_\_\_\_\_, 以平原和丘陵、低山为主的有\_\_\_\_\_。

98.读下面两图, 回答问题: (24分)

(1) 图甲和图乙中表示的农业地域类型分别是:

A 和 B \_\_\_\_\_  
C \_\_\_\_\_  
D \_\_\_\_\_。



- (2) A.B 两种农业地域类型的农场经营方式一般多为\_\_\_\_\_经营, 都大规模种植的农作物为: A 的农作物是\_\_\_\_\_, B 的农作物是\_\_\_\_\_, C 的产品主要是\_\_\_\_\_, C 的主导区位因素是\_\_\_\_\_。
- (3) 乙图所示 D 农业地域的主要农产品是\_\_\_\_\_, \_\_\_\_\_。
- (4) 甲图中农业地域类型中我国东北西北也有的是\_\_\_\_\_, 北京、上海 等大城市有的是\_\_\_\_\_。

99.读美国地图, 回答问题:

(1) 填出图中所代表的地理事物名称

A \_\_\_\_\_ (工业区)  
C \_\_\_\_\_ 河  
③ \_\_\_\_\_ (首都)  
④ \_\_\_\_\_ (农业带)



著名的  
工业布  
是

汽车工

- (2) 图中②所示的虚线圈内为世界以电子工业  
\_\_\_\_\_工业区, 决定这类  
局的主导因素是\_\_\_\_\_。
- (3) ① 地区 所 属 的 农 业 地 域 类 型  
\_\_\_\_\_。
- (4) 美国最大的城市是\_\_\_\_\_, 全国最大  
业中心是\_\_\_\_\_, 全国最大的石油化工基地\_\_\_\_\_, 华人在美国最大聚居地  
\_\_\_\_\_。

(5) 美国是个农业生产大国, 但仍需要大量进口的农产品主要是

A. 咖啡和可可 B. 玉米和大豆 C. 稻米和烟草 D. 天然橡胶和香蕉

100.读“俄罗斯地形图”, 回答下列问题。



- (1)图中乌拉尔山脉以东是\_\_\_\_\_平原，  
该平原上用图例标注的油田是\_\_\_\_\_油田，  
煤田是\_\_\_\_\_煤田。
- (2)图中 A 指首都\_\_\_\_\_，  
B 指港口\_\_\_\_\_。
- (3)俄罗斯西伯利亚地区三大河流自南向北流的原因是\_\_\_\_\_。
- (4)世界上大多数河流两岸及下游平原都是重要的农业区，但这三条大河的下游却几乎没有农田，主要是因为\_\_\_\_\_。
- (5)形成西伯利亚地区大面积沼泽地的原因有多种，除河水泛滥外，还可能有的原因是\_\_\_\_\_。

101.读下列材料，回答问题。(12 分)

材料一：澳大利亚最大钢铁公司在印度投资建立多家工厂，以满足印度汽车制造商和建筑商对钢材的大量需求。

材料二：印度已成为向澳大利亚移民人数增长最快的国家。

材料三：澳大利亚(左图)和印度(右图)略图

- A. A 地是澳大利亚重要的混合农业区，说明促进该区域农业发展的社会经济因素，并指出该地农业发展的限制性自然条件。(4 分)
- B. 简析印度吸引澳大利亚钢铁公司建厂的主要区位条件。(3 分)
- C. 分析促使大量印度人移民澳大利亚的主要原因，并说明对迁入地的影响。(5 分)

102.读图 15“太平洋中两区域示意图”，回答下列问题。

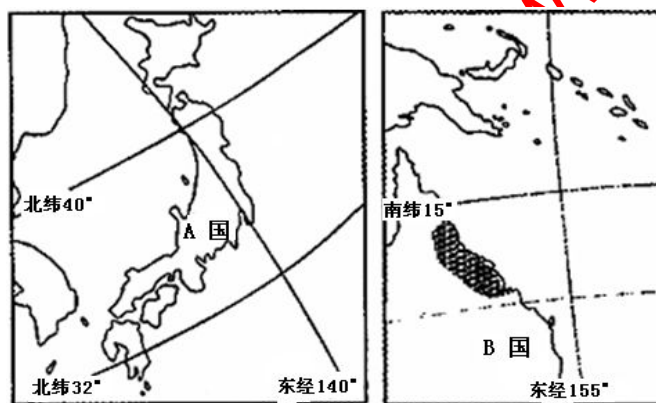
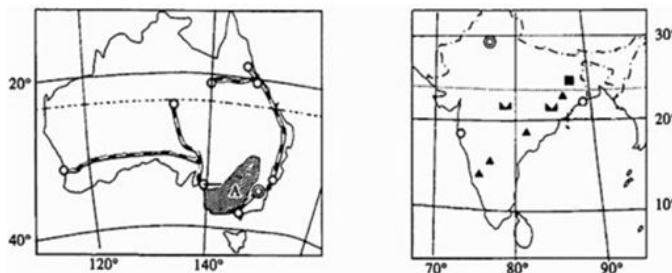


图 15



- (1) A 国内矿产资源缺乏，但有丰富的水能资源，请具体分析 A 国内水能资源丰富的原因。(4 分)
- (2) 说出 B 国阴影区域的气候类型并简要分析其成因(可从大气环流、洋流和地形等方面入手)。(8 分)

北京博飛WWW.PKUZYW.COM