

备考港澳台联考 地理绝密资料

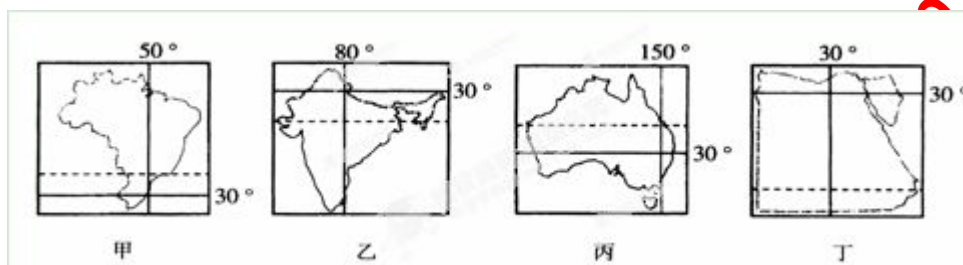
港澳台联招必考试题-----区域地理 7-10

编写：北京博飞华侨港澳台学校

区域地理 7-试题

一、单选题

1.读下图，据此完成下列各题。



(1)上述四幅图中，比例尺最大的一幅是 ()

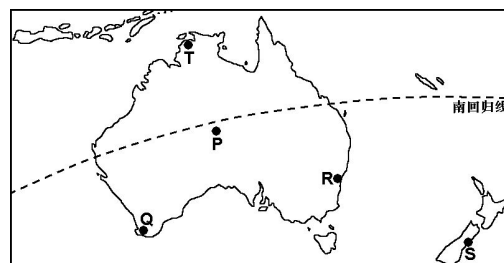
A、甲 B、乙 C、丙 D、丁

(2)在图示四国中，都有回归线穿过，其中没有沙漠分布的国家是 ()

A、甲 B、乙 C、丙 D、丁

(3)有关图中四个国家自然地理特征的叙述，不正确的是 ()

A、甲国地势西高东低，高原面积广阔
B、乙国以热带季风气候为主，旱雨季分明
C、丙国河流较少，但中部地区地下水丰富
D、丁国有世界最长的河流流经



(4)有关四个国家经济特征的叙述，正确的是 ()

A、甲国是世界最大的咖啡和天然橡胶的生产国
B、乙国工业集中分布在东南沿海地区
C、丙国是工矿业和农牧业发达的国家
D、丁国最主要的经济支柱是长绒棉的生产和出口

2.读下图，据此完成下列各题。

(1)终年副高控制，炎热干燥的地区是

A. P B. Q C. R D. S

(2)气候特点为“冬季温和多雨、夏季炎热干燥”的地方是

A. T B. Q C. R D. S

3.读我国一月份气温分布图，据此完成下列各题。

(1)冬季我国南北温差达到

北京博飞教育中心

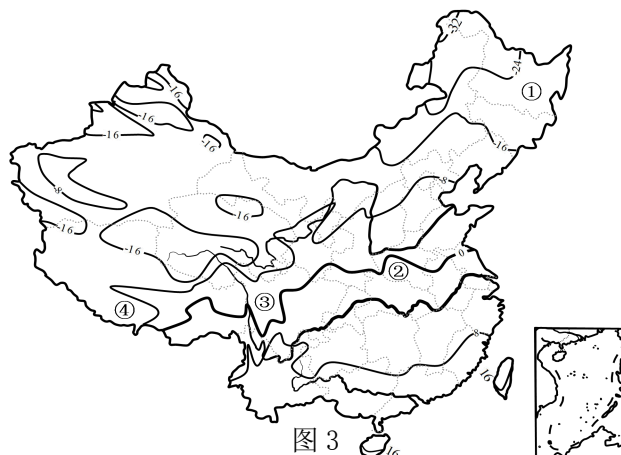


图 3



- A. 16℃以上 B. 48℃以上
C. 32℃以上 D. 8℃以下

(2)冬季我国气温最低地区分布在

- A. 准噶尔盆地 B. 青藏高原
C. 大兴安岭北部 D. 柴达木盆地

(3)图中四个区域中，冬季河流不会结冰的是

- A. ① B. ②
C. ③ D. ④

北京博飛 www.pkuzyw.com

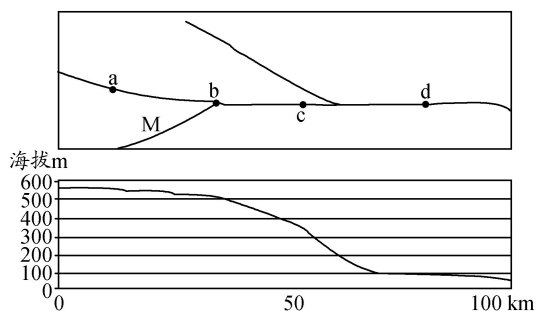
4. 下图为 M 河流域河流分布图及其干流河床对应的剖面图。读图据此完成下列各题。

41. 计划开发河流的水能，修建大坝的最理想位置是

- A. a 处 B. b 处
C. c 处 D. d 处

42. 该流域最易发生洪水灾害的河段是

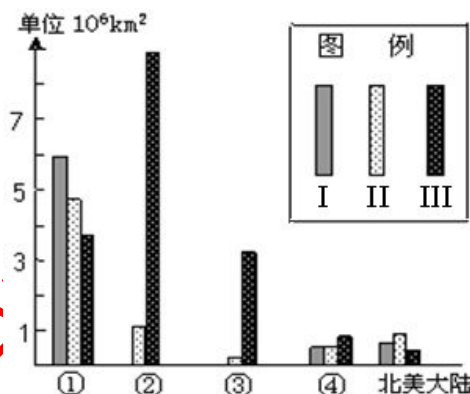
- A. a 处 B. b 处
C. c 处 D. d 处



5. 地球上的荒漠主要有热带、亚热带、温带三种类型，读世界各大陆荒漠构成图，完成下题。

图中①、②、③、④依次代表的大陆是

- A. 非洲大陆、亚洲大陆、澳大利亚大陆、南美大陆
B. 亚洲大陆、非洲大陆、澳大利亚大陆、南美大陆
C. 亚洲大陆、澳大利亚大陆、非洲大陆、南美大陆
D. 非洲大陆、澳大利亚大陆、亚洲大陆、南美大陆



6. 近半个世纪以来，美国东北部老工业区受多种因素影响，工业地位显著下降，匹兹堡及其附近地区钢铁产量明显减少，而美国西部的“硅谷”、南部的休斯敦等新兴工业中心迅速繁荣。据此完成下列各题。

(1) 20 世纪中叶，新兴企业不愿落户匹兹堡的主要原因有

- ①环境污染严重； ②劳动力素质太低； ③地价上涨； ④公共设施不齐全

- A. ①② B. ①③ C. ②③ D. ③④

(2) 美国西部和南部新兴工业迅速繁荣的原因是

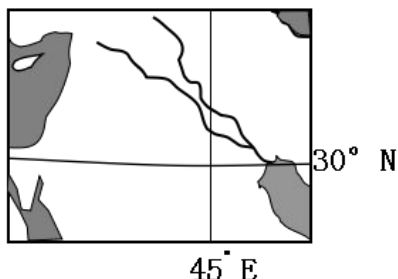
- ①离海洋近，水资源丰富； ②阳光充足，环境污染少； ③人才资源丰富、科技发达；
④有丰富的煤铁资源

- A. ①② B. ③④ C. ①④ D. ②③

(3) 为促进区域经济复苏，匹兹堡产业结构调整的重点应是

- A. 从重工业向高科技工业方向发展 B. 从钢铁工业向汽车工业方向发展
C. 由资源密集型向劳动力密集型工业发展 D. 进一步突出钢铁工业的主导地位

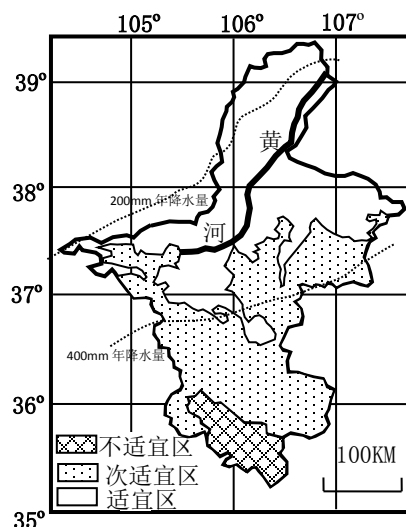
7. 图所示区域具有丰富的



- A. 油气资源 B. 水能资源 C. 森林资源 D. 铁矿资源

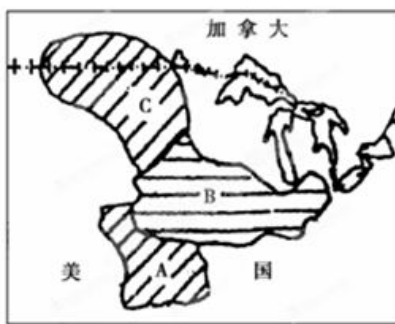
8. 枸杞是茄科小灌木枸杞的成熟果实，既可作为坚果食用，又是一味传统中药材。读宁夏枸杞分布图，据此完成下列各题。

- (1) 宁夏枸杞的适宜种植区主要分布在
A. 温带落叶阔叶林带 B. 温带草原带
C. 温带荒漠带 D. 山地垂直带
- (2) 宁夏在发展枸杞生产过程中，要注意防止
A. 泥石流、滑坡等自然灾害
B. 土地荒漠化问题
C. 水土流失问题
D. 防洪防台问题



9. 读图，回答 B 地区种植的农作物主要是()

- A. 小麦
B. 水稻
C. 棉花
D. 玉米



10. 有关美国的自然条件，叙述正确的是()

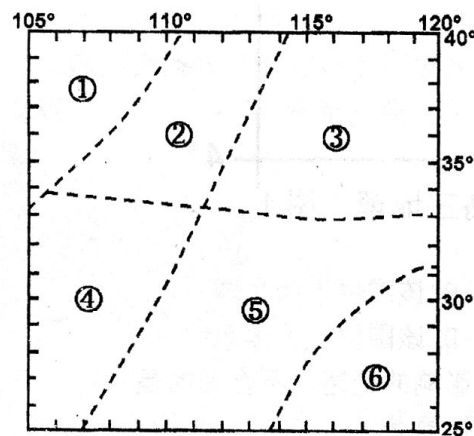
- A. 本土处于 25°N—49°N，大部分属温带和亚热带，以温带大陆性气候为主
B. 美国地形分为三大纵列带，中部为平原，落基山分布于东部，西部为高原
C. 美国平原广阔，约占本土面积 1/3，且地形平坦、土壤肥沃
D. 美国耕地辽阔，但草场、林地资源较少

11. 下列措施中，不属于田纳西河流域治理与开发经验的是()

- A. 设置专门的开发机构 B. 基塘生产 C. 加大开发力度 D. 提高流域的开放度

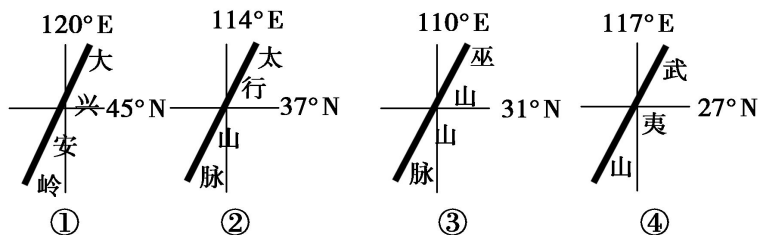
12. 右图为某区域模式图，据此完成下列各题。

- (1) 下面关于图示中沿③——①一线自然带及其过渡规律的描述，合理的是
A. 纬度地带性显著 B. 垂直地带性显著
C. 自然带过渡规律：常绿阔叶林—落叶阔叶林—针叶林
D. 自然带过渡规律：落叶阔叶林—草原—半草原—半荒漠—荒漠
- (2) 关于此图中各区域突出环境问题的叙述，正确的是
A. ①区常绿阔叶林破坏严重 B. ②区水土流失面积广大
C. ③区泥石流、滑坡灾害频发 D. ⑤区土壤盐渍化普遍



13.略

14.读“我国四条重要的山脉位置示意图”，据此完成下列各题。



(1)图中既是我国地势阶梯分界线，又是高原与平原分界线的山脉是

- A. ①②③④ B. ①②③ C. ②③④ D. ①②

(2)下列关于图中山脉及其两侧地理事物的说法，正确的是

- ①是我国湿润区与半湿润区的分界线 ②以西地区土壤盐碱化严重
③附近有我国目前最大的水利枢纽工程 ④是我国长江水系和闽江水系的分水岭

- A. ①② B. ②③ C. ①④ D. ③④

15.有关黄河的说法，错误的是

- A. 洮河、湟水、汾河、渭河是黄河自上游至下游依次流入干流的
B. 黄河下游是“地上河”。因此，加固黄河大堤是治黄之本
C. 黄河“凌汛”发生在初冬结冰，初春解冻之时
D. 黄河中游除了三门峡水利工程外，还有小浪底水利工程

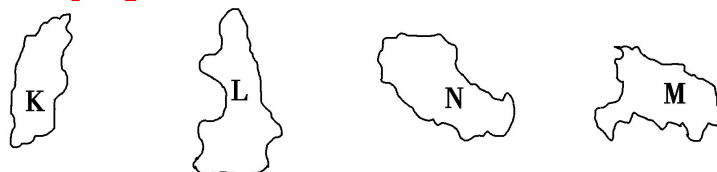
17.读我国部分省(区)轮廓图，据此完成下列各题。

(1)下列选项中相邻的省(区)是

- A. K、M B. K、N
C. L、M D. L、N

(2)N省(区)中人口较多的少数民族是

- A. 藏族 B. 壮族
C. 蒙古族 D. 维吾尔族



18.下图为某半岛地形图。读图，据此完成下列各题。据此完成下列各题。

(1)该半岛火山活动频繁，是因为受到

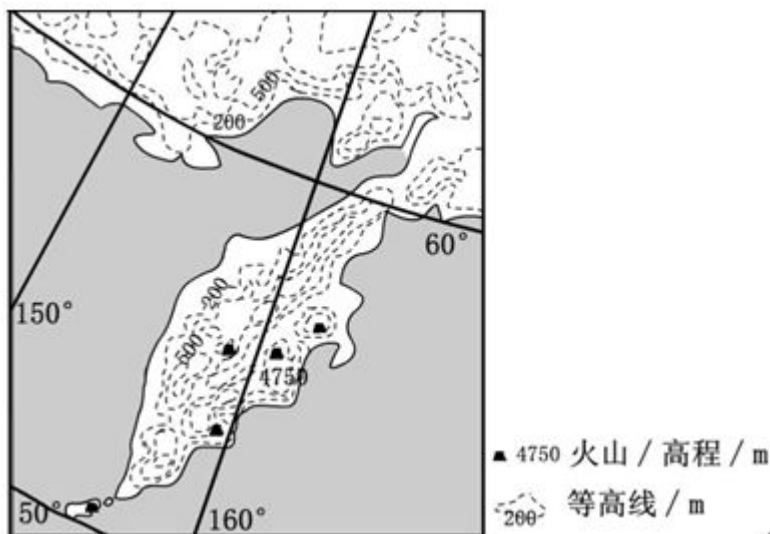
- A. 太平洋板块张裂的影响
B. 印度洋板块张裂的影响
C. 印度洋板块挤压的影响
D. 太平洋板块挤压的影响

(2)当地居民稳定的用电来源于

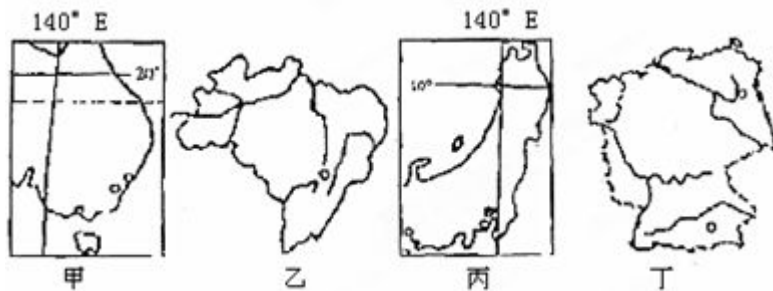
- A. 地热能 B. 风能
C. 水能 D. 太阳能

(3)7月份该半岛可能出现

- A. 冰川与岩浆相映 B. 极昼
C. 成群的企鹅 D. 台风



19.读四个国家示意图，据此完成下列各题。



(1)关于四国地理特征的叙述，正确的是

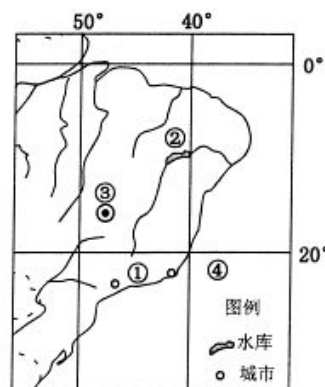
- A.乙丁两国耕地面积广阔 B.丙丁两国河流的水文特征相同
C.甲乙两东部沿岸有成因相同的气候类型分布
D.乙丁两国的人口和城市集中分布在国土的东南部

(2)关于四国城市的叙述，正确的是

- A.最大城市都是温带气候类型 B.首都都是本国最大城市
C.最大港口所临海域都受暖流影响 D.主要城市都分布在东南沿海

20.图1为“世界某地区图”，关于该地区的地理事象叙述正确的是

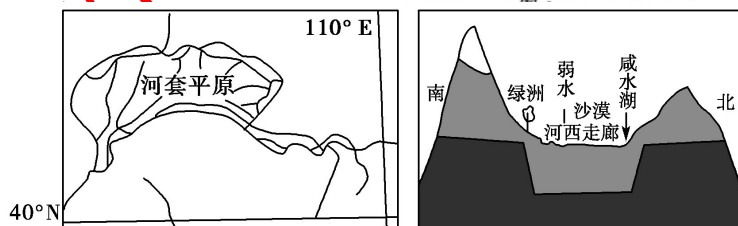
- A.①处沿海自然景观为热带雨林
B.②处水库1月份水量最小
C.③处城市年均温比东侧沿海高
D.④处海域有向北流的暖洋流



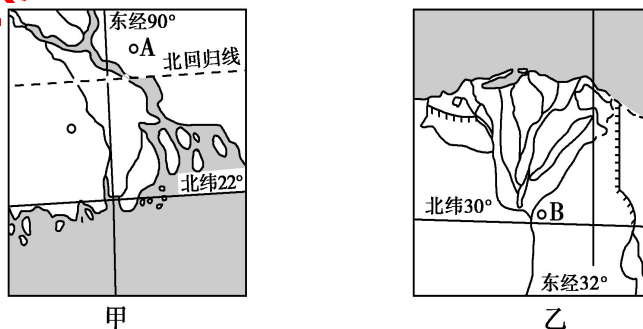
21.读图，据此完成下列各题。

两地农业发展的主要自然因素为

- A.地形
B.水源
C.热量
D.光照



22.读两个三角洲图，据此完成下列各题。



(1)关于两个三角洲自然地理状况的叙述，正确的是

- A.两地区全年盛行西南风 B.两地区气候形成原因相同
C.两地区的主要河流水量丰富 D.两地区以流水堆积地貌为主

(2)关于两个三角洲目前面临的主要气象灾害的叙述，正确的是

- A.甲地区易受风暴潮侵袭 B.乙地区常受台风影响
C.甲地区经常发生海啸 D.乙地区土壤盐渍化严重

(3)如果城市A、B利用当地原料发展工业，最适宜的工业部门依次是

- A.棉纺织工业、麻纺织工业 B.麻纺织工业、棉纺织工业



C. 水产品加工业、造纸工业 D. 电子工业、制糖工业

23. 下图示意挪威位置和地形。挪威是世界上水能资源开发较充分的国家，该国大型水电站多为高水头（电站水库水位与发电机组所在位置高差大）电站。据此完成下列各题。

(1) 挪威大型水电站多为高水头电站的主要原因是该国

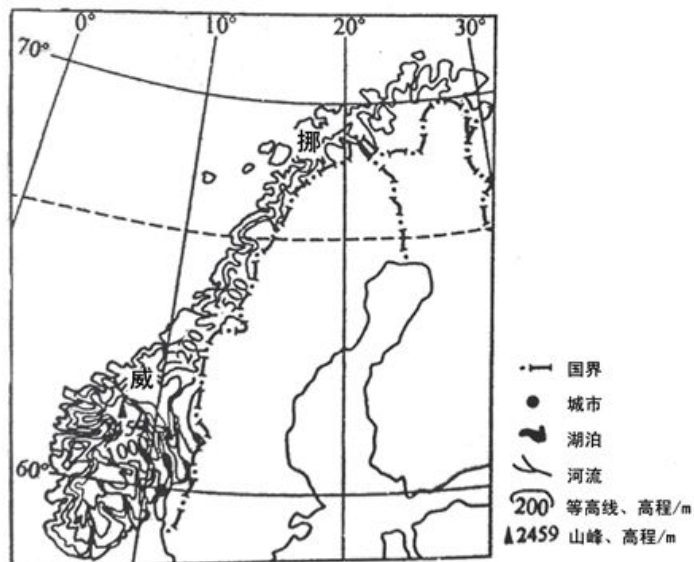
- A. 海岸线曲折，多峡湾
- B. 地形平坦，水网密布
- C. 多山地，河流落差大
- D. 河湖众多，少泥沙

(2) 挪威海岸线曲折，多峡湾的成因是

- A. 河流众多，流水侵蚀强烈
- B. 风浪大，海水侵蚀强烈
- C. 冰川作用强烈
- D. 断层发育

(3) 挪威消耗民用电最多的是

- A. 取暖 B. 制冷
- C. 照明 D. 烹饪



24. 全球陆地分为七个大洲，其中

- A. 跨纬度最广的是大洋洲
- B. 跨经度最广的是南极洲
- C. 跨南、北半球的是北美洲
- D. 跨东、西半球的是南美洲

25. 伊斯兰教、基督教和犹太教的圣城是 ()

- A. 麦加 B. 麦地那 C. 耶路撒冷 D. 伊斯坦布尔

26. 日本多火山地震主要是由于该国位于哪两个板块的交界处 ()

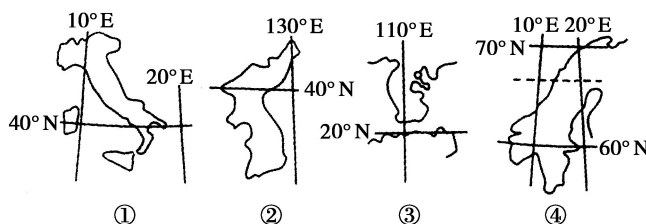
- A. 太平洋板块和印度洋板块
- B. 亚欧板块和美洲板块
- C. 美洲板块和太平洋板块
- D. 亚欧板块和太平洋板块

27.读某区域图，据此完成下列各题。



- (1) 影响该区域湖泊的形成因素是
A. 流水作用 B. 风力作用
C. 冰川作用 D. 内力作用
- (2) 甲地区的主要的农业地域类型是
A. 商品谷物农业 B. 乳畜业
C. 混合农业 D. 热带种植园农业
- (3) 甲地区主要的自然带是
A. 温带落叶阔叶林带
B. 亚寒带针叶林带 C. 亚热带常绿阔叶林带 D. 温带荒漠带

28.读下列“四个半岛略图”，据此完成下列各题。



- (1) 下列说法正确的是
A. 四个半岛均位于板块交界处，故多火山地震
B. 四个半岛均临海，故气候均属于温带海洋性气候
C. 半岛①河流汛期出现在夏季
D. 半岛④西侧多峡湾，是冰川侵蚀的结果
- (2) 有关四个半岛气候的叙述，正确的是
A. 半岛②南部为亚热带季风气候，北部为温带季风气候
B. 四个半岛均临海，故全年降水丰富
C. 半岛①南部为地中海气候，北部为温带海洋性气候
D. 半岛④的气候为亚寒带针叶林气候

29.比较图中五个亚洲国家，据此完成下列各题。



- (1) 位于东南亚的一组国家是
A. ①② B. ③④ C. ①⑤ D. ②③
- (2) 国家③与其他四个国家的气候特征相比，存在明显差异的原因主要是
A. 地形以高原为主，周围山脉环绕，地形闭塞 B. 远离海洋，缺湿润气流
C. 沙漠广布，缺乏植被 D. 地处热带，蒸发量大

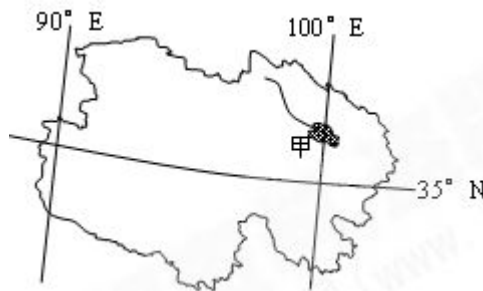
30. 图为我国某一省级行政区轮廓图，据此完成下列各题。

(1) 下列河流中，发源于该区域的是

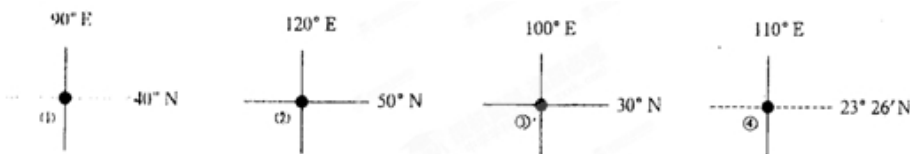
- A. 塔里木河 B. 雅鲁藏布江
C. 淮河 D. 长江

(2) 根据“因地制宜、合理布局”的原则，该省区最适宜发展的农业部门是

- A. 种植柑橘、荔枝等为主的林业
B. 种植水稻为主的耕作业
C. 饲养猪、鸡、鸭为主的畜牧业
D. 放养羊、马、牛为主的畜牧业



31. 读下图，据此完成下列各题。



(1) 下列有关图中数码代表的四个地点，所在省区简称的排序正确的是 ()

- A. 内蒙古、黑、滇、粤 B. 甘、辽、藏、闽
C. 新、内蒙古、川、桂 D. 新、甘、黑、粤

(2) 四地所在省区中与俄罗斯接壤的是 ()

- A. ①② B. ②③ C. ③④ D. ①④

32. 下列选项中，各大陆半岛与其所属大洲对应正确的是

- A. 亚平宁半岛—亚洲 B. 伊比利亚半岛—欧洲
C. 印度半岛—欧洲 D. 阿拉伯半岛—北美洲

33.

关于欧洲河流的叙述正确的是

- A. 经过国家最多的是莱茵河 B. 多瑙河自南向北注入北海
C. 西欧河流流量的季节变化大 D. 西欧河流的水量稳定，季节变化小

34. 下列湖泊，组合正确的是

- A. 死海——世界海拔最低的海 B. 贝加尔湖——世界最深的咸水湖
C. 里海——世界最大的咸水湖 D. 红海——世界盐度最高的咸水湖

35. 欧洲西部的地理特征有

- ① 世界上温带海洋性气候面积最大的地区 ② 地形以高原为主 ③ 河网密布，水量充沛 ④ 气候南北向差异大，东西向无明显差异
A. ①② B. ①③ C. ①④ D. ②③

36.图4为某区域某种自然资源储量和需求量关系图。据此完成下列各题。

(1)四地中资源储量最小，而需求量最大的是

- A、① B、②
C、③ D、④

(2)四地间该资源最有可能产生跨区域调配现象的是

- A、①→② B、④→①
C、③→④ D、②→③

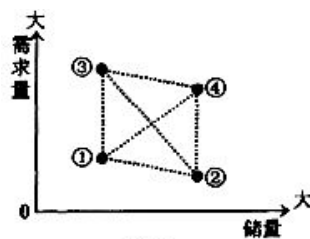


图4

37.有关“秦岭—淮河”一线南北两侧区域差异的叙述，正确的是

- A、秦岭—淮河以北耕地以旱地为主，主要粮食作物是水稻
B、秦岭—淮河以南耕地以水田为主，主要粮食作物是水稻
C、秦岭—淮河以北的典型植被是亚寒带针叶林
D、秦岭—淮河以南的植被主要是热带季雨林

38.位于我国中部经济地带，电力资源丰富，参与西电东送的省(区)是

- A、山西 B、青海 C、广西 D、四川

39.读下表，据此完成下列各题。

| 省 | 水田(千公顷) | 旱地(千公顷) |
|-----|---------|---------|
| 贵州省 | 768.4 | 1071.6 |
| 江西省 | 1946.8 | 361.6 |

(1)与江西省相比，贵州省耕地的结构特点及其原因是

- A.水田比重大——属季风气候，降水丰沛 B.水田比重大——位于外流区，河湖众多
C.旱地比重大——多喀斯特地貌，地表水少 D.旱地比重大——地处低纬地区，蒸发量大

(2)贵州省和江西省

- A.位于我国地势的第二级阶梯 B.分别属于长江流域和珠江流域
C.少数民族以壮族和回族为主 D.位于黑河—腾冲人口界线以东

40.“省区面积广大，山岭、盆地、湖泊众多，太阳辐射强度大，雨量偏少……”，这一描述的对象最可能是 () A.湖北省 B.云南省 C.江西省 D.西藏自治区

41.下列甲、乙两图为“世界两大三角洲略图”，据此完成下列各题。

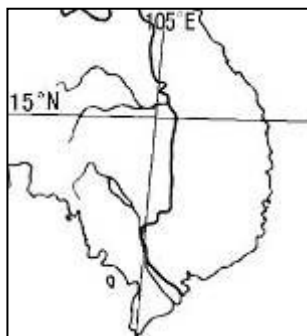
(1).甲、乙两地区自然地理特征相似的是

- ①河流汛期出现在夏季
②河流径流量大
③热量充足
④降水丰富

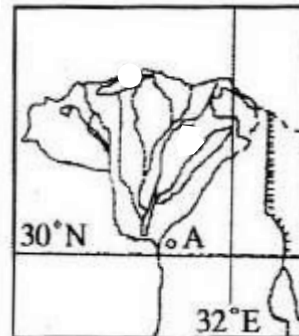
- A. ①② B. ②③

(2).下列关于甲、乙两地区人文地理特征的叙述，正确的是

- A.甲地居民大多为黄色人种
C.乙地粮食作物以水稻为主



甲



乙

(3).如果要充分利用当地优势资源发展加工工业，城市A最适宜发展的部门是

- A. 蔗糖加工业 B. 麻纺织工业 C. 水产品加工业 D. 棉纺织工业

42. 下列省区轮廓与其对应的简称不正确的是:



- A. ①
B. ②

- C. ③ D. ④

43. 甲、乙两地分别位于我国两大不同地形区中，根据下表所提供的两地相关资料，据此完成下列各题。

| 地区 | 经纬度 | 海拔 (m) | 1 月平均气温 (°C) | 7 月平均气温 (°C) |
|----|------------|--------|--------------|--------------|
| 甲 | 113°E、28°N | 68 | 4 | 32 |
| 乙 | 102°E、25°N | 1891 | 7.7 | 19.8 |

- (1) . 甲、乙两地同属于
A. 温带季风气候 B. 亚热带季风气候 C. 温带大陆性气候 D. 地中海气候
- (2) 甲、乙两地所在的地形区分别是
A. 成都平原、云贵高原 B. 黄土高原、华北平原
C. 洞庭湖平原、云贵高原 D. 四川盆地、青藏高原

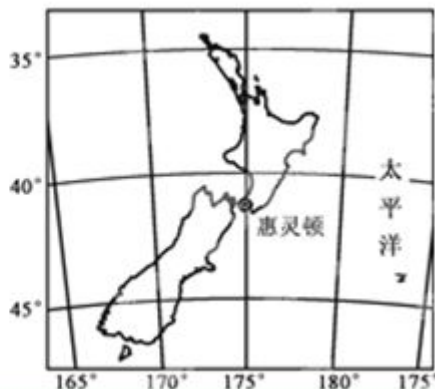
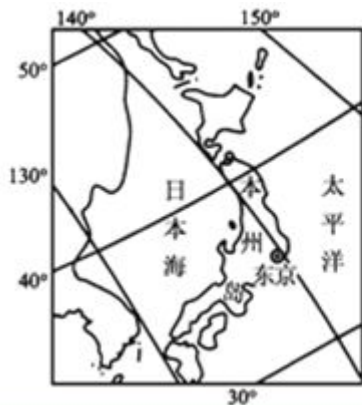
44. 读下图，据此完成下列各题。



- (1) 有关图中两山脉附近地区自然地理要素的叙述，正确的是
A. 甲、乙两山脉都属于断块山脉 B. 甲山脉西坡降水量大于东坡，乙山脉东坡降水量大于西坡
C. 甲、乙两山脉的西侧都有地中海气候分布 D. 甲、乙两山脉以东的河流均有结冰期
- (2) 有关①、②两地所在国家的正确叙述是
A. 两国最大的城市均是本国的政治和经济中心 B. 两国都属于发展中国家
C. ①地所在国家是世界上出口羊毛最多的国家 D. ②地所在国家大豆出口量居世界首位



45.读下面两幅图，据此完成下列各题。



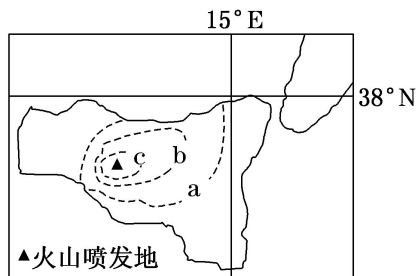
- (1) 日本与新西兰的地理特征相比，下列叙述正确的是
- A. 所处的南北半球不同，但都位于东半球 B. 两国的气候都具有海洋性特征
- C. 两国均以平原地形为主 D. 日本的面积小于新西兰
- (2) 2011年2月22日新西兰发生里氏6.3级地震。3月11日日本东部附近海域发生9.0级地震。两国多地震的共同原因是
- A. 均位于太平洋板块的西部 B. 均位于亚欧板块东部边界
- C. 均位于地壳活跃地带 D. 均位于板块的生长边界

46.近年来我国已成为石油净进口国，若从波斯湾将原油运至上海港，循最近的航线要依次经过

- A. 霍尔木兹海峡、曼德海峡、马六甲海峡 B. 曼德海峡、马六甲海峡、台湾海峡
- C. 马六甲海峡、霍尔木兹海峡、琼州海峡 D. 霍尔木兹海峡、马六甲海峡、台湾海峡

47.下图中的虚线为某岛火山喷发后火山灰厚度等值线，且 $a < b < c$ 。读图，据此完成下列各题。

- (1) 该火山喷发的季节最有可能是
- A. 春季 B. 夏季
- C. 秋季 D. 冬季
- (2) 下列关于该岛的叙述正确的是
- ①适宜生产柑橘、葡萄 ②终年温和多雨
- ③雨热同期 ④植被具有耐旱特征
- A. ②④ B. ②③ C. ①④ D. ③④

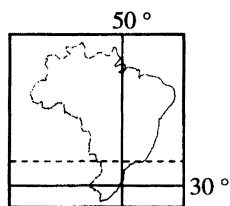


48.环绕南极洲的大洋，在南极上空看，逆时针方向自南极半岛开

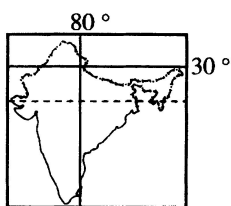
始的依次是

- A. 太平洋、印度洋、大西洋 B. 太平洋、大西洋、印度洋
- C. 印度洋、太平洋、大西洋 D. 大西洋、印度洋、北冰洋

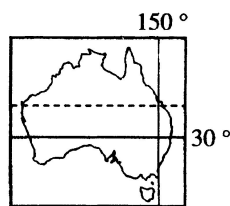
49.读下图，据此完成下列各题。



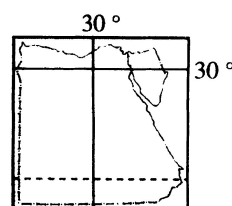
甲



乙



丙



丁

(1) 上述四幅图中，比例尺最大的一幅是

- A. 甲 B. 乙 C. 丙 D. 丁

(2) 在图示四国中，都有回归线穿过，其中没有沙漠分布的国家是

- A. 甲 B. 乙 C. 丙 D. 丁

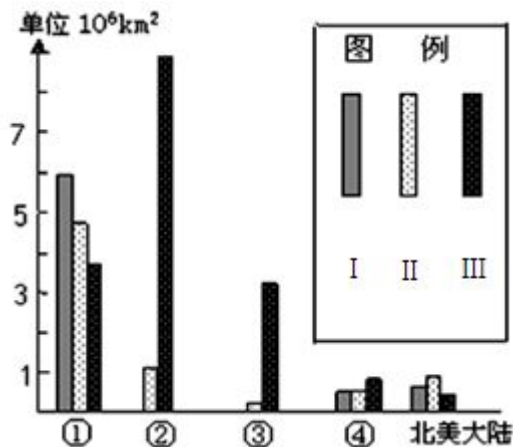
50. 世界荒漠主要有热带、亚热带、温带三种类型，图为世界各大陆荒漠构成状况图。据此完成下列各题。

(1) 代表南美大陆及其南部高原荒漠所属类型的序号分别是

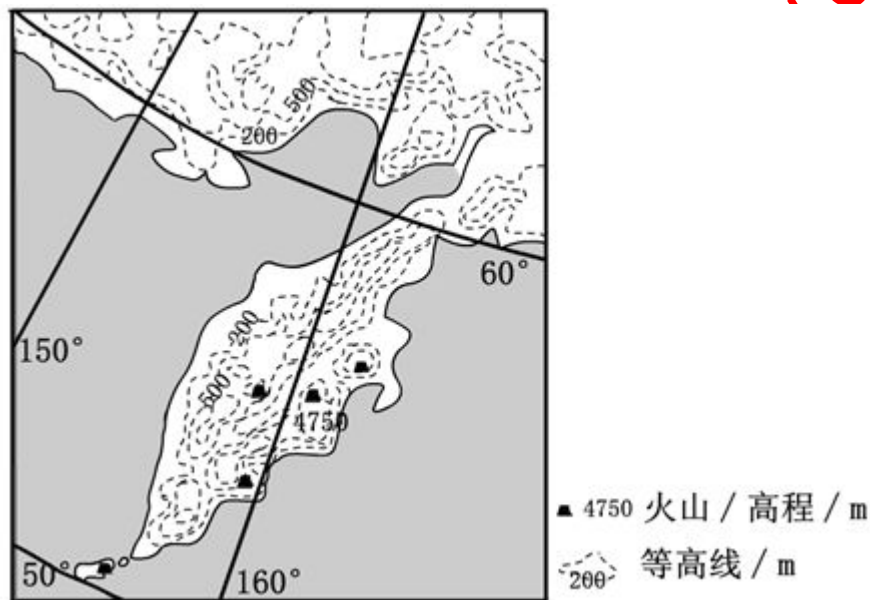
- A. ③ III B. ① III C. ② II D. ④ I

(2) ①④两大陆 I 类荒漠成因各异，产生差异的主要因素是

- A. 大陆面积和轮廓
B. 过度放牧和樵采
C. 纬度位置和垦耕
D. 海陆位置和地形



51. 图为某半岛地形图。读图，据此完成下列各题。。



(1) 该半岛火山活动频繁，是因为受到

- A. 太平洋板块张裂的影响 B. 太平洋板块挤压的影响
C. 印度洋板块挤压的影响 D. 印度洋板块张裂的影响

(2) 当地居民稳定的用电来源于

- A. 风能 B. 水能 C. 太阳能 D. 地热能

(3) 7 月份该半岛可能出现

- A. 极昼 B. 台风 C. 成群的企鹅 D. 冰川与岩浆相映

52. 关于亚洲地形与河流的叙述，正确的是

- A. 地势平坦，起伏不大 B. 河流水系呈放射状向四周流入海洋
C. 地势中间低，四周高 D. 大多数河流由于受地形影响流程较短

53. 读图，图中是海洋上的一个岛屿，a 和 b 分别表示两条纬线，据此完成下列各题。



a

- (1)若 a 和 b 分别表示赤道和北回归线，那么关于甲乙两地气候和自然带说法正确的是（ ）
- A. 甲地的气候可能是热带草原气候 B. 乙地的气候可能是热带沙漠气候
- C. 甲地的自然景观可能是热带雨林 D. 乙地的自然景观可能是亚热带常绿硬叶林
- (2)若 a 和 b 分别表示北纬 40°和北纬 60°，岛屿以东不远就是一片大陆，则（ ）
- A. 甲地可以种植甘蔗 B. 乙地主要从事粮食种植
- C. 岛屿的最高峰能终年看到积雪 D. 仅考虑盛行风向，甲地沿岸更适合建设港口

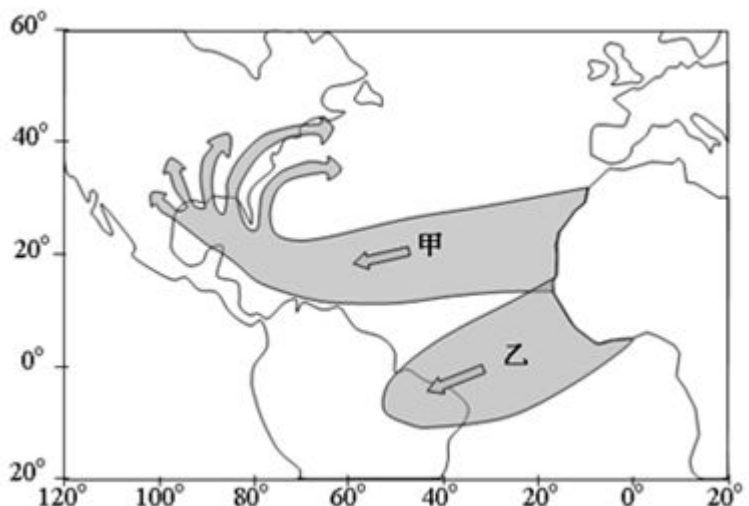
54. 在帕米尔高原的那一边，有着中亚唯一的内陆高山国家——塔吉克斯坦。该国拥有整个中亚地区 60% 的水资源，境内山地和高原约占 90%，其中约一半在海拔 3 000 米以上，有“高山国”之称。读下图据此完成下列各题。

- (1) 该国拥有数千湖泊、河流、美丽的瀑布，大部分河流注入
- A. 巴尔喀什湖 B. 咸海 C. 里海 D. 贝加尔湖
- (2) 杜尚别坐落在吉萨尔盆地中，走进杜尚别会发现建筑物大多以平房为主。首都杜尚别形成的主要区位因素和建筑物以平房为主的原因分别是
- A. 河流、防山洪暴发
- B. 矿产资源、减少风沙侵袭
- C. 地形、防震
- D. 政治因素、地质构造复杂



55. 读世界局部区域不同时间沙尘空间分布图，据此完成下列各题。

- (1)造成该区域沙尘扩散的主要因素是
- A. 副热带高压 B. 信风
- C. 西风 D. 季风
- (2)当沙尘扩散如甲所示时，最可能的时间是
- A. 1 月 B. 4 月
- C. 7 月 D. 10 月



56.读图“某河流干流和流域范围示意图”，据此完成下列各题。

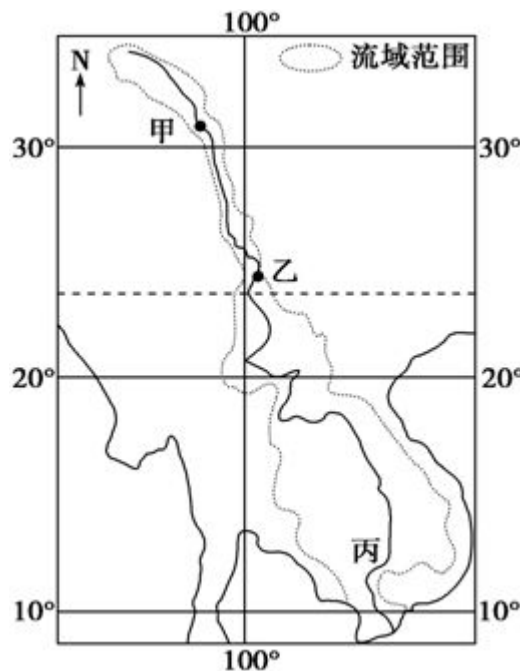
(1)图中河流的甲—乙河段流域范围非常狭窄，其主要原因是

- A. 泥沙淤积使河床过高，支流难以汇入
- B. 河流两岸被高山束缚，山高谷深
- C. 上游气候寒冷干燥，支流稀少
- D. 河流落差大，水流湍急

(2)该河流中、下游平原是重要农业区，影响其农业生产优势的社会经济条件是

- ①人口稠密，劳动力充足
- ②水、陆交通发达，便于粮食大量出口
- ③历史悠久，种植经验丰富
- ④地广人稀，土地租金低
- ⑤科技发达，机械化水平高
- ⑥人多地少，粮食需求量大

- A. ①②④ B. ①③⑥ C. ②④⑤ D. ③⑤⑥



57.下列水利工程中，主要用来解决水资源年内分配不均、年际变化大问题的是

- A. 南水北调 B. 引滦入津 C. 引黄济青 D. 修建三峡水库

58.青藏高寒区农作物分布在河谷中的最主要的自然原因是

- A. 河谷地区土壤肥沃
- B. 河谷地区气温较高，热量条件较好
- C. 河谷地区人口稠密，劳动力多
- D. 河谷地区有丰富的水资源

59.决定我国自然地理环境差异的两个基本因素的是

- A. 土壤和植被 B. 气候和地貌 C. 水文和土壤 D. 植被和水文

60.长江流域和珠江三角洲经济区两个区域划分的标准是

- A. 自然指标 B. 经济指标 C. 综合指标 D. 单一指标

61.建国以来，黑龙江三江平原丧失了大量天然沼泽，保护该区域湿地的有效措施是

- A. 封山育林 B. 商业开发 C. 疏浚河道 D. 退耕还湿

62.“西气东输”工程中天然气的主要来源地是

- A. 柴达木盆地 B. 准噶尔盆地 C. 塔里木盆地 D. 四川盆地

63.在高效益的综合发展阶段，三次产业的比重由大到小依次是：

- A. 321 B. 231 C. 213 D. 312



64.读图据此完成下列各题。

(1)B 国地形自北向南依次是 ()

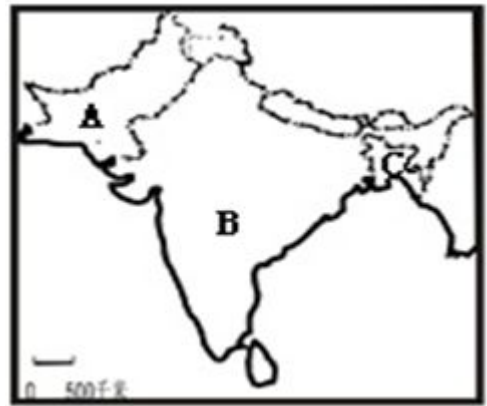
- A.山地、高原、盆地 B.山地、平原、高原
C.高原、山地、平原 D.山地、平原、盆地

(2)关于 A、B 两国正确的说法的是 ()

- A.A、B 两国间矛盾冲突激烈的历史原因是淡水之争
B.A 国是以山地为主的国家
C.B 国南部与同纬度地区相比,气温偏高的原因主要是受北部山地的阻挡
D.东南季风的强弱,易使 B 国造成洪涝或干旱

(3)下列说法正确的是 ()

- A.C 国地处亚欧板块 B.流经 A 国的主要河流是印度河
C.某一河流源于我国,流经 B 国,在 C 国入海 D.B 国是亚洲耕地面积,人口密度最大的国家



65.中国积极加强同周边国家的合作,以谋求共同发展。“上海合作组织”就是一个成功的范例。结合下图据此完成下列各题。

(1)下列“上海合作组织”成员国中,不与我国接壤的是

()

- A.哈萨克斯坦 B.乌兹别克斯坦
C.吉尔吉斯斯坦 D.塔吉克斯坦

(2)图中 L 湖泊是()

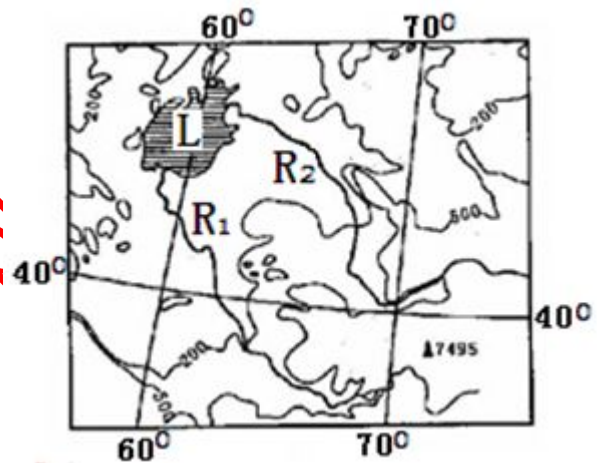
- A.里海 B.死海 C.咸海 D.巴尔喀什湖

(3)图示区域主要气候类型是()

- A.温带季风气候 B.温带大陆性气候
C.热带沙漠气候 D.热带季风气候

(4) R1 的名称是()

- A.阿姆河 B.锡尔河 C.额尔齐斯河 D.伊犁河



66.下列国家中,均与印度接壤的有 ()

- A.斯里兰卡、老挝、阿富汗 B.巴基斯坦、孟加拉国、中国
C.尼泊尔、不丹、斯里兰卡 D.柬埔寨、孟加拉国、缅甸

67.下列关于新加坡的叙述,错误的是 ()

- A.不位于马来半岛上 B.经济主要靠对外贸易、航运、加工工业和旅游业收入
C.位于马六甲海峡东口 D.农业侧重高度机械化

68.下列城市(首都)与河流组合正确的是 ()

- A.河内-湄南河 B.金边-湄公河 C.万象-红河 D.仰光-萨尔温江

69.马来西亚、菲律宾、印度、泰国的主要出口农产品依次是 ()

- A.棉花、茶叶、蕉麻、天然橡胶 B.天然橡胶、蕉麻、茶叶、稻米
C.椰子、茶叶、稻米、棉花 D.胡椒、金鸡纳霜、木棉、棉花

70.关于印度主要农作物分布的正确叙述是 ()

- A.棉花在恒河三角洲 B.水稻在恒河平原



C.棉花在德干高原东北部 D.茶叶在布拉马普特拉河两岸

71.亚洲流经国家最多的河流是（ ）

A.印度河 B.黑龙江 C.湄公河 D.幼发拉底河

72.中亚离海最近的地方是（ ）

A.土库曼斯坦南部 B.哈萨克斯坦北部 C.哈萨克斯坦东部 D.土库曼斯坦西部

73.日本和印度尼西亚两国共同的地理特征是（ ）

A.群岛国家 B.两国多地震，但日本无火山 C.季风气候显著 D.盛产稻米和天然橡胶

74.日本本州岛沿海的工业中心，从东向西依次是（ ）

A.东京、横滨、名古屋、大阪、神户 B.横滨、东京、名古屋、神户、大阪
C.东京、横滨、大阪、名古屋、神户 D.名古屋、东京、横滨、大阪、神户

75.亚洲东部和南部的冬季风和夏季风分别来自（ ）

A.亚欧大陆和太平洋、北冰洋 B.亚欧大陆和太平洋、印度洋
C.北美大陆和太平洋和印度洋 D.非洲大陆和大西洋、印度洋

76.依靠良好的水运条件和丰富的劳动力资源发展出口加工工业，推动本国经济发展的国家是（ ）

A.沙特阿拉伯 B.中国 C.新加坡 D.印度

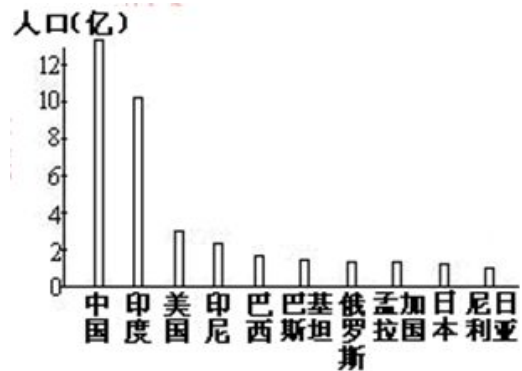
77.读“世界人口超过 1 亿的国家”图，据此完成下列各题。

(1)在人口过亿的国家中，全部属于亚洲的一组是（ ）

A.印度、美国、日本
B.巴基斯坦、孟加拉国、印度尼西亚
C.中国、巴西、尼日利亚
D.俄罗斯、印度、韩国

(2)造成世界，特别是亚洲环境问题的根本原因是（ ）

A.人口过多 B.资源短缺
C.经济落后 D.生态平衡破坏



影响

78.亚洲东部、南部是典型的季风气候，其对下列各项最大的是（ ）

A.农业 B.工业 C.商业 D.交通

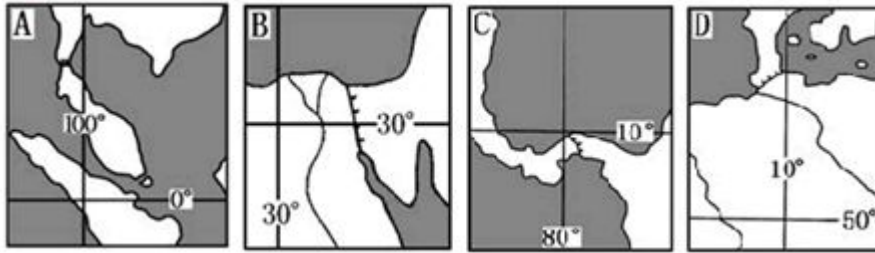
79.世界上降水最多被称“世界的雨极”的地方（ ）

A.奥伊米亚康 B.阿齐济耶 C.乞拉朋齐 D.阿塔尔马沙漠



- 80.世界上最深和最大的湖泊分别是()
A.贝加尔湖、里海 B.贝加尔湖、地中海
C.贝加尔湖、苏必利尔湖 D.贝加尔湖、死海
- 81.与亚洲在陆地上接壤的大洲是()
A.非洲 B.北美洲 C.欧洲 D.大洋洲
- 82.东北地区不是我国重要的()
A.商品粮基地 B.林业生产基地 C.畜牧业生产基地 D.商品棉基地
- 83.下面植被最稀疏的地区是()
A.东南亚地区 B.刚果河流域 C.埃塞俄比亚高原 D.东非高原
- 84.根据“因地制宜”的方针,下列地区与应种植农作物搭配正确的一组是()
A.山东半岛-水稻、花生、橡胶 B.四川盆地-甘蔗、水稻、甜菜
C.洞庭湖平原-春小麦、油菜、水稻 D.松嫩平原-春小麦、大豆、甜菜
- 85.与长江中下游平原农业有关的叙述,正确的是()
A.全国最重要的小麦、玉米产区 B.粮食种植业精耕细作
C.与东北平原相比,更利于大型农业机械化操作
D.人口多,粮食消费量大,长期以来需要从区域外调入粮食
- 86.下列不属于山西省主要产业链的是
A. 煤—电—铝 B. 煤—电—铜 C. 煤—焦—化 D. 煤—铁—钢
- 87.长江三角洲和松嫩平原在地理位置方面的共同点是
A.都临近海洋 B.都处于大河的入海口 C.同属于亚热带 D.同在北半球的中纬度地区
- 88.我国西气东输工程主干管道没有经过的省区是
A. 甘肃 B. 宁夏 C. 湖北 D. 安徽
- 89.田纳西河开发的核心环节是
A. 发电 B. 防洪 C. 养殖 D. 梯级开发
- 90.欧洲和非洲的分界线是
A. 直布罗陀海峡 B. 苏伊士运河 C. 白令海峡 D. 马六甲海峡
- 91.下列哪个大洲既位于北半球又位于西半球
A. 亚洲 B. 非洲 C. 北美洲 D. 南美洲
- 92.赤道穿过的大洲中,面积最大的是
A.亚洲 B.非洲 C.大洋洲 D.南美洲

93. 下图代表巴拿马运河的是



94. 四大洋按面积由大到小排列正确的是

- A. 北冰洋、印度洋、大西洋、太平洋 B. 太平洋、大西洋、印度洋、北冰洋
C. 北冰洋、大西洋、印度洋、太平洋 D. 太平洋、印度洋、大西洋、北冰洋

95. 据右图，据此完成下列各题。

(1) 下列依次对应①②③④四大洋的名称的是

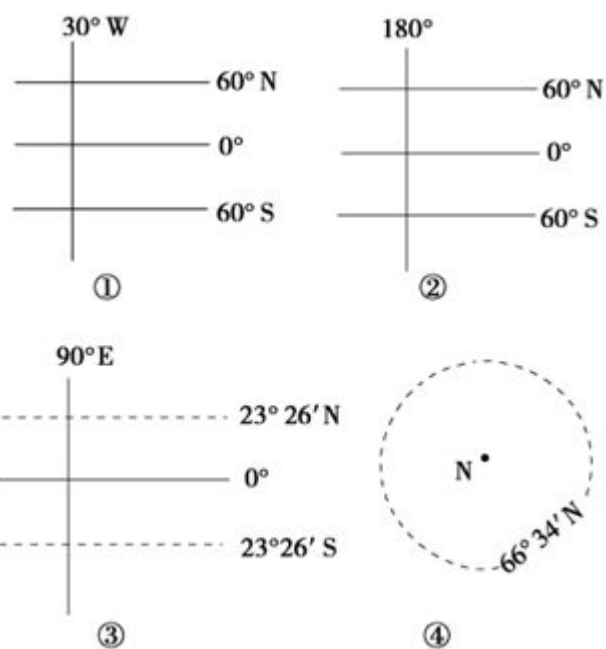
- A. 大西洋，印度洋，北冰洋，太平洋
B. 大西洋，太平洋，印度洋，北冰洋
C. 太平洋，大西洋，印度洋，北冰洋
D. 印度洋，北冰洋，太平洋，大西洋

(2) 连接②③两大洋之间最短的海上通道是

- A. 巴拿马运河 B. 白令海峡
C. 马六甲海峡 D. 直布罗陀海峡

(3) 海运最为繁忙和全球台风发生频率最高、强度最大的大洋分别是

- A. ① ② B. ② ③
C. ① ③ D. ③ ④



96. 四大洋中，跨经度最多的是

- A. 太平洋 B. 大西洋 C. 印度洋 D. 北冰洋

97. 2014 年的世界杯足球赛和 2016 年的奥运会将在巴西的里约热内卢举行。巴西所在的大洲是

- A. 非洲 B. 欧洲 C. 南美洲 D. 北美洲

98. 除南极洲外，其他大洲的位置具有两大洲南北对称分布的特点。其中，与亚洲对称分布的大洲是

- A. 大洋洲 B. 非洲 C. 北美洲 D. 南美洲

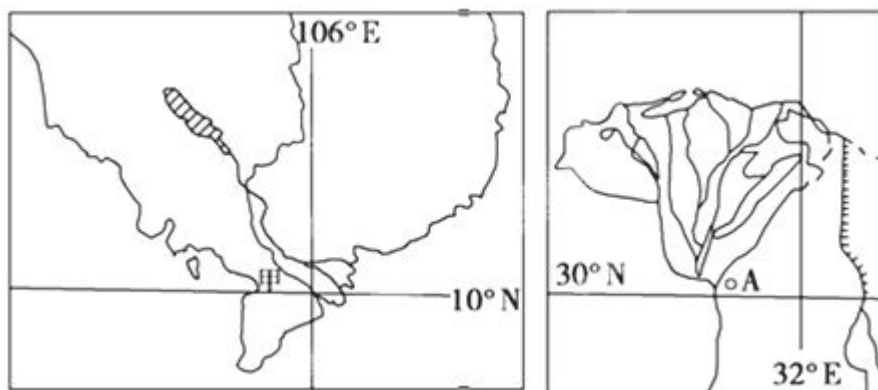
99. 世界上最大的大陆是

- A. 非洲大陆 B. 南极大陆 C. 亚欧大陆 D. 北美大陆

100. 下列各组大洲中大陆均为北回归线穿过的是

- A. 亚洲 欧洲 南美洲 B. 亚洲 欧洲 北美洲
C. 非洲 亚洲 北美洲 D. 非洲 大洋洲 北美洲

101. 下图为世界某两条大河的三角洲略图。据此完成下列各题。



(1)关于甲、乙两个三角洲自然地理状况的叙述，正确的是

- A. 两地区全年盛行西南风 B. 两地区以流水堆积地貌为主
C. 两地区的主要河流水量丰富 D. 两地区气候形成原因相同

(2)两三角洲所在地区的叙述，正确的是

- A. 乙地为季风气候 B. 甲地农作物以小麦为主 C. 甲地多洪涝灾害 D. 乙地居民多为黑色人种

(3)如果城市 A 利用当地原料发展工业，最适宜的工业部门是

- A. 电子工业 B. 麻纺织工业 C. 水产品加工业 D. 棉纺织工业

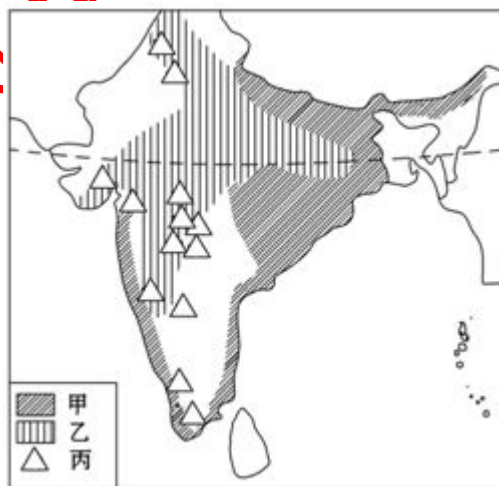
102. 下图代表南亚三种主要农作物的分布图。读图，据此完成下列各题。

(1)若其代表水稻、棉花、小麦的分布，则正确的顺序为

- A. 甲、乙、丙 B. 甲、丙、乙
C. 乙、甲、丙 D. 乙、丙、甲

(2)造成三种农作物分布差异的主要因素是

- A. 地形 B. 土壤
C. 降水 D. 热量



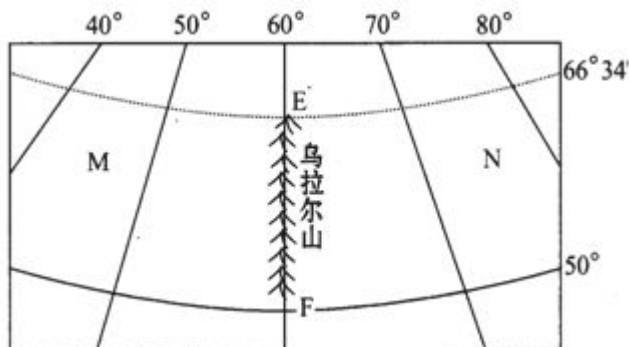
103. 读右图，EF 沿线为大洲分界线，据此完成下列各题。

(1) N 地的地表特征表现为

- A. 地面起伏大，多山地丘陵
B. 地势低平，多沼泽地
C. 森林广布，树种丰富多样
D. 沙漠广布，以内流河为主

(2) 图示国家是世界四大粮食生产国之一，但有时仍需进口粮食的原因是

- A. 耕地面积少
B. 人多地少
C. 纬度高，热量不足，农作物产量不稳定
D. 水源短缺



104.右图为欧洲部分地区略图，图中四条线是重要的地理界线。据此完成下列各题。

(1) 哪一条界线可能是1月0℃等温线？影响其分布的主要因素是

- A. 甲；盛行风、洋流 B. 乙；纬度、地形
C. 丙；经度、地形 D. 丁；盛行风、纬度

(2)“这里地质活动活跃，石灰岩层受板块挤压而变质成大理石”，此叙述所指的地区，可能接近的界线是

- A. 甲 B. 乙 C. 丙 D. 丁



105.适宜种植春小麦、甜菜的商品粮基地是

- A. 华北平原 B. 松嫩平原 C. 江淮平原 D. 辽河平原

二、综合题

106.读图“北部湾经济圈示意图”及相关资料，回答下列问题。（5分）

资料：北部湾经济圈包括广西壮族自治区、广东省、海南省的沿北部湾区域，是我国重要的沿海经济圈之一。

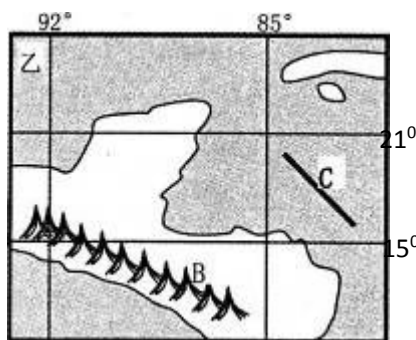
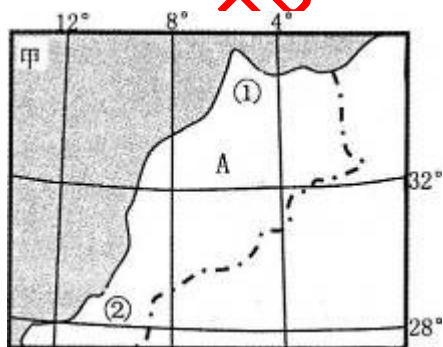
(1) 北部湾经济圈所在区域的主要矿产资源有_____、_____等。

(2) 南宁市发展炼铝工业的优势区位条件有_____、_____、_____等。



图例
—— 国界 --- 省界 铁路 ○ 城市
■ 煤矿 ▲ 石油 ▲ 铁矿 ◎ 省级行政中心
△ 铝土矿 ☀ 水电站 ■ 锰矿

107.读世界两区域图，完成下列问题。（14分）

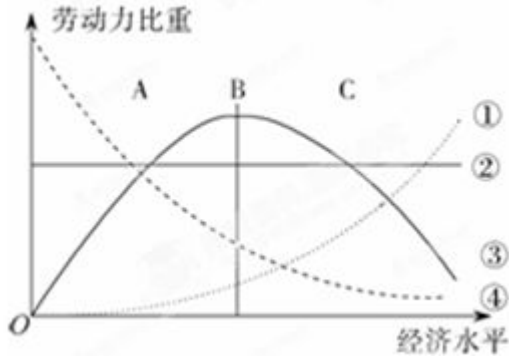


(1)对比分析甲、乙两图比例尺的大小，简要说明A国的地理位置特征。（4分）

(2)比较A所在国家①、②两地气候特征的不同点及成因。（4分）

(3)说明B山脉两侧不同的气候类型并分析造成差异的原因（6分）

108.读某区域经济水平与劳动力分布示意图。回答下列问题。



- (1) 图中正确表示第一产业劳动力分布变化的曲线是_____；正确表示第二产业劳动力分布变化的曲线是_____；正确表示第三产业劳动力分布变化的曲线是_____。
- (2) 在 A 阶段该区域经济结构如何变化：_____，理由是_____，
此阶段该区域往往作为产业转移的_____地，_____密集型、_____密集型产业类型所占比重较高，
对其自然地理环境的影响是_____。

109.印度尼西亚是世界最大的群岛国家，河流众多而短小，渔业资源丰富。根据下列材料，结合所学知识，完成下列问题。

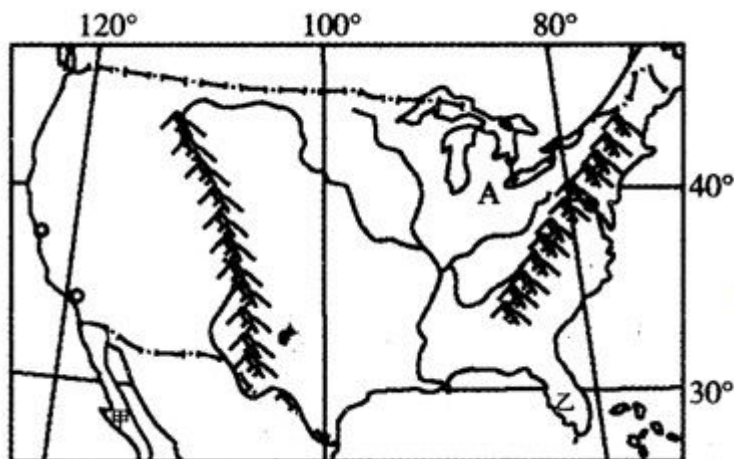
材料一 印度尼西亚地理位置示意图



材料二 爪哇岛地处板块边界上，北部是平原，南部是熔岩高原和山地，山间多宽广盆地，是世界上雷雨最多、土壤最肥沃、人口密度最高的地区之一。

- (1) 爪哇岛附近海域是世界上发生_____、_____灾害频率最高的地区之一，这些灾害有可能引发破坏性极大的海啸。(2分)
- (2) 爪哇岛是世界上雷雨最多的地区之一，其原因是什么？(3分)
- (3) 分析印度尼西亚渔业资源丰富的自然原因。(3分)
- (4) 简述爪哇岛种植业可持续发展的主要措施。(3分)

110.(12分)读某区域图,回答问题。

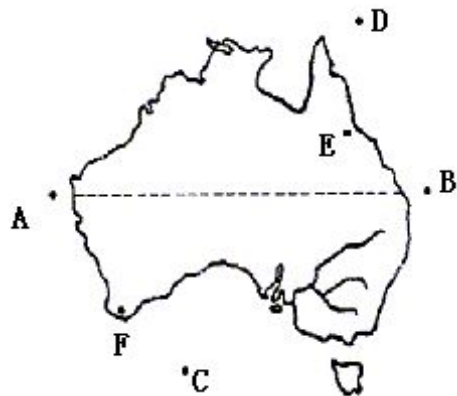


- (1) 图中加利福尼亚半岛(甲)与佛罗里达半岛(乙)的纬度位置大致相同,试比较它们的气候特点和成因差异。(6分)
- (2) 试分析图中 A 区域耕作业不如畜牧业发达的原因。(6分)

111.略

112.读右图,回答问题 (10分)

- (1) A、B、C 三个海域中,海水温度最高的是_____。(2分)
- (2) 在 A、B、C 处绘制洋流方向,(用“—>”表示暖流,用“--->”表示寒流)。(3分)
- (3) E 处的气候类型是_____,简述其成因。(5分)



113.图 11 为“两区域略图”,读图完成下列问题。(21分)

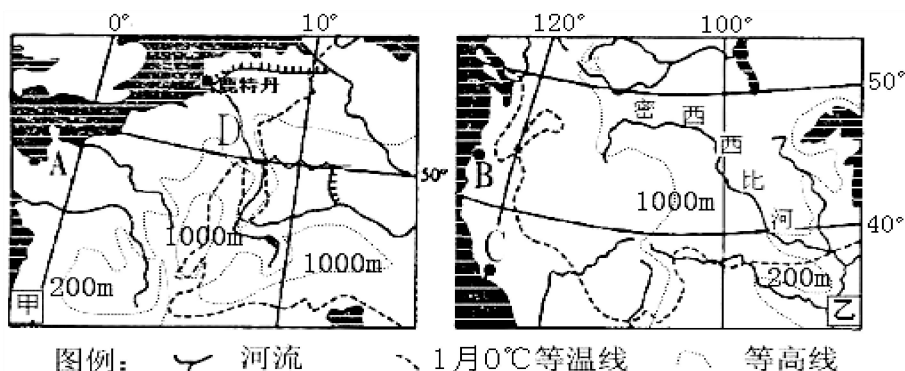


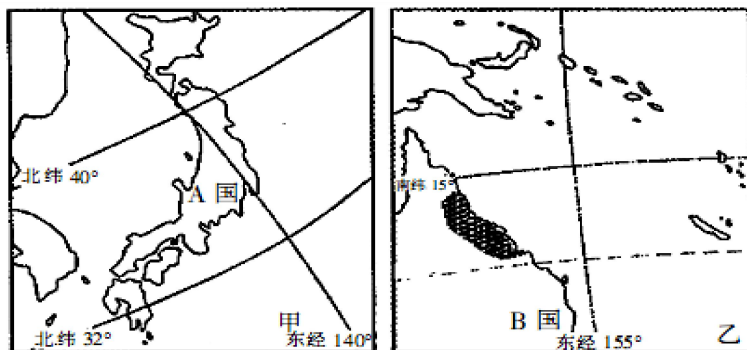
图 11

- (1) 说出 A、B 两地地理位置的共同点。(4分)

(2) 说明 C 地气候对农业生产的影响。(8 分)

(3) 阐述自然条件对 D 河中下游河段航运业的有利影响。(9 分)

114. (13 分) 读太平洋中两区域示意图, 回答下列问题。



(1) (4 分) A 国的气温年较差比中国_____主要原因是_____。

(2) (4 分) A 国矿产资源缺乏, 但有丰富的水力资源, 请具体分析 A 国水力资源丰富的原因。

(3) (5 分) 说出 B 国阴影区域的气候类型及成因。

115. 阅读下列资料, 回答问题。(15 分)

红水河是珠江流域西江水系的上游干流河段, 其上游称南盘江。红水河流域水能资源丰富, 已先后建成大化、恶滩、天生桥二级(低坝)、盐滩、天生桥一级(高坝)、白龙滩等 6 个电站, 为华南、西南电网输入了大量的优质电能, 有效地改善了华南、西南电网的供电量和效益, 并拉开了华南电网“西电东送”的序幕。全流域装机容量最大、调节性能最好的关键性、控制性骨干枢纽——龙滩电站, 主体工程也已于 2001 年 7 月 1 日正式开工建设, 其规划装机总容量 540 万千瓦。龙滩水电站的建设, 标志着红水河这一中国水能“富矿”的开发利用步入新的阶段。

(1) 红水河流域水能资源丰富的主要原因是(2 分):

(2) 红水河流域水电基地的建设对当地经济有何影响?(2 分)

(3) 在我国“西电东送”的总体规划中, 红水河流域的水电主要输往_____地区, 对该地区会产生哪些影响?(3 分)

(4)以红水河水电基地与山西能源基地为例,说明水电基地与煤炭能源基地在区位选择上的差异和对环境的影响。(8分)

区位选择上的差异: _____

对环境的影响: _____

116.读亚洲局部图,回答下列问题:

(1)如果①和②表示两种自然带:

则①_____带,

②_____带

其大致分界线是: _____

(2)如果③和④表示两种气候类型:

则③_____气候,

④_____气候

(3)与①形成相同自然带的气候

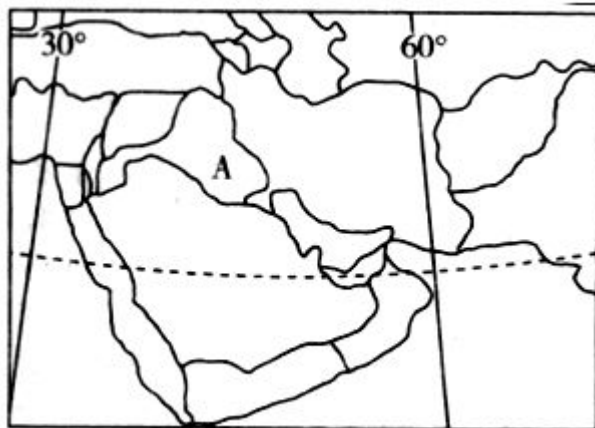
类型是_____,主要分布的大洲

有_____ (2个以上)

(4)图中④→③→②→①自然带的更替,体现的是_____变化规律,主要受_____因素的制约。



117.下图是世界某局部区域图,读图回答下列问题。



(1)该区域的_____资源集中分布在_____及其沿岸地区,主要运往_____、_____和日本等地。

(2)该地处亚、非、欧三洲交界地带,周边有许多重要的交通和战略要地。其中_____海峡扼守主要产油区石油运输重要通道的出口处,曼德海峡是_____海通往印度洋的咽喉要塞。

(3)丰富的石油资源带动了该区域大部分地区的发展,除产油国外,有些国家获得巨大经济效益的途径是_____、_____、_____等。

(4)该区域的气候特点是_____,原因在于这里常年受_____控制,所以,_____资源是当地经济发展主要的限制性因素,当地主要发展了_____农业,图中A国的_____平原是人类文明的发源地之一。

118.读图 21 和表 1 资料,回答下列问题。

表 1 A 城、北京降水资料((单位: mm)

| | 1 | 2 | 3 | 4 | 5 | 6 | 7 | 8 | 9 | 10 | 11 | 12 |
|-----|------|------|------|------|------|------|------|------|------|------|------|------|
| A 城 | 78.0 | 51.0 | 61.0 | 54.0 | 55.0 | 57.0 | 45.0 | 56.0 | 68.0 | 73.0 | 77.0 | 79.0 |

| | | | | | | | | | | | | |
|----|-----|-----|-----|------|------|------|-----|-----|------|------|-----|-----|
| 北京 | 2.6 | 5.9 | 9.0 | 26.4 | 28.7 | 70.7 | 175 | 182 | 48.7 | 18.8 | 6.0 | 2.3 |
|----|-----|-----|-----|------|------|------|-----|-----|------|------|-----|-----|

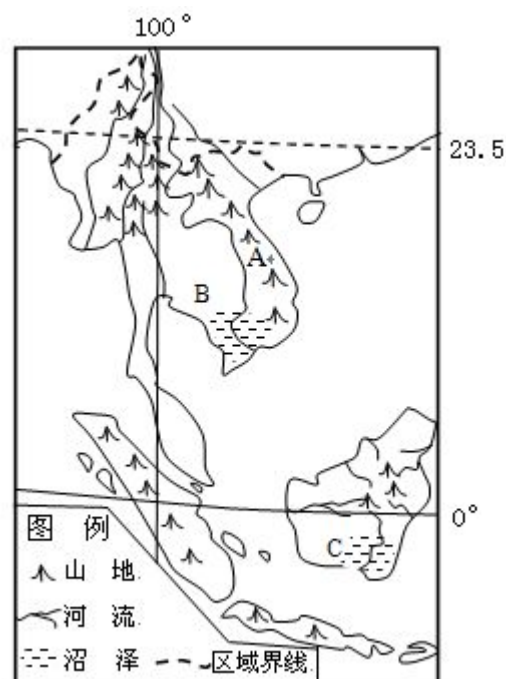
- (1)说明甲国图示区域的地势特征，并说出判断依据。(2分)
- (2)读表1比较A城与北京降水差异及主要原因。(5分)
- (3)若北京有一批游客沿最短航线飞往A城，请说出其飞行方向。(2分)
- (4)甲国是重要的小麦出口国，简要分析小麦生产的有利条件。(3分)



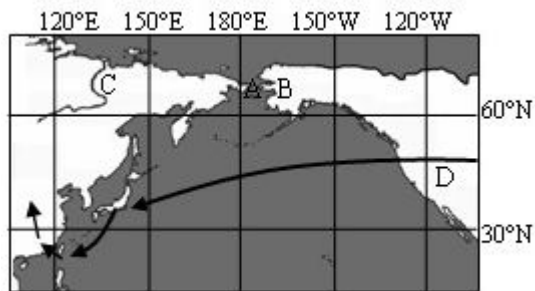
图 21

119.图 为世界某区域简图，读图完成下列问题。

- (1)说明A河流下游（与上游相比）主要的水文特征；说出该河流上下游主要外力作用的差异。(4分)
- (2)说出B处最重要的农业地域类型，并简要分析其主要的自然区位因素。(4分)
- (3)分析说明C处多沼泽的原因。(2分)

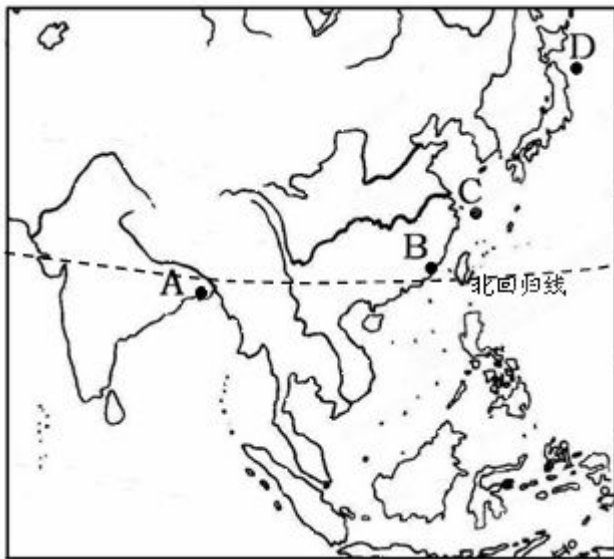


120. 下图为世界某区域示意图。读图完成下列问题。（10 分）



- (1) 海峡 A _____（名称）是大洲界线，其沿岸地区 B 属于 _____（国家）。
- (2) 判断 C 河流北段的大致流向是 _____，决定其流向的因素是 _____。
- (3) 沿 120°E 经线从北冰洋沿岸到我国南方地区的自然带分布呈现 _____ 分异规律，形成该地域分异规律的主要因素是 _____。
- (4) D 所在国的区域发展阶段已处在 _____ 阶段，其农业生产布局最主要的特征是 _____。
- (5) 图中实线箭头表示二战后世界制造业的转移轨迹。发达地区向欠发达地区转移的主要是 _____ 密集型产业和 _____ 密集型产业，但转移过程中也伴随着污染的转移。

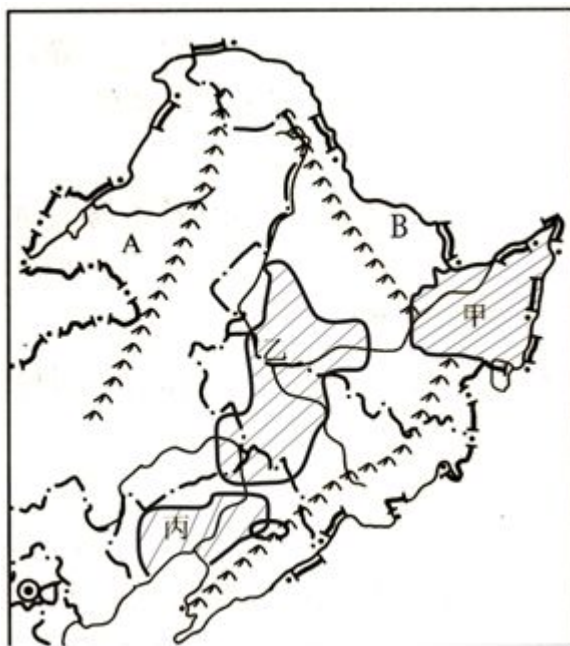
121. 读亚洲部分地区图，分析回答下列问题。（每空 1 分，共 10 分）



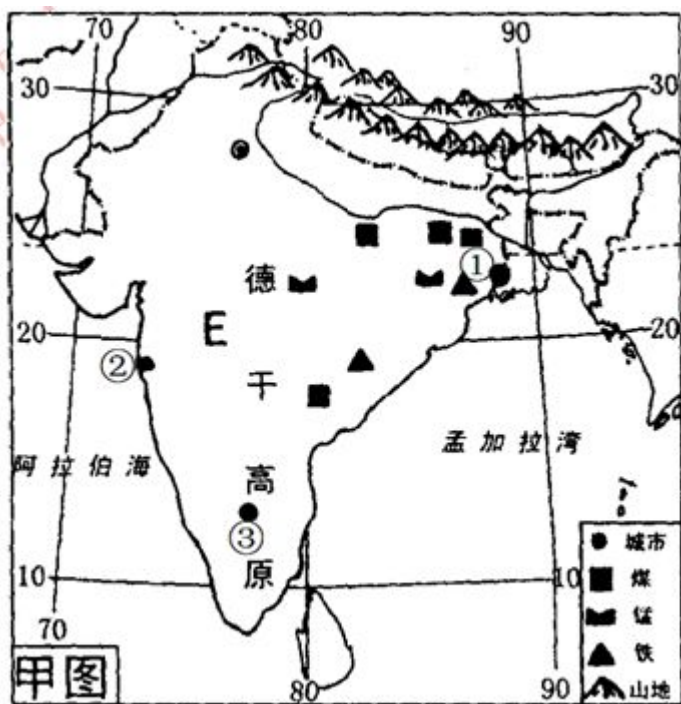
- (1) 图中 A 处冬季盛行 _____ 风，其形成原因是 _____。夏季，A 处最严重的气象灾害是 _____。
- (2) 若此时有一台风在台湾中部登陆，受其影响，B 处的风向是 _____ 风。
- (3) 图中 D 处有著名的 _____ 渔场，其主要成因是 _____。
- (4) 若有一条晨线经过 BCD 三点，则 A 地处于 _____（白昼或黑夜）；B 地的白昼比 D 地 _____。
- (5) 若把珠穆朗玛峰放在 A、B、D 三处，垂直带谱最复杂的是 _____ 地。原因是 _____。

122.读东北区自然地理环境概况分布图，回答下列问题：（10分）

- (1) 填出 A 山脉的名称_____；
- (2) 填出 B 河流的名称_____；
- (3) 填出甲平原的名称_____；
- (4) 该地区已经形成了粮食作物的地区专业化，写出下列地点主要的农产品：
乙 _____；
丙 _____；
- (5) 限制该区域农业发展的气候条件是_____；
- (6) 对东北商品粮基地建设有利的自然条件和社会经济条件有哪些？



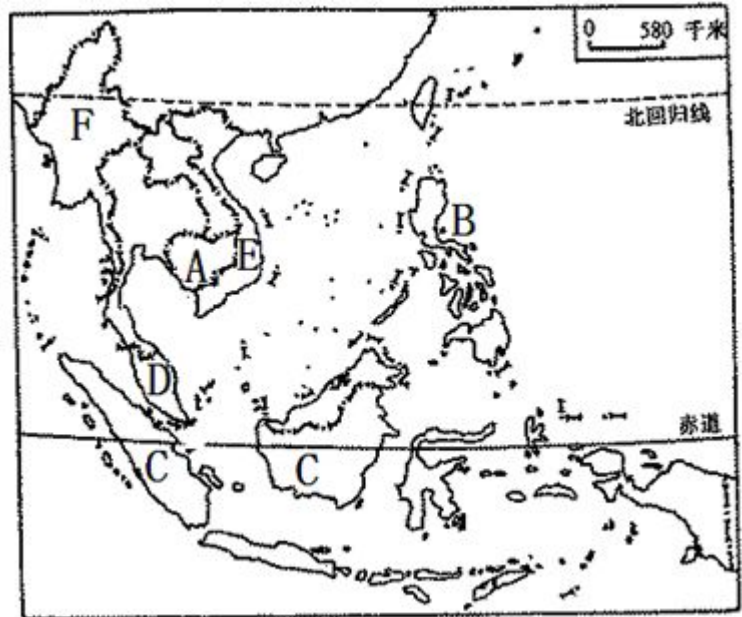
123.甲图为印度简图，读图回答：（8分）



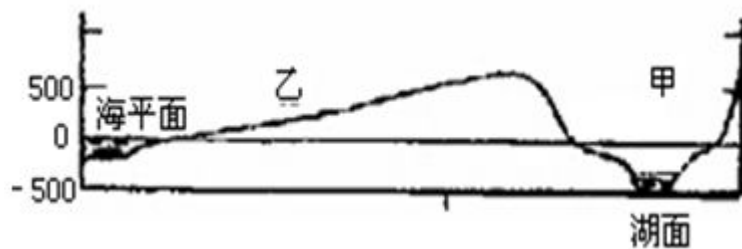
- (1) 本国 7 月盛行_____风，其形成原因是南半球的_____风北移越过赤道受_____向右偏形成的。
- (2) 图中①②③三个城市中，_____（填城市名称）是以新兴工业为主的城市，孟买是印度最大的海港，其_____工业发达。印度的麻纺织工业中心是图中的_____（填城市名称）。
- (3) 印度的水稻主要分布在印度半岛的_____和_____地区，主要是深受这里的地形和气候的影响。

124.读下图，回答：（6分）。

- (1)A 所在半岛地形的主要特点是_____。
- (2)D、F 两地气候类型分别是：_____、_____。
- (3)该地区最大的石油生产国是_____；（填国家名称）
- (4)该区流经国家最多的河流在_____入海。（填国家名称）
- (5)世界上华人华侨占人口比例最高的国家是本区的_____。（填国家名称）



125.下图是沿 31.5°N 纬线所作的世界某一地区的地形剖面图，据此回答下列各题。



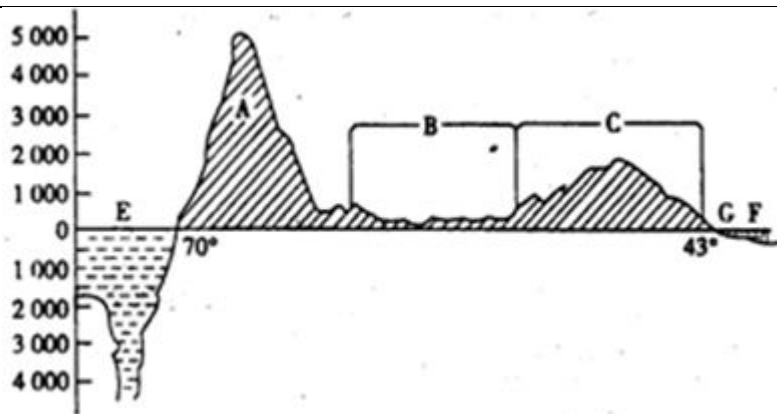
- (1)甲地的地质构造是() A.地垒 B.地堑 C.向斜 D.背斜
- (2)关于乙地叙述，正确的是()
A.以黄色人种为主，多信仰伊斯兰教 B.社会稳定，经济高度发达
C.终年温和多雨 D.夏季气候炎热干燥，水资源紧缺
- (3)图中城市是世界著名的宗教圣地，其名称是()
A.梵蒂冈 B.圣地亚哥 C.耶路撒冷 D.麦加

126.读“东北地区地形”图，回答下列问题：（8分）

- (1)图中的山脉名称是：
A _____，B _____，C _____。
- (2)图中的平原名称是：
甲 _____，乙 _____，丙 _____。
- (3)图中的河流名称是：
E _____，F _____。



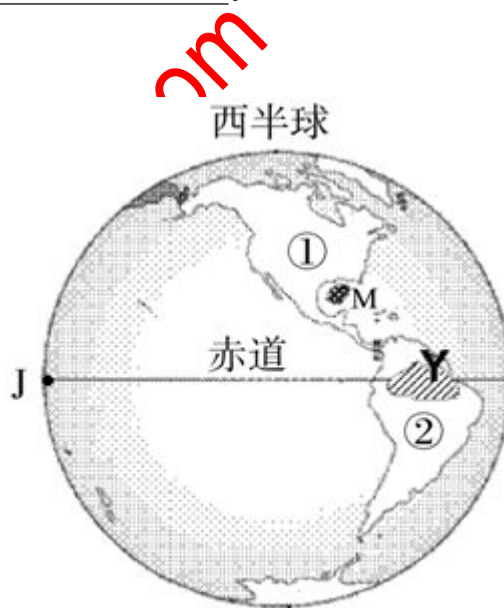
127.图是“南纬 22°地形剖面图”，读图回答：（9分）



- (1) 图中的经度是_____（东经和西经）。
- (2) 地形名称：A_____ B_____ C_____。
- (3) 大洋名称：F_____ E_____；E处海底地形称_____，形成原因是_____。
- (4) E处洋流名称为_____。

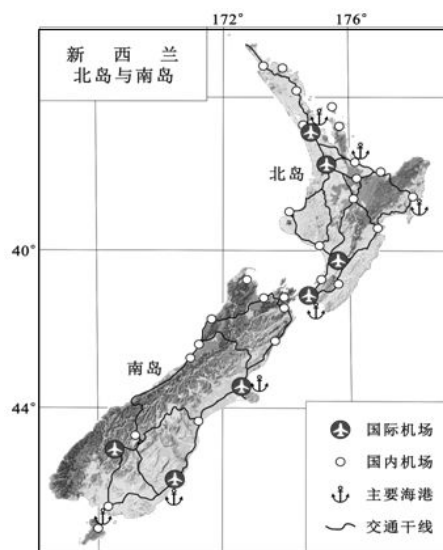
128.读西半球图，完成下列内容。（6分）

- (1)图中J地点的经度为_____。
- (2)①是北美洲、②是_____洲，此两洲之间的分界线是_____运河。
- (3)2010年5月遭受石油严重污染的M海湾是墨西哥湾，它属于_____洋。
- (4)图中Y区域属于_____气候。
- (5)①②大洲西部的大洋是_____洋。



129.读图，回答问题。颜色越深海拔越高。

- (1)简述新西兰对外联系的交通运输方式及其原因。（4分）
- (2)与南岛相比，说出北岛经济发展的地理条件优势。（4分）





北京博飛WWW.PKUZYW.COM