

2010 年暨南大学、华侨大学招收港、 澳、台、华侨、华人及其他外籍 学生入学考试题目 地理(A)

答卷时间：2 小时

一、填空题（填对一空得 1 分，全题 20 分）

1. 习惯上，将震级在_____且人们感觉不到的地震称为微震，震源在_____的地震称为浅源地震。
2. 大气运动的能量来源于_____。大气产生水平 运动的原动力是_____。
3. 我国 1 月 0℃等温线大致沿_____东南边缘向东经_____一线。_____毫米等降水量线所通过的地区同 1 月 0℃等温线所通过的地区大体一致。
4. 一般来说，具有_____结构和常含有_____是沉积岩的两个重要特征。
5. 影响植物分布最重要的条件是气候。因为气候决定了植物生长所需的_____、
_____和_____的数量。
6. 南极大陆的气候属于_____气候，其特征是_____、_____、_____。
7. 气旋由中心向外围，其气压越来越_____。
8. 风力、流水、冰川、波浪等对_____及其_____的破坏作用，叫做侵蚀作用。
9. 岩层向下弯曲，中心部分岩层较新，两翼岩层较老的褶曲，称为_____。

二、单项选择题（下列各小题均有四个答案，其中只有一个是正确的，请把正确的答案的序号填在题后的括号中，选对一题得 3 分，全题 60 分）

1. 地面状况不同，对太阳辐射的反射率也不同。下面反射率最大的地面是（ ）
A. 植被 B. 新雪 C. 沙土 D. 海洋
2. 南半球海洋上气温最高值出现在（ ）
A. 6 月 B. 8 月 C. 2 月 D. 12 月
3. 在一般年份，6 月中旬时，我国雨带的位置在（ ）
A. 长江中下游地区 B. 南部沿海地区
C. 黄河中下游地区 D. 华北、东北地区
4. 中国土地资源对发展农业有利的方面是（ ）
A. 人均耕地多 B. 各类土地资源分布均衡
C. 山地多，平地少 D. 土地资源类型多样
5. 两极地区降水少的原因是（ ）

- A. 在副热带高气压带控制下，降水少
B. 这个地区终年气温很低，气流下沉增温，不易成云降雨
C. 处在大陆的背风海岸，湿润气流难以到达，降水少
D. 沿岸有寒流流经，使近地面空气减温减湿，降水稀少
6. 日本钢铁工业较发达，其国内可利用的最主要的有利条件是()
A. 有丰富的水力、电力资源
B. 国民经济发展水平高
C. 有优良港湾，发展海上贸易
D. 有丰富的人力资源
7. 既是该国首都，又是该国最大港口和最大城市的是()
A. 雅加达
B. 纽约
C. 悉尼
D. 利物浦
8. 北大西洋暖流属于()
A. 风海流
B. 密度流
C. 水平补偿流
D. 垂直补偿流
9. 北极圈和北回归线都通过的国家是()
A. 加拿大
B. 美国
C. 中国
D. 俄罗斯
10. 世界第一长河是()
A. 亚马孙河
B. 长江
C. 尼罗河
D. 恒河
11. 从中国长城站乘飞机沿太平洋上空到北京，其航程的基本方向是()
A. 东北
B. 西北
C. 西南
D. 正北
12. 以下旅游地与所属省区搭配正确的是()
A. 八达岭位于内蒙古
B. 桂林位于广东
C. 黄山位于江苏
D. 莫高窟位于甘肃
13. 中国气候与世界同纬度地区相比()
A. 冬冷夏热
B. 冬寒夏凉
C. 冬温夏热
D. 冬暖夏凉
14. 拉丁美洲的范围是()
A. 包括美国及其以南的整个美洲地区
B. 美国以南的整个美洲地区
C. 巴拿马以南的美洲地区
D. 墨西哥以南的美洲地区
15. 甲地一年中每天正午的日影均为朝向南方，这一地方位于()
A. 赤道地区
B. 南回归线以南
C. 南极地区
D. 北回归线以北
16. 在北半球，反气旋空气的流动方向是()
A. 反时针
B. 顺时针
C. 向上升腾
D. 无定向推进
17. 对流雨的基本成因是，近地面空气()
A. 自南向北与其他气团的对流运动
B. 自北向南与其他气团的对流运动
C. 受急剧南下的冷空气的对流冲击
D. 强烈受热引起热力的对流运动
18. 地震的分布呈一种有规律的带状，叫地震带。地震带具有如下特征()
A. 人口密度较大
B. 人口密度较稀少
C. 地应力比较集中
D. 人类的破坏力较大
19. 在生态系统中属于生产者的是()

- A. 植物 B. 动物 C. 微生物 D. 人类
20. 下列哪一状况是符合中国水资源空间分布的基本规律的()
- A. 东多西少 B. 西多东少 C. 东多西多 D. 东少西少

三、判断改正题（答案用符号填入括号内，正确符号：√；不正确符号：×。需改正的，请在保留有下划线的词或句子的基础上写出正确句子。每小题 2 分，共 10 分）

1. 治黄的关键是治沙问题，治黄之本是搞好黄河上游青藏高原的水土保持工作。()
2. 对中国季风区降水影响最显著的季风是西南季风。()
3. 在气温正常的年份，淮河在冬季不会因为结冰而停航。()
4. 温带海洋性气候最典型、分布范围最广的地区是东南亚。()
5. 中国土地资源的构成中，耕地和林地所占比重大。()

四、读图填空或连线题（每填对一空或连对一条线得 2 分，全题 40 分）

1. 写出图中序号代表的地理事物（它们分别是渤海、黄海、东海、南海、朝鲜、韩国、日本、菲律宾）的名称：①_____海；②_____海；③_____海；④_____海；⑤_____（国）；⑥_____（国）；⑦_____（国）；⑧_____（国）。



2. 将下列风带与其气流的运动方式用直线连接起来：
- | | | |
|----------|--------------------|---------|
| A. 信风带 | ①由较低纬度流向较高纬度的水平气流 | I 高纬度 |
| B. 极地东风带 | ②由较高纬度流向较低纬度的水平气流 | II 中纬度 |
| C. 西风带 | ③由极地高压带流向较低纬度的水平气流 | III 低纬度 |
3. 将下列五带与其对应的太阳高度、气候特征用直线连接起来：
- | | | |
|-------|--------|--------|
| A. 热带 | ①太阳高度低 | I 四季分明 |
|-------|--------|--------|

B. 南北温带

②介于两者之间

II 终年寒冷

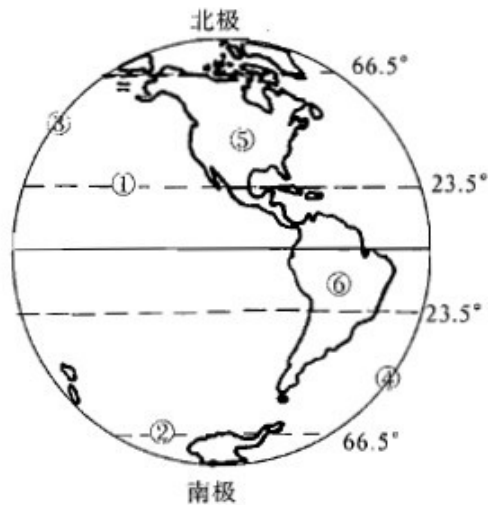
C. 南北寒带

③有太阳直射现象

III 终年高温

五、读图分析题（每小题 10 分，全题 20 分）

1. 读西半球地图回答：



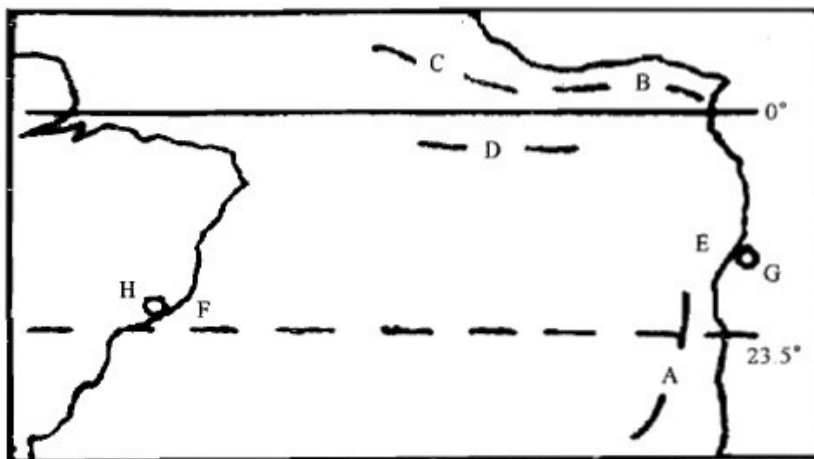
(1) 图中数码代表的纬线名称：①_____，②_____。

(2) 图中数码代表的经线度数：③_____，④_____。

(3) 根据五带划分：⑤处属_____带，⑥处属_____带。

(4) 从经济发展水平上看，⑤处所属国家为_____国家，⑥处所属国家为_____国家。

2. 读某地洋流示意图回答如下问题：



(1) 在图上加箭头表示各洋流的流向。

(2) 写出各洋流的名称：A_____，B_____，C_____，D_____。

(3) E、F 两处海域，盐度较大的是_____处，这是由于 E 处_____，F 处_____。

2010 年暨南大学、华侨大学招收港、 澳、台、华侨、华人及其他外籍 学生入学考试答案 地理(A)

一、填空题（共 20 分，填对一空得 1 分）

- 1.三级以下 70 公里以上 2.太阳辐射 水平气压梯度力 3.青藏高原 秦岭-淮河 800
4.层理 化石 5.热量 光照 水分 6.冰原 酷寒 烈风 暴雨 7.高 8.地表岩石 风
化产物 9.向斜

二、单项选择题（共 60 分，选对一题得 3 分）

- 1.B 3.C 3.A 4.D 5.B 6.C 7.A 8.A 9.B 10.C 11.B 12.D 13.A 14.B 15.B 16.B
17.D 18.C 19.A 20.A

三、判断改正题（共 10 分，判断对一条得 2 分，具体为：1+1 分）

- 1.×，治黄的关键是治沙问题，治黄之本是搞好黄河中游黄土高原的水土保持工作。
2.×，对中国季风区降水影响最显著的季风是东南季风。
3.√
4.×，温带海洋性气候最典型、分布范围最广的地区是西欧。
5.×，中国土地资源的构成中，耕地和林地所占比重小。

四、读图填空或连线题（共 40 分，连对一线或填对一空得 2 分）

- 1.（每空 1 分）①渤 ②黄 ③东 ④南 ⑤朝鲜 ⑥韩国 ⑦日本 ⑧菲律宾
2.A-②-III B-③-I C-①-II 3.A-③-III B-②-I C-①-II

五、读图分析题（共 20 分，每小题 10 分）

- 1.（第三空 3 分，其他每空 1 分）

- (1) ①北回归线 ②南极圈 (2) ③160°E ④20°W
(3) ⑤北温 ⑥热 (4) 发达 发展中

- 2.（最后两空各 2 分，第（1）题及其他空各 1 分）

- (1) 略 (2) 本格拉寒流 几内亚湾暖流 赤道逆流 南赤道暖流
(3) E 附近气候干燥少雨，蒸发大，缺乏河水注入 气候多雨，蒸发较少，有大量河水注入

2010 年暨南大学、华侨大学招收港、 澳、台、华侨、华人及其他外籍 学生入学考试题目 地理（B）

答卷时间：2 小时

一、填空题（填对一空得 1 分，全题 20 分）

1. 为了使人口数量的增长同_____和_____相适应，中国政府把_____作为一项长期的基本国策。
2. 从_____带吹向_____带的定向风，在北半球向_____偏转，成为东北信风。
3. 反气旋由中心向外围，其气压越来越_____。
4. 地震一般指岩石圈的天然震动，按其成因可以分_____和_____两种基本类型。
5. 岩层向上拱起，中心部分岩层较老，两翼岩层较新的褶曲，称为_____。
6. 埋藏在上下两个隔水层之间，承受一定压力的地下水，叫做_____。
7. 世界各地地表水的多少，取决于降水量与蒸发量的对比关系，这两个量之差就是_____。
8. 从自然界中直接取得的天然能源，叫做_____能源；对其进行加工后转换成人们需要的另一种形式的能源，叫做_____能源。
9. 中国的长江水系和珠江水系的分水岭是_____山脉，巫山是_____盆地和_____平原的分界线。
10. 城市上空的灰霾比农村地区多，是城市空气中的_____较多的缘故；山地较平地降水多，一般则是山地对气流的_____作用所然。
11. 水循环是指自然界的水在水圈、生物圈、大气圈和_____四大圈层中通过各个环节连续运动的过程。

二、单项选择题（下列各小题均有四个答案，其中只有一个是正确的，请把正确的答案的序号填在题后的括弧中，选对一题得 3 分，全题 60 分）

1. 中国最大的群岛是（ ）
A. 舟山群岛 B. 万山群岛 C. 南沙群岛 D. 西沙群岛
2. 位于中国地势第一级阶梯上的地形区是（ ）
A. 内蒙古高原 B. 塔里木盆地 C. 准噶尔盆地 D. 青藏高原
3. 洛杉矶和上海地理纬度相近，但两地的气候类型不同，主要原因是（ ）
A. 两地所处的气压带、风带不同 B. 两地的太阳辐射不同
C. 两地的海拔高度不同 D. 两地所处的海陆位置不同
4. 赤道地带属于（ ）

- A.全年多雨 B.全年少雨 C.夏季多雨 D.冬季多雨
- 5.当非洲南部地中海气候区处在干燥的季节时（ ）
- A.中国大部分地区降水稀少 B.地中海沿岸也处在干燥的季节
- C.悉尼也处在降水较少的时候 D.南亚盛行西南季风
- 6.以苏伊士运河为分界线的两个大洲是（ ）
- A.亚洲、非洲 B.亚洲、欧洲 C.非洲、北美洲 D.欧洲、非洲
- 7.美国最重要的农作物是（ ）
- A.玉米 B.小麦 C.大豆 D.水稻
- 8.世界上流量最大、流域面积最广的河流是（ ）
- A.尼罗河 B.刚果河 C.密西西比河 D.亚马逊河
- 9.中国季风气候具有的特点是（ ）
- A.降水季节分配均匀 B.大陆性特征显著
- C.春夏多雨，夏秋少雨 D.海洋性特征显著
- 10.我国的秦岭—淮河一线是（ ）
- A.热带与亚热带的分界线 B.湿润与半湿润地区的分界线
- C.暖温带与中温带的分界线 D.半湿润与半干旱地区的分界线
- 11.以下旅游地与所属省区搭配有误的是（ ）
- A.八达岭位于北京 B.桂林位于广西
- C.黄山位于江苏 D.莫高窟位于甘肃
- 12.由于地球自转偏向力的作用，北半球做水平运动的物体将发生如下偏转（ ）
- A.向上 B.向下 C.向左 D.向右
- 13.甲地一年中每天正午的日影均为朝向北方，这一地方位于（ ）
- A.赤道地区 B.北回归线以北 C.南极地区 D.南回归线以南
- 14.坐落在北太平洋中部的美国海外洲是（ ）
- A.俄罗里达洲 B.夏威夷州 C.加利福尼亚洲 D.得克萨斯州
- 15.在北半球，气旋的空氣的流动方向是（ ）
- A.逆时针 B.顺时针 C.以下沉为主 D.无定向推进
- 16.形成季风的重要原因是（ ）
- A.海陆热力性质差异 B.海洋热容量的季节性变化
- C.陆地热容量的季节性变化 D.风力大小的季节性变化
- 17.生态系统中的生产者指的是（ ）
- A.处于生产第一线的工人 B.农庄职工
- C.维护生态环境的管理者 D.制造有机物的绿色植物
- 18.下列状况符合中国水资源空间分布基本规律的是（ ）
- A.南多北少 B.南少北多 C.南多北多 D.南少北少
- 19.下列两个经济发达国家目前均可以做到能源自给的是（ ）
- A.美国和比利时 B.日本和美国
- C.日本和意大利 D.英国和加拿大

20. 下列不是城市主要特征的是 ()

- A. 大城市和中小城市数量增加
- B. 城市人口比例增加
- C. 现代产业均得到更好的发展
- D. 非农业产业比例增加

三、判断改正题（答案用符号填入括号内，正确符号：√；不正确符号：×。需改正的，请在保留有下划线的词或句子的基础上写出正确的句子。每小题 2 分，共 10 分）

1. 塔里木河是中国唯一流入北冰洋的外流河。()
2. 中国地势第三级梯上的主要地形类型是丘陵和高原。()
3. 云贵高原上多山间盆地，是当地主要的农耕区。()
4. 在中国，气候和地势是决定自然地理环境差异的两个基本因素。()
5. 临海型工业布局的优点在于可以充分地利用海水资源。()

四、读图填空或连线题（每填对一空或连对一条线得 2 分，全题 40 分）

1. 将下面的气压带与其气流运动形式用直线连接起来：

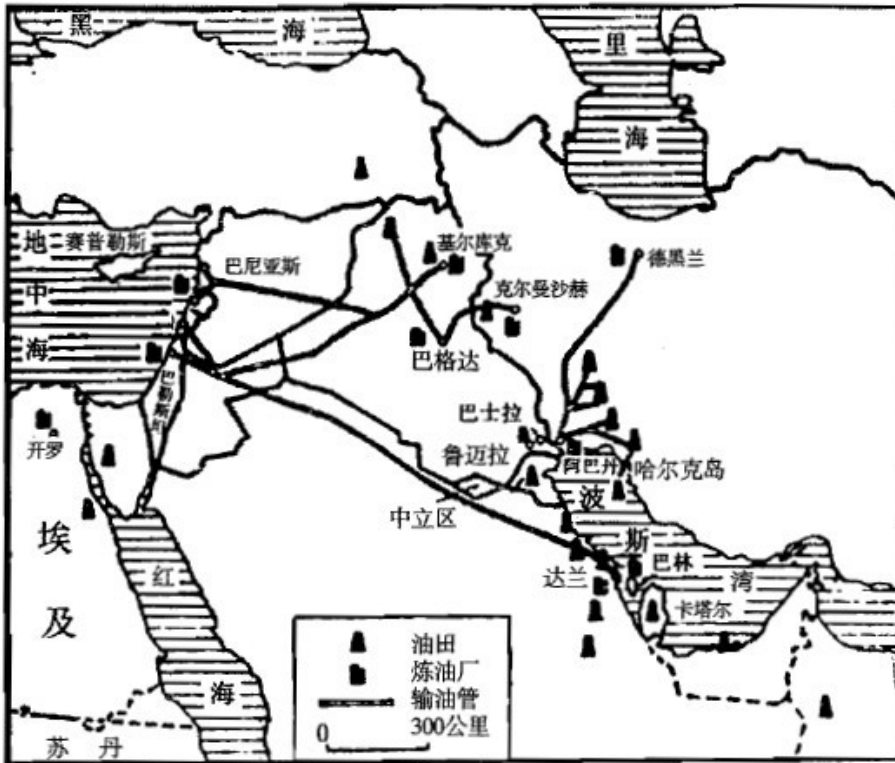
- | | |
|------------|------------|
| A. 赤道低气压带 | ①盛行下沉气流 |
| B. 极地高气压带 | ②盛行上升气流 |
| C. 副极地低气压带 | ③气流以上升运动为主 |
| D. 副热带高气压带 | ④气流以下沉运动为主 |

2. 将下列国家与其所属区域用直线连接起来

- | | |
|---------|---------|
| A. 法国 | ①大洋洲 |
| B. 加拿大 | ②西欧 |
| C. 智利 | ③北美洲 |
| D. 澳大利亚 | ④南美洲 |
| E. 斯里兰卡 | ⑤东南亚 |
| F. 马来西亚 | ⑥南欧 |
| G. 约旦 | ⑦东欧 |
| H. 西班牙 | ⑧西亚 |
| I. 波兰 | ⑨南亚 |
| J. 索马里 | ⑩非洲 |
| K. 新西兰 | (11)大洋洲 |

3. 读图并填空：西亚石油带以_____为中心，向西 北延伸到_____和

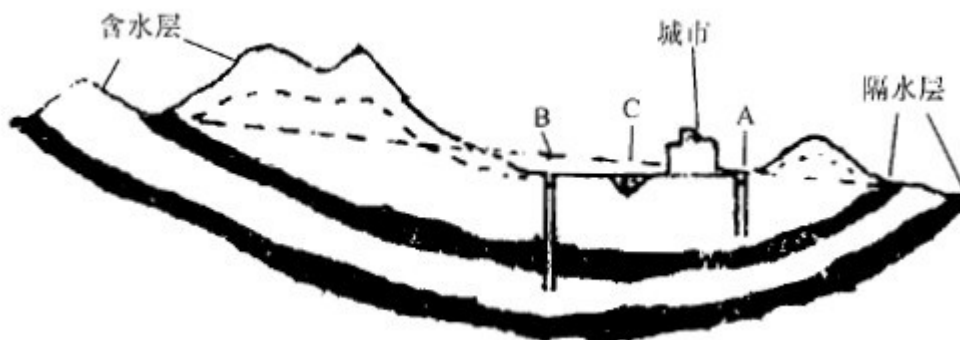
等国，向东南沿_____北边沿岸抵_____境内。



五、读图分析题（每小题 10 分，全题 20 分）

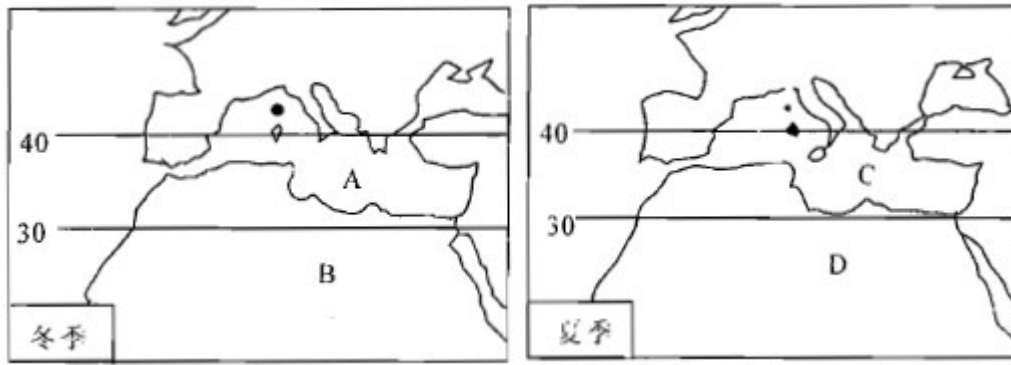
1. 读下图回答如下关于 A、B 两井和 C 河的补给和水位变化的问题，

- (1) 雨季时，它们的共同补给来源是_____，A 井的主要补给来源是_____。
- (2) 雨季结束时，C 河水位较高，A 井补给来源有_____和_____。
- (3) 如长期干旱，C 河干涸，A 井的水位将会_____，B 井的水位则_____。
- (4) 如果要避免 B 井在旱季长期取用地下水形成地下漏斗区，应采取的措施是_____。



2. 读下面两图回答：

- (1) 按全球气压带、风带分布规律，A 处应受_____带控制，B 处应受_____带控制，C 处应受_____带控制，D 处应受_____带控制。
- (2) 由于海陆热力性质差异，A 处的气压_____是中心，气流_____；C 处的气压是_____中心，气流_____。



2010 年暨南大学、华侨大学招收港、 澳、台、华侨、华人及其他外籍 学生入学考试答案 地理（B）

一、填空题（共 20 分，填对一空得 1 分）

- 1.社会经济发展 资源环境条件 计划生育 2.副热带高压 赤道低气压 右
3.低 4.构造地震 火山地震 5.背斜 6.承压地下水或自流水 7.径流量
8.一次 二次 9.南岭 四川 长江中下游 10.尘埃较多 抬升 11.岩石圈

二、单项选择题（共 60 分，选对一题得 3 分）

- 1.A 2.D 3.D 4.A 5.A 6.A 7.A 8.D 9.B 10.B 11.C 12.D 13.B 14.B 15.A 16.A
17.D 18.A 19.D 20.C

三、判断改正题（共 10 分，判断对一条得 2 分，具体为：1+1 分）

- 1.×,额尔齐斯河是中国唯一流入北冰洋的外流河。
2.×, 中国地势第三级梯上的主要地形类型是平原和丘陵。
3.√
4.√
5.×, 临海型工业布局的优点在于可以拥有便捷且廉价的海运条件。

四、读图填空或连线题（共 40 分，连对一线或填对一空得 2 分）

- 1.A-②③ B-①④ C-②③ D-①④
2.A-② B-③ C-④ D-①② E-⑨ F-⑤ G-⑧ H-⑥ I-⑦ J-⑩ K-①②
3.波斯湾 伊拉克（或叙利亚、土耳其） 叙利亚（或伊拉克）
波斯湾（或沙特阿拉伯、科威特、阿联酋）
阿曼（或伊朗、沙特阿拉伯、阿联酋、霍尔木兹海峡）

五、读图分析题（共 20 分，每小题 10 分）

- 1.（1）大气降水（1分） 潜水（1分） （2）潜水（1分） 河水（1分）
（3）不断下降，以致干涸（2分） 保持一定（2分）
（4）在雨季抽河水入 B 井回灌（限制 B 井取水、合理采水，可适当给分）（4分）
2.（1）西风 副热带高压 副热带高压 东北信风（各 1 分）
（2）低压 上升 高压 下沉